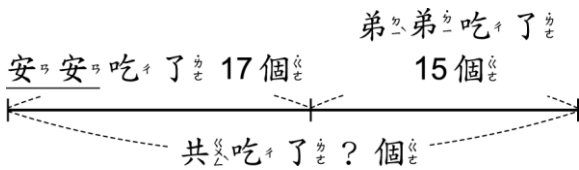


一、寫出算式做做看：每題 5 分，共 100 分

1. 一顆水梨賣 45 元，一顆甜柿賣 48 元，各買一顆共要付幾元？

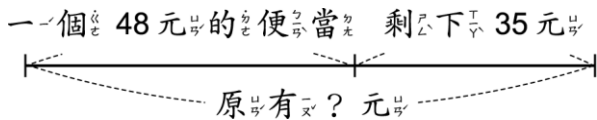
2. 安安吃了 17 個鍋貼，弟弟吃了 15 個，安安和弟弟一共吃了幾個鍋貼？



3. 小華有 50 元，想買一盒 12 色的彩色筆，但是不夠 49 元，一盒 12 色的彩色筆多少元？小華有 50 元 不夠 49 元

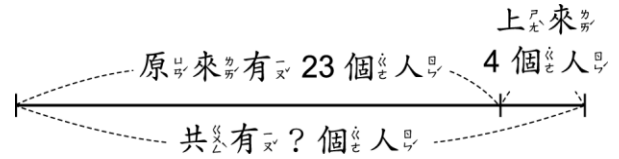


4. 一個便當 48 元，爸爸買了 1 個便當後，還剩下 35 元，爸爸原有幾元？

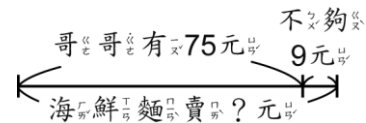


5. 公車上原有 23 個人，靠站後又上來 4 個人，現在公車上共有幾個人？寫出直式算算看。

看。



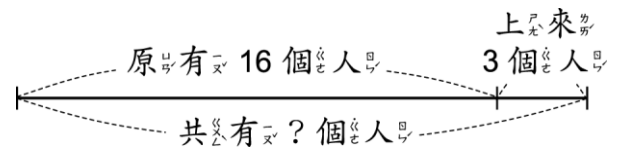
6. 哥哥有 75 元，想買一碗海鮮麵，但還不夠 9 元，這碗海鮮麵賣多少元？



7. 阿凱有 26 張貼紙，小芳比阿凱多 14 張，小芳有幾張貼紙？

8. 弟弟買了一杯 35 元的果汁，又買了一包 37 元的洋芋片。弟弟總共花了幾元？

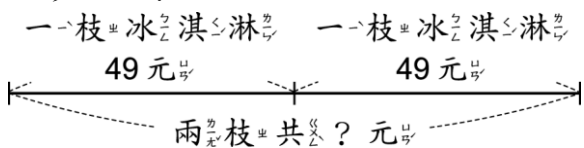
9. 公車上原有 16 個人，又上來 3 個人，現在公車上共有幾個人？寫出直式算算看。



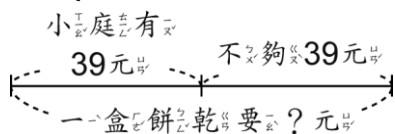
10. 桌上有 27 枝鉛筆，彩色筆比鉛筆多 8 枝，彩色筆有幾枝？寫出直式算算看。

11. 摸彩箱裡有 19 顆藍球，黃球比藍球多 5 顆，黃球有幾顆？

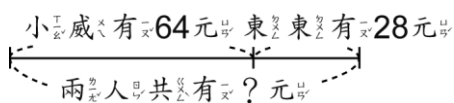
12. 一枝冰淇淋 49 元，哥哥買了 2 枝，付了 100 元，可以找回多少元？



13. 小庭有 39 元，到超市想買一盒餅乾，不夠 39 元，一盒餅乾要幾元？

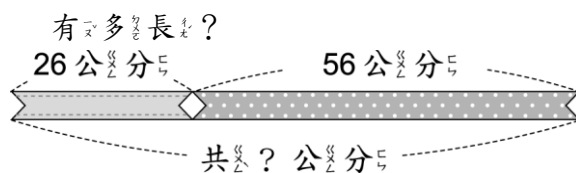


14. 小威有 64 元，東東有 28 元，兩人共有幾元？



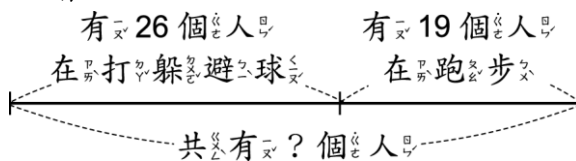
15. 琪琪從錢包裡拿出 7 元後，錢包裡剩下 35 元，錢包裡原有多少元？

16. 姐姐把兩條分別長 26 公分和 56 公分的緞帶接起來，一共有多長？



17. 盒子裡有 18 顆藍球，黃球比藍球多 27 顆，黃球有幾顆？寫出直式算算看。

18. 操場上有 26 個人打躲避球，19 個人跑步，操場上共有多少個人？寫出直式算算看。



19. 講台上 33 枝紅色粉筆，白色粉筆比紅色粉筆多 14 枝，白色粉筆有幾枝？寫出直式算算看。

20. 小嘉原有 56 元，想買一個玩具車，還不夠 18 元，這個玩具車賣幾元？