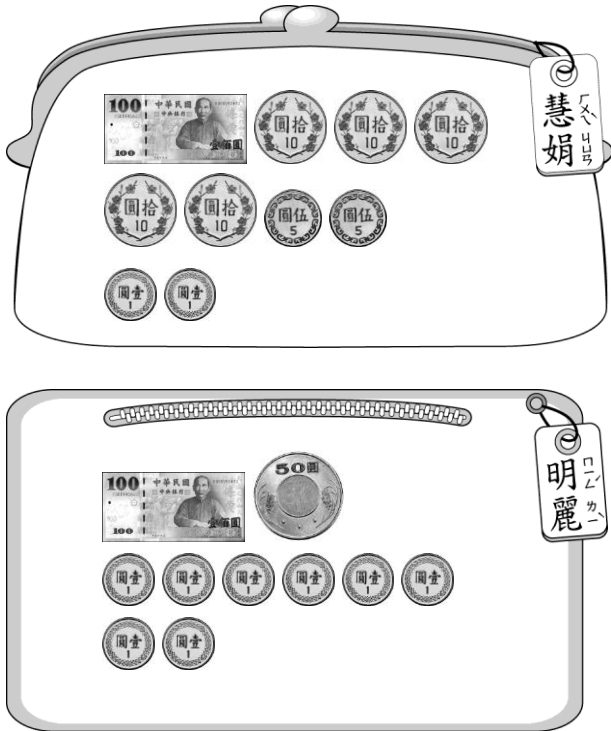
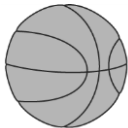
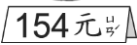




一、選出正確的答案（選擇題）：每題5分，共30分

1. ( ) 慧娟和明麗各買了一個158元的鉛筆盒，誰付完錢後，錢包裡還剩下錢？



- ① 慧娟 ② 明麗 ③ 兩個都沒有。

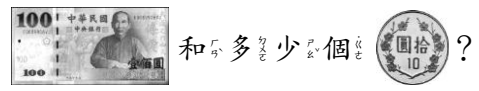
2. ( ) 小新有  $\boxed{100}$   $\text{\textcircled{10}}$   $\text{\textcircled{10}}$   $\text{\textcircled{10}}$   $\text{\textcircled{1}}$   $\text{\textcircled{1}}$   $\text{\textcircled{1}}$   $\text{\textcircled{1}}$   $\text{\textcircled{1}}$   $\text{\textcircled{1}}$  元，不夠買下面哪一樣東西？ ①  ②  ③  ④ 

3. ( )  $138 < \square < 158$ ， $\square$  中的數可能比109多或少？ ① 148 ② 120 ③ 109。

4. ( ) 下面哪一個寫法錯誤？ ①  $151 > 150$  ②  $168 > 186$  ③  $102 <$

112。

5. ( ) 阿寶買了一份136元的炸雞套餐，至少要付1張



- 和多少個？ ① 2個 ② 4個 ③ 6個。

6. ( ) 小平忘記家裡的密碼鎖是幾號，只記得是在140和160之間，小平家的密碼鎖可能是下面哪一個數？ ① 138 ② 158 ③ 178。

二、填入 >、< 或 =：每題2分，共16分

1.  $108 \square 180$   
 2.  $166 \square 155$   
 3.  $98 \square 198$   
 4.  $108 \square 180$   
 5.  $125 \square 139$   
 6.  $196 \square 139$   
 7.  $165 \square 156$   
 8.  $200 \square 197$

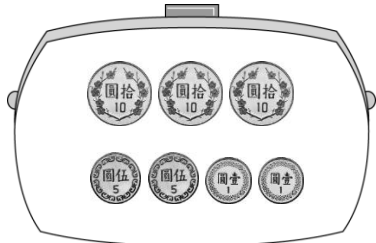
三、圈圈看：每格2分，共8分

1. 小英買了一份139元的漢堡套餐，怎麼付錢才會剛好？



2. 母親節到了，小禹和哥哥要一起買一束康乃馨送給媽媽，兩個人要怎麼付錢才會剛好？圈圈看。



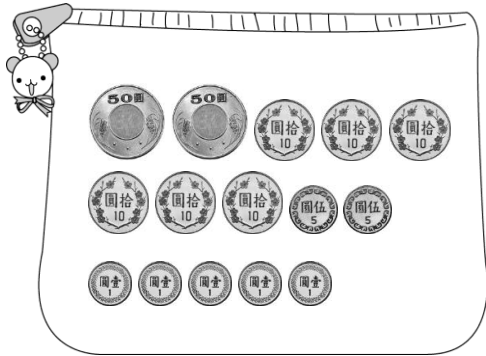


小禹的錢包

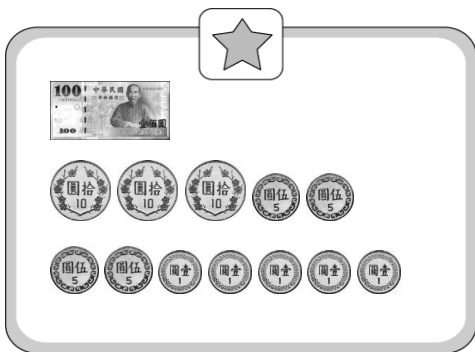


哥哥的錢包

3. 一個鉛筆盒 148 元，小奔和琪各買了一個，要怎麼付錢才夠？圈圈看。



小奔的錢包



琪琪的錢包

四、畫畫看：每題 2 分，共 4 分

1. 姐姐買了一把 108 元的雨傘，要怎麼付錢才會剛好？用

100、10 和 1 表示付錢的錢，畫畫看。

2. 先讀一讀商品的價格，再用 100、10 和 1 來表示要付的錢，怎樣付錢才會剛好？




五、回答問題：每格 2 分，共 38 分


1. 先在表下表中按照順序填數，再回答問題。


141	142	143	144	145			148	149	150
151	152	153			156	157	158		160
161			164	165	166	167	168	169	
	172	173	174	175	176	177	178		
181	182			185	186	187	188	189	190
191	192	193	194	195	196			199	200


- (1) 比 189 多 1 的數是 ( )  
 (2) 比 200 少 1 的數是 ( )  
 (3) 比 169 多 1 的數是 ( )  
 (4) 比 150 少 1 的數是 ( )


六、對的打√，錯的打×：每格 1 分，共 4 分

1.  可以換成多少？

( ) (1) 10 個 。

( ) (2) 2 個 。

( ) (3) 10 個 。

( ) (4) 100 個 。