

# 新北市中和區積穗國民小學 108 學年度第一學期二年級期中評量試卷

數學科 二年\_\_班 座號：\_\_ 姓名：\_\_

## 一、填填看看：(36分)

1. 按照順序填填看看。

- (1) 109 → ( ) → 111 → 112 → ( )
- (2) 105 → 115 → ( ) → ( ) → 145
- (3) 200 → ( ) → 180 → 170 → ( )
- (4) 135 → 140 → ( ) → 150 → ( )
- (5) 166 → ( ) → ( ) → 172 → 174

2. 把下面的數，從大到小排出來。

101    162    138    193

( ) > ( ) > ( ) > ( )

3. 寫出數字或讀法。

- (1) 一百二十八 ( )    (2) 一百五十 ( )
- (3) 一百一十一 ( )    (4) 一百零二 ( )
- (5) 118 讀作 ( )

4. 在大的數的( )裡打✓，小的數的打✕

(1) 176 ( ) , 167 ( )    (2) 150 ( ) , 161 ( )

5. 在□裡填入 > 或 <

(1) 130 □ 103                      (2) 167 □ 171

6. 用 100、⑩、① 畫畫看看。

(1) 156 元	(2) 139 元
-----------	-----------

7. 看數字回答問題。

80    128    8    185    148

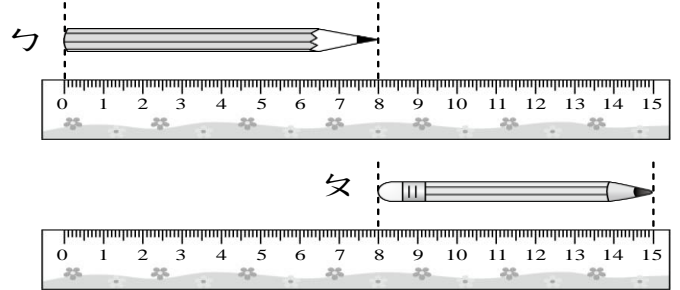
個位是 8 的數有 ( )、( )、( )

8. 想一想，填一填。

- (1) 小慶的零用錢比 115 元少 10 元，小慶有 ( ) 元。
- (2) 138 是 1 個百、( ) 個十和 ( ) 個一合起來的。
- (3) 1 個百、9 個十和 0 個一，合起來是 ( )。
- (4) 168 中 6 在 ( ) 位，1 在百位，8 在 ( ) 位。

## 二、看看圖回答：(14分)

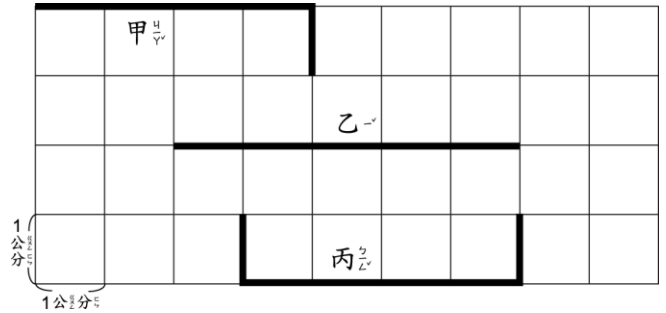
1. 兩枝鉛筆各長幾公分？在比較長的( ) 中打✓，小的打✕



(1) 鉛筆長 ( ) 公分。

(2) 鉛筆長 ( ) 公分。

2. 繩子有多長？

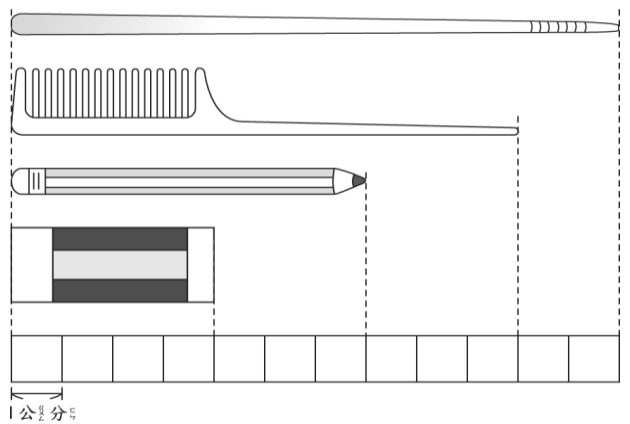


甲繩長 ( ) 公分

乙繩長 ( ) 公分

丙繩長 ( ) 公分

3. 一個( )長 1 公分，下面的物品各有多長？



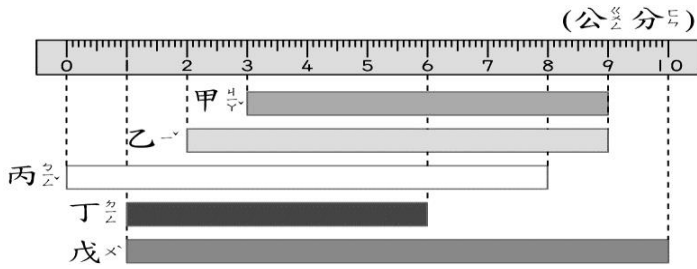
(1) 橡皮擦長 ( ) 公分。

(2) 鉛筆長 ( ) 公分。

(3) 梳子長 ( ) 公分。

(4) 尺子長 ( ) 公分。

4.



(1) 最長的是 ( ) (填代號)

(2) 最短的是 ( ) (填代號)

(3) 最長和最短相差 ( ) 公分

三、從起點開始畫線看看：(4分)

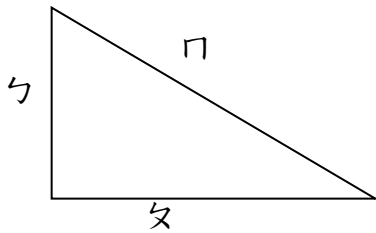
1. 用尺畫出 6 公分的直線

|

2. 用尺畫出 2 公分的直線

|

四、量量看，大約是多長？(6分)



(1) ㄅ 大約長 ( ) 公分。

(2) ㄆ 大約長 ( ) 公分。

(3) ㄏ 大約長 ( ) 公分。

五、寫出算式，用直式算答案，

並驗算(40分)

1. 花店上午賣了 24 朵，下午比上午多賣 15 朵，下午賣幾朵？

【算式】： \_\_\_\_\_

【直式】

答： ( )

2. 弘君有 52 元，想買果凍，不夠 28 元，果凍要多多少元？

【算式】： \_\_\_\_\_

【直式】

答： ( )

3. 跳舞時，25 位小朋友排成一排，糖果排在第 8 位，她後面還有幾位？

【算式】： \_\_\_\_\_

【直式】

【驗算】

答： ( )

4. 一顆皮球 36 元，孟潔買了 1 顆，剩下 18 元，她原有幾元？

【算式】： \_\_\_\_\_

【直式】

答： ( )

5. 廷亦有一 70 顆彈珠，璟森比他少 32 顆，璟森有幾顆彈珠？

【算式】： \_\_\_\_\_

【直式】

【驗算】

答： ( )