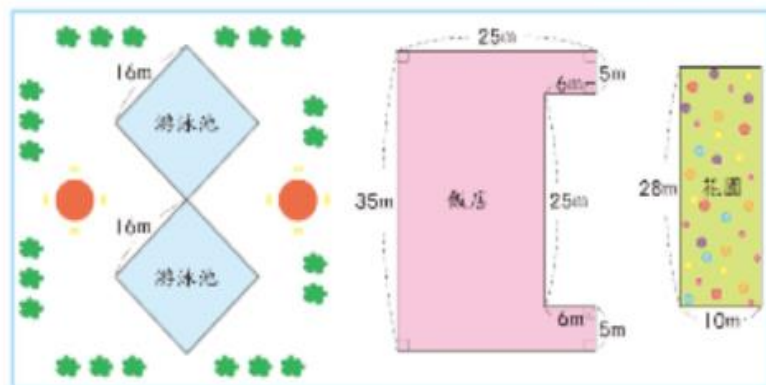


## 加油小站二

整頁全解

### 放大 1 杜拜大飯店

下面是脆笛叔的杜拜大飯店設計圖。他設計了一間飯店、一個長方形的花園和兩個正方形的游泳池：（做法僅供參考）



#### 放大 1 花園和兩個游泳池的周長各是幾公尺？

解  $(28+10) \times 2 = 76$   
 $16 \times 4 \times 2 = 128$


答：花園：76 公尺  
 兩個游泳池：128 公尺

#### 2 飯店和花園的面積各是幾平方公尺？

$35 \times 25 - 25 \times 6 = 725$   
 $28 \times 10 = 280$

答：飯店：725 平方公尺  
 花園：280 平方公尺

### 放大 2 體積的計算

解 1 個  是 1 立方公分。右邊的形體是幾立方公分？

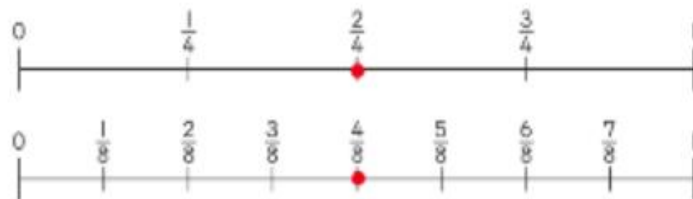
$$1 + 4 + 9 + 16 = 30$$

答：30 立方公分



### 放大 3 數線上異分母分數的大小比較

解 在數線上標出  $\frac{2}{4}$  和  $\frac{4}{8}$  的位置，並回答下面問題：



- $\frac{2}{4} = \frac{4}{8}$
- $\frac{6}{8} = \frac{3}{4}$
- $\frac{2}{4}$  和  $\frac{3}{8}$ ，哪一個比較小？（ $\frac{3}{8}$ ）
- $\frac{3}{4}$  和  $\frac{5}{8}$ ，哪一個比較大？（ $\frac{3}{4}$ ）

### 放大 4 海生館之旅

1 海生館開放時間是上午 8 時到下午 7 時，海生館一天開

解 放幾小時？

下午 7 時 = 19 時  
 $19 時 - 8 時 = 11 時$

答：11 小時

放大 2 小星一家人搭上午 7 時 30 分的客運，經過 1 小時 50 分鐘到達海生館，小星一家人什麼時候到達海生館？

$7 時 30 分 + 1 時 50 分$   
 $= 9 時 20 分$

答：上午 9 時 20 分