

一、哪個體積比較大？在 ( ) 裡打

✓：每題 5 分，共 10 分

(1)



( )

( ✓ )

(2)

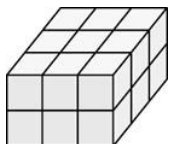


( )

( ✓ )

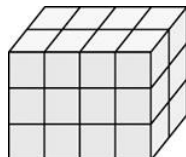
二、數數看，下面形體各是用幾個 堆疊成的？每題 7 分，共 14 分

(1)



( 18 ) 個

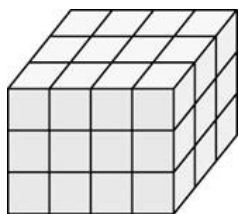
(2)



( 24 ) 個

三、1 個 的體積是 1 立方公分，

看圖填填看：每格 6 分，共 24 分



1 層有 ( 12 ) 個 ，有 ( 3 )

層，共有 ( 36 ) 個 ，是

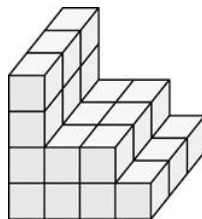
( 36 ) 立方公分。

四、1 個 的體積是 1 立方公分，

下面形體的體積各是幾立方公分？

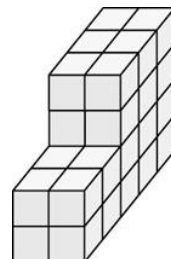
每題 8 分，共 32 分

(1)



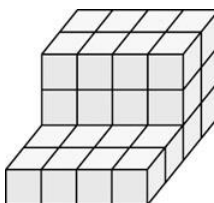
( 27 ) 立方公分

(2)



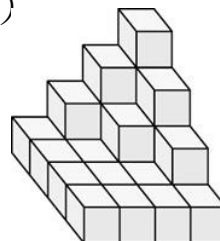
( 32 ) 立方公分

(3)



( 32 ) 立方公分

(4)



( 26 ) 立方公分

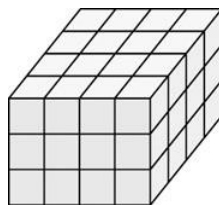
五、1 個 的體積是 1 立方公分，

下面形體的體積各是幾立方公分？

把做法用有乘號的算式記下來：

每題 10 分，共 20 分

(1)

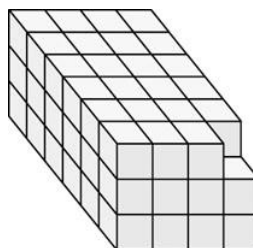


$$4 \times 4 = 16$$

$$16 \times 3 = 48$$

答：48 立方公分

(2)



$$4 \times 6 = 24$$

$$24 \times 3 = 72$$

$$72 - 1 = 71$$

答：71 立方公分