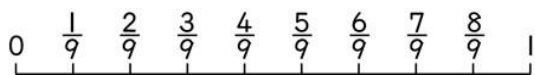
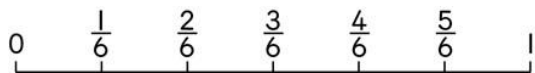


一、在下面的數線上找找看、填填看：

每題4分，共16分



(1) 和 $\frac{2}{3}$ 相等的分數有哪些？

($\frac{4}{6}$ 、 $\frac{6}{9}$)

(2) $\frac{5}{6}$ 和 $\frac{6}{9}$ ，哪一個比較大？

($\frac{5}{6}$)

(3) $\frac{1}{3}$ 和 $\frac{3}{9}$ ，哪一個比較大？

(一樣大)

(4) 上面數線上的分數，哪些在 $\frac{3}{9}$ 和

$\frac{6}{9}$ 之間？

($\frac{4}{9}$ 、 $\frac{3}{6}$ 、 $\frac{5}{9}$)

二、填填看：每格4分，共36分

(1) $\frac{3}{4} = \frac{3 \times 3}{4 \times 3} = \frac{(9)}{(12)}$

(2) $\frac{4}{5} = \frac{4 \times 2}{5 \times (2)} = \frac{(8)}{10}$

(3) $\frac{9}{10} = \frac{(90)}{100}$

(4) $1\frac{1}{2} = 1\frac{(4)}{8}$

(5) $1 = \frac{4}{(4)} = \frac{6}{(6)} = \frac{(9)}{9}$

三、把分數換成小數，小數換成分數：

每題3分，共18分

(1) $\frac{8}{5} = (1.6)$ (2) $3\frac{1}{2} = (3.5)$

(3) $\frac{49}{100} = (0.49)$ (4) $0.8 = (\frac{8}{10})$

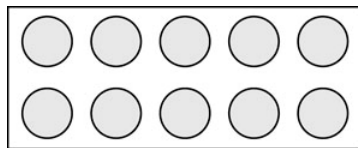
(5) $0.72 = (\frac{72}{100})$ (6) $3.84 = (3\frac{84}{100})$

四、在□中填入>、<或=：每題4分，共16分

(1) $0.9 \square \frac{99}{100}$ (2) $\frac{32}{10} \square 3.02$

(3) $1.06 \square 1\frac{6}{10}$ (4) $4\frac{7}{10} \square 4.7$

五、看圖做做看：每題7分，共14分



(1) 1盒月餅有10個，媽媽拿走 $\frac{2}{10}$

盒，阿姨拿走 $\frac{3}{5}$ 盒，誰拿走的月餅比較多？

$10 \div 5 = 2$

$\frac{3}{5} = \frac{3 \times 2}{5 \times 2} = \frac{6}{10}$

$\frac{2}{10} < \frac{6}{10}$ ， $\frac{2}{10} < \frac{3}{5}$

答：阿姨

(2) 小琪也買了1盒相同的月餅，送人 $\frac{4}{5}$ 盒， $\frac{4}{5}$ 盒和十分之幾盒月餅一樣多？

$10 \div 5 = 2$

$\frac{4}{5} = \frac{4 \times 2}{5 \times 2} = \frac{8}{10}$

答： $\frac{8}{10}$ 盒