


- 2 右邊是明宏家十月各項支出圓形圖。算算看，娛樂費所占的百分率是多少？(本題做法僅供參考)

$$144 \div 360 = 0.4 = 40\%$$

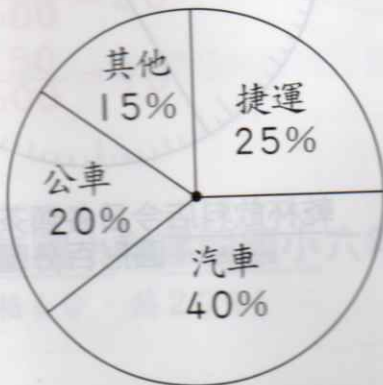
$$100\% - 40\% - 15\% - 10\% = 35\%$$



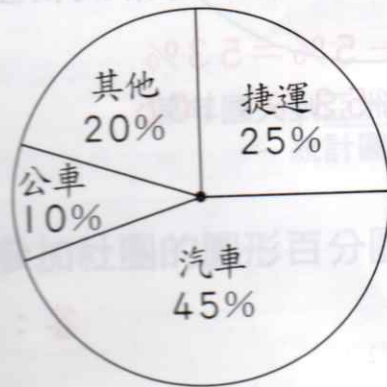
明宏家十月各項支出圓形圖

答：35%

- 3 下面是奔騰公司和百達公司员工上班搭乘交通工具圓形圖，看圖回答問題。



奔騰公司員工上班搭乘交通工具圓形圖 (共400人)



百達公司員工上班搭乘交通工具圓形圖 (共300人)

- (1) 奔騰公司和百達公司搭捷運上班的百分率相同，所以搭捷運上班的人數也相同，對不對？(不對)

- (2) 百達公司開汽車上班的百分率比奔騰公司高，所以開汽車上班的人數比奔騰公司多，對不對？(不對)

- (3) 奔騰公司和百達公司，哪一間公司坐公車上班的人數比較多？

(奔騰) 公司 $400 \times 20\% = 80$

$300 \times 10\% = 30$

- (4) 奔騰公司和百達公司使用其他方式上班的百分率不同，所以使用其他方式上班的人數也不同，對不對？(不對)

$400 \times 15\% = 60$

$300 \times 20\% = 60$