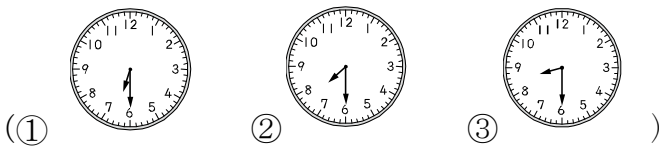


一、選擇題：每題 2 分、共 10 分

- () 1. 下面哪個算式的答案最大？ (① $8-2$ ② $3+2$ ③ $7-4$)
- () 2. 小昌今年 5 歲，小平比他少 2 歲，小平今年幾歲？ (① 7 歲 ② 4 歲 ③ 3 歲)
- () 3. 停車場裡有 7 輛車，沒有車開走，停車場裡有幾輛車？ (① 7 輛 ② 6 輛 ③ 5 輛)
- () 4. 下面哪一個時鐘上的時刻是 7 點半？

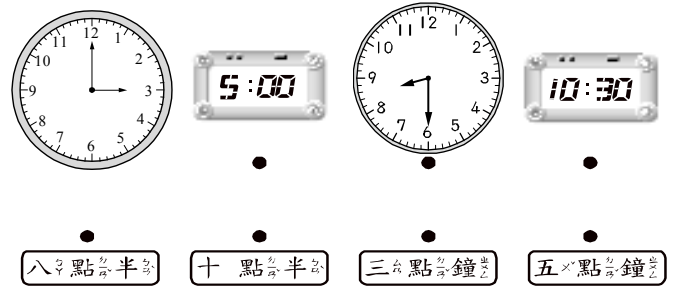


- () 5. 弟弟收集了 8 張郵票，弟弟比哥哥多 2 張，哥哥收集了幾張郵票？ (① 4 張 ② 6 張 ③ 10 張)

二、畫○算算看：每題 3 分、共 12 分

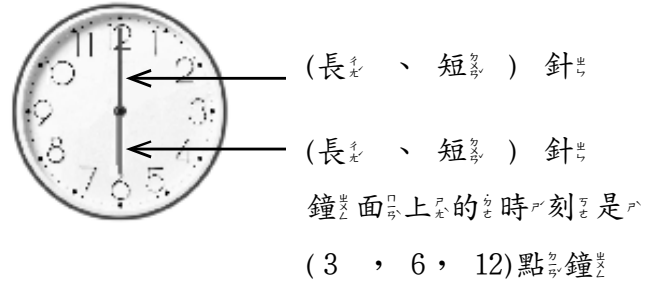
1. $7-4=$ ()
2. $6-6=$ ()
3. $5-2=$ ()
4. $9-8=$ ()

三、連連看：每答 2 分、共 8 分

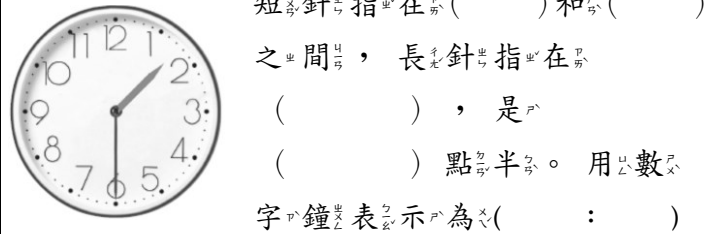


四、做做看：(1-2 題，每格 2 分；第 3 小題，全對才可得 3 分。) 共 19 分


1. 圈圖看：



2.



3. 安安要走出「時鐘迷宮」，請依照 12 點半、1 點半……的順序，幫安安畫出通過迷宮的路。




五、填填看看：每格2分、共22分

1. (1) $10 - 4 = \square$ (2) $8 - 5 = \square$

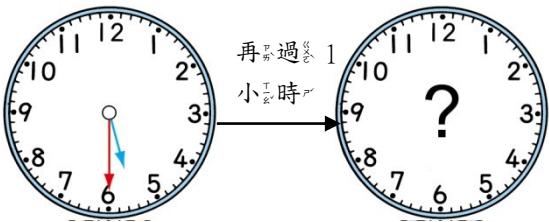


2. 哪一些時刻是在2點半到4點半之間？在()裡打✓。

() () ()

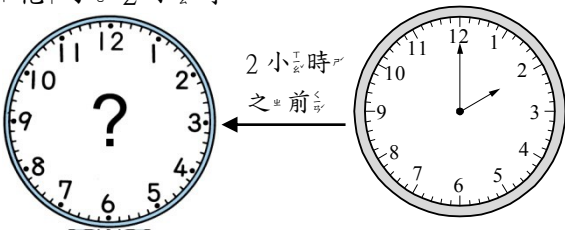


3. (1) 現在是下午5點半，再過1小時，小彥就要去練習鋼琴了。



小彥在()午()點半練習鋼琴。

(2) 媽媽下午2點燙完頭髮，燙頭髮花了2小時。



媽媽()午()點開始燙頭髮。

六、應用題：(請寫出算式，並在()中填入答案)：

1~5 每題5分，第6題4分、共29分

1. 姐姐有5根棒棒糖，送給妹妹3根，姐姐還剩下幾根棒棒糖？

答：()根

2. 阿昌有9元，今天沒有花錢，阿昌還有幾元？

答：()元

3. 小英有4顆糖果，老師再送給小英2顆，小英有幾顆糖果？

答：()顆

4. 樹上有10隻小鳥，飛走2隻，還剩下幾隻小鳥？

答：()隻

5. 一把尺賣5元，平平買了兩把尺，要付幾元？

答：()元

6. 芒果和楊桃共有8個。(共4分)

(1) 芒果有6個，楊桃有幾個？

答：()個

(2) 芒果比楊桃多幾個？

答：多()個