

一、看圖做做看：1-2題每題答1分，第3題每題答2分，第4題6分，共26分。

1. 算式答案要是8的，在()裡打√：

(1) (2) (3)

$6+2$ $5+4$ $6+3$
 () () ()

(4) (5) (6)

$3+5$ $7+1$ $4+4$
 () () ()

2. 算式答案要是10的，在()裡打√：

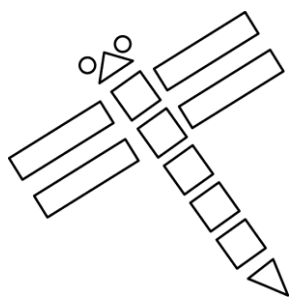
(1) (2) (3)

$5+4$ $7+3$ $5+5$
 () () ()

(4) (5) (6)

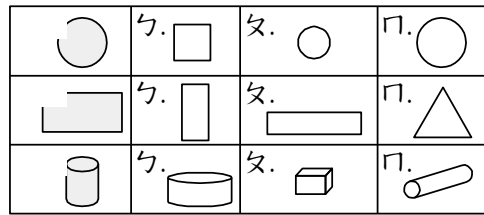
$2+8$ $4+6$ $9+1$
 () () ()

3. 下面小平在池塘附近看到的動物，看圖回答問題：



- (1) 有()個正方形。
- (2) 有()個長方形。
- (3) 有()個圓形。
- (4) 有()個三角形。

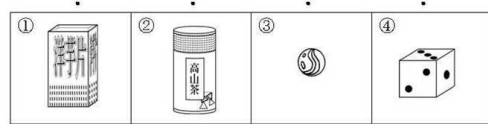
4. 把和左邊不一樣的圖形圈起來。



二、連連看：每題答1分，共17分

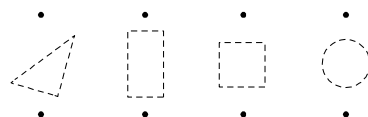
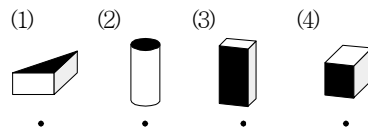
1. 連一連

容易滾動 可以堆高



只有彎彎的面 有平平的面，也有彎彎的面 只有平平的面

2. 把積木塗黑的的面描下來，可以描出什麼圖形？連連看：



圓形 三角形 正方形 長方形

五、畫○算算看：每題3分，共12分

(1) $4 + 4 = (\quad)$ (2) $3 + 6 = (\quad)$

(3) $2 + 8 = (\quad)$ (4) $2 + 3 = (\quad)$

四、應用題：每題5分，共45分

1. 公車上原有8個乘客，後來又有2個上車，現在公車上共有幾個乘客？

算式：

答：共有()個乘客

2. 小珍左手有5枝筆，右手有3枝筆，美珍兩隻手共有幾枝筆？

算式：

答：共有()枝筆

3. 小莉1天做4個蛋糕，2天共做幾個蛋糕？

算式：

答：共做()幾個蛋糕

4. 安安從百貨公司的8樓向上走2樓到家庭用品電器館，家庭用品電器館在幾樓？

算式：

答：小美住在()樓

5. 哥哥吃了3根熱狗，弟弟吃了2根熱狗，兩人共吃了幾根熱狗？

算式：

答：()根

6. 姐姐射氣球，第一次射中1個，第二次沒有射中，姐姐共射中幾個氣球？

算式：

答：()根


7. 有一個沒裝魚的魚缸，小柏買了9條金魚放進去，現在魚缸裡有幾條金魚？

算式：

答：有()條金魚

8. 共有幾隻羊？把做法用算式

記下來：



() + () = ()

答：()隻

9. 姐姐有5個紅氣球和4個黃氣球，妹妹有4個紅氣球和5個黃氣球，誰的氣球比較多？

姐姐：

妹妹：

答：()