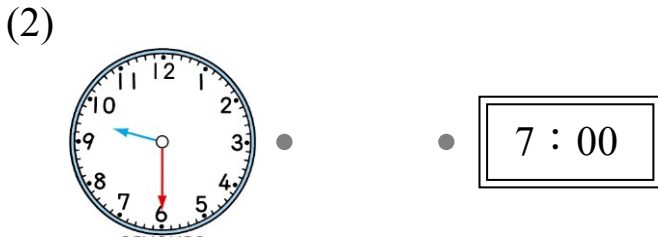
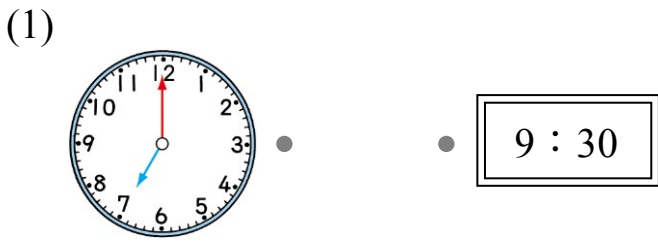


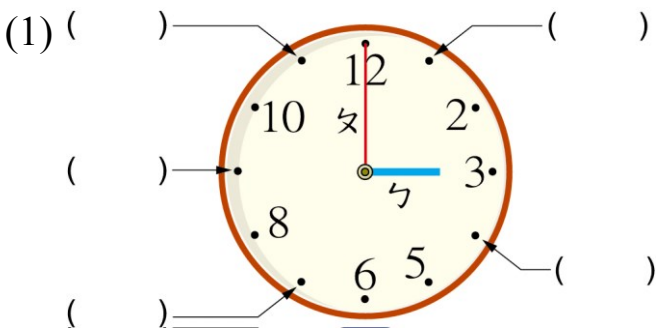
數學第一冊第9單元後測評量試題

國小 _____ 年 _____ 班 座號 _____ 姓名 _____

一、連到正確的時刻：每答6分，共24分



二、看圖填一填：每格4分，共44分



① 勺是 () 針，勺是 () 針。(填短或長)

② 鐘面上是 () 點鐘。

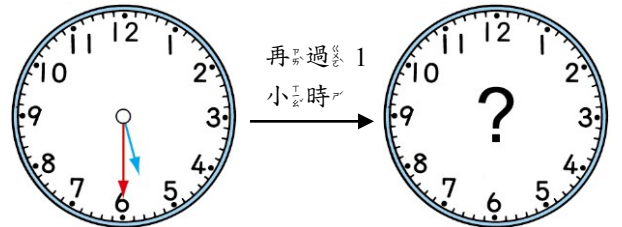
(2) 4點半時，時鐘上的短針指在 () 和 () 之間，長針指在 () 的位置。

三、按照先後的順序，填入1、2、3、4：每答5分，共20分



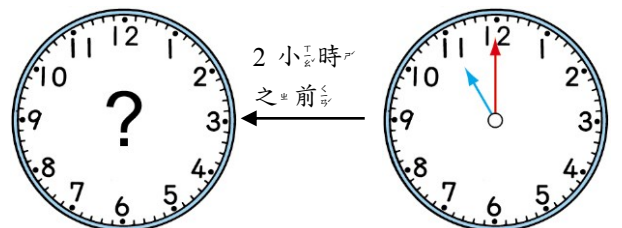
四、填一填：每題6分，共12分

(1) 現在是下午5點半，再過1小時，小彥就要吃晚餐了。



小彥下午 () 點半吃晚餐。

(2) 媽媽上午11點燙完頭髮，燙頭髮花了2小時。



媽媽上午 () 點開始燙頭髮。