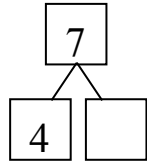
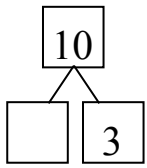


數學第一冊第8單元後測評量試題

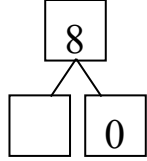
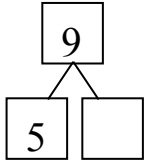
國小 _____ 年 _____ 班 座號 _____ 姓名 _____

一、填一填： 每題4分，共16分

(1) $10 - 3 = \square$ (2) $7 - 4 = \square$



(3) $9 - 5 = \square$ (4) $8 - 0 = \square$




二、看一看填一填： 每格4分，共20分

(1)




原有 5 隻蝴蝶，飛走 2 隻，
還剩下 () 隻。

(2)



原有 10 隻狗，跑走 4 隻，
還剩下 () 隻。


(3)



玫瑰花有 () 朵，向日葵
有 () 朵，玫瑰花比
向日葵多 () 朵。

三、看一看算一算： 每格4分，共40分

(1)




原有 () 枝，吃掉 4 枝，
還有 () 枝。

用算式可記成：

() - () = ()

(2)



原有 () 個，吃掉 2 個，
還有 () 個。

用算式可記成：

() - () = ()

四、把做法用算式記下來：

每題8分，共24分

(1) 怡君 有 3 元，小莉 再給
她 7 元，怡君 共有幾
元？

答：() 元

(2) 盤子裡有 8 個水餃，恩
恩 吃掉 8 個，還剩下幾
個水餃？

答：() 個

(3) 老師有 7 枝藍筆，送給
小仁 4 枝後，老師還有
幾枝藍筆？

答：() 枝