


國小數學 3 下暑假作業 (E) 第五單元～第九單元
三年__班__號 姓名：_____

① 連連看。(每條連線 1 分，共 5 分)



- 2.4 1.7 4.6 3.9 7.3


② 畫出指定的水量。

(每題 2 分，共 6 分)

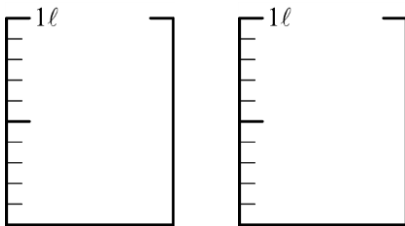
1. 200 毫升



2. 450 毫升



3. 1 公升 800 毫升



③ 把一樣大的連起來。

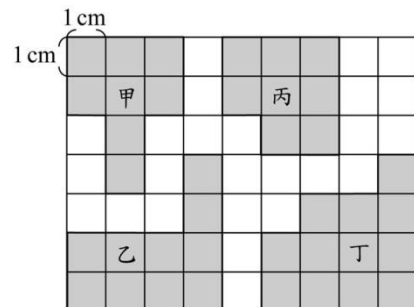
(每條連線 2 分，共 8 分)

- | | | | |
|----------------------|---|---|------|
| 68 個 0.1 合起來 | • | • | 8.6 |
| 8 個 1 和 6 個 0.1 合起來 | • | • | 60.8 |
| 680 個 0.1 合起來 | • | • | 6.8 |
| 60 個 1 和 8 個 0.1 合起來 | • | • | 68 |

④ 算算看。(每題 3 分，共 12 分)

- 83 毫米 + 69 毫米
= () 公分 () 毫米
- 7 公分 - 46 毫米
= () 公分 () 毫米
- 4 公升 216 毫升 + 3 公升 184 毫升 =
() 公升 () 毫升
- 5 公升 700 毫升 - 2045 毫升
= () 公升 () 毫升

⑤ 看圖回答問題。(每格 2 分，共 24 分)



1.

圖形	甲	乙	丙	丁
周長	() cm	() cm	() cm	() cm
面積	() cm ²	() cm ²	() cm ²	() cm ²

- 圖形甲和圖形()的面積一樣大，它們的周長也一樣長嗎？()
- 圖形乙和圖形()的周長一樣長，它們的面積也一樣大嗎？()

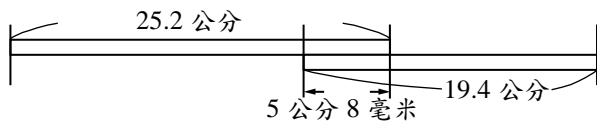
⑥ 比比看，在□裡填入>、<或=。(每題1分，共5分)

- 5.4公分 □ 54毫米
- 10公分2毫米 □ 120毫米
- 500毫升 □ 5公升
- 6公升7毫升 □ 670毫升
- 2公升20毫升 □ 2200毫升

⑦ 把做法和答案記下來。

(每題5分，共10分)

- 把兩根木棒像下圖這樣接起來，共長多少公分？



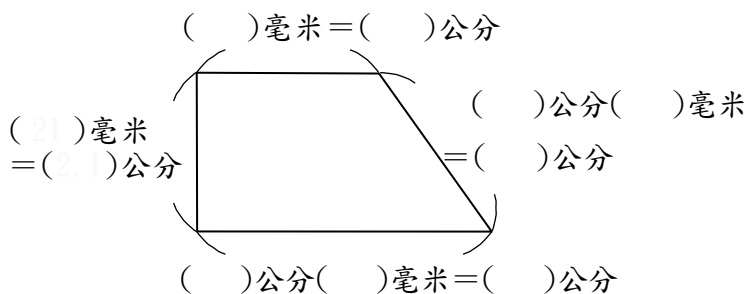
答：

- 大瓶果汁有2公升，小瓶果汁比大瓶果汁少800毫升，各買一瓶，共有多少毫升的果汁？

答：

⑧ 量一量，下面圖形的4條邊長各有多長？

(每格1分，共10分)



答：

⑨ 用有()的乘法或除法算式記問題，再計算。

(每題5分，共20分)

- 巧克力一顆8元，妹妹買了一些，一共付了240元，妹妹買了幾顆巧克力？

答：

- 老闆做了一些蛋黃酥，每9個裝成一盒，共可裝成56盒，老闆做了幾個蛋黃酥？

答：

- 有一條長492公尺的緞帶，每若干公尺剪成一段，剛好可以剪成6段。每幾公尺剪成一段？

答：

- 弟弟每個月要存多少元，半年後才可以存夠960元？