







第 5 章 ~ 第 9 章



一 加 加 看 (每題 3 分, 共 12 分)

1.  

$32 + 24 = ( \quad )$

2.  

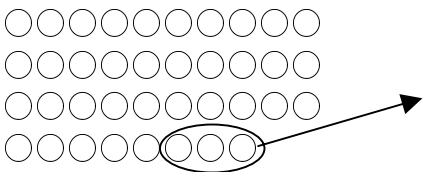
$30 + 30 = ( \quad )$

3.  

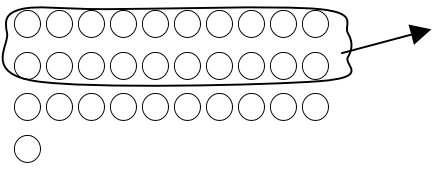
$45 + 6 = ( \quad )$

4. 3 個 十 加 7 個 十 是 ( ) 個 十。

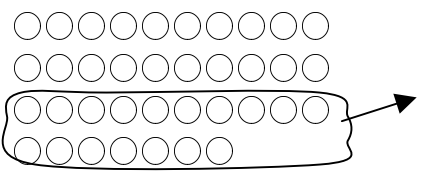
二 減 減 看 (每題 3 分, 共 12 分)

1. 

$38 - 3 = ( \quad )$

2. 

$31 - 20 = ( \quad )$

3. 

$37 - 17 = ( \quad )$

4. 10 個 十 減 6 個 十 是 ( ) 個 十。



三 先 算 出 橫 式, 再 完 成 直 式 (每題 4 分, 共 8 分)

1.  $12 + 5 = ( \quad )$       2.  $18 - 2 = ( \quad )$

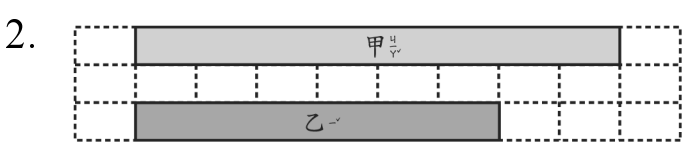
十 位 個 位      十 位 個 位

$\begin{array}{r} + \\ \hline \end{array}$        $\begin{array}{r} - \\ \hline \end{array}$

四 看 圖 回 答 下 面 的 問 題 (每個答案 2 分, 共 12 分)

1. 甲 繩  乙 繩 

(甲 繩, 乙 繩) 比 較 長, 多 了 ( ) 個 迴 紋 針 長。





- (1) 甲 緞 帶 有 ( ) 格 長。
- (2) 乙 緞 帶 有 ( ) 格 長。
- (3) (甲 緞 帶, 乙 緞 帶) 比 較 長, 多 了 ( ) 格 長。

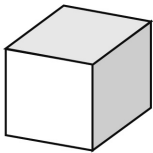

五 算 算 看 (每題 2 分, 共 12 分)

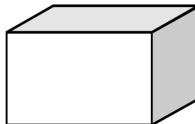

- 1.  $32 - 4 = ( \quad )$       2.  $75 - 34 = ( \quad )$
- 3.  $53 + 15 = ( \quad )$       4.  $45 + 7 = ( \quad )$
- 5.  $16 - 8 - 6 = ( \quad )$
- 6.  $17 - 9 + 7 = ( \quad )$

六 下 面 的 立 體 形 體 可 以 描 出 那 一 種 平 面 圖 形?

連 一 連 (每條線 4 分, 共 12 分)

 • 

 • 

 • 

七 看圖表回答問題。

(每題2分，共8分)

一年級甲班資源回收數量表			
物品	寶特瓶	鋁罐	廢電池
畫記	正正	正下	正一
數量	10	8	6

- (寶特瓶, 鋁罐, 廢電池)回收數量最多, 共有( )個。
- (寶特瓶, 鋁罐, 廢電池)回收數量最少, 共有( )個。
- 寶特瓶和鋁罐一共回收( )個。
- 寶特瓶比廢電池多回收( )個。

八 做做看看。(每題4分，共24分)

- 盒子裡原來有一些蠟筆, 再放進9枝後, 就有28枝蠟筆, 盒子裡原來有幾枝蠟筆?

算式:

原來有( )枝。

- 把39顆蘋果分給22位小朋友, 每人分1顆, 剩下多少顆?

算式:

剩下( )顆。

- 小明有45元, 買了一枝原子筆後, 還剩下20元, 一枝原子筆賣多少元?

算式:

賣( )元。

- 小華有50元, 他可以買幾張5元郵票?



買( )張。

- 小玉排隊量身高, 她前面排了29個人, 小玉排在第幾個?

算式:

第( )個。

- 一個盒子裝了24枝筆, 弟弟又放12枝筆進去, 現在這個盒子裡有幾枝筆?

算式:

有( )枝筆。