



第 5 章 ~ 第 9 章

一 比較長的打 \checkmark 。(每題 3 分, 共 9 分)

1.  ()

 (\checkmark)

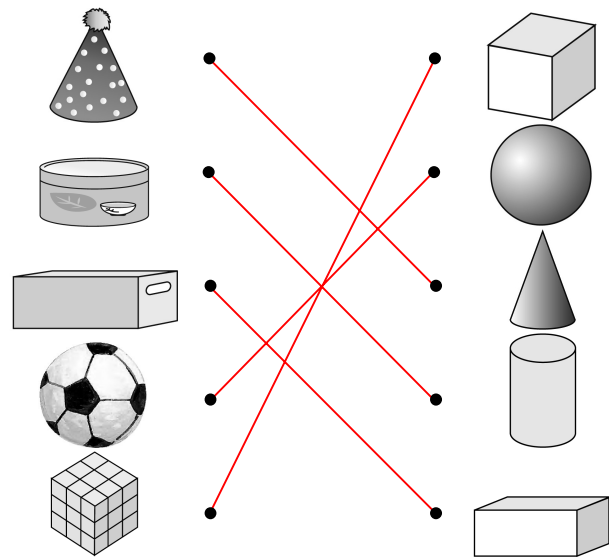
2.  (\checkmark)

 ()

3.  (\checkmark)

 ()

二 左邊這些物品和那一個立體積木比較像? 連連看。(每條線 2 分, 共 10 分)



三 依照下面的提示圈圈看。(每題 3 分, 共 6 分)

提示:

- 小芬從座位到講臺要走 12 步。
- 小芬從座位到前門要走 18 步。
- 小芬從座位到垃圾桶的距離最遠。

1. 小芬從座位到(講臺), 前門的距離比較近。

2. 小芬從座位到垃圾桶的距離可能是(10, 16, 22)步。

四 填填看看。(每題 3 分, 共 15 分)

1. 8 個十加 2 個十是 10 個十。

2. 4 個十加 5 個十是 9 個十。

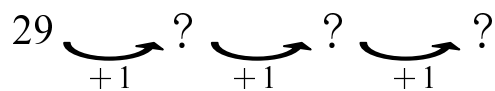
3. 10 個十減 3 個十是 7 個十。

4. 9 個十減 4 個十是 5 個十。

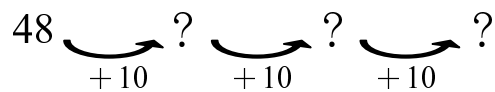
5. 7 個十減 0 個十是 7 個十。

五 算算看看。(每題 3 分, 共 30 分)

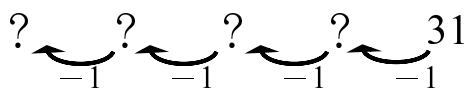
1. $29 + 3 = (32)$



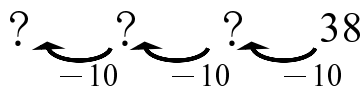
2. $48 + 30 = (78)$



3. $31 - 4 = (27)$



4. $38 - 30 = (8)$



5. $17 + 22 = (39)$

6. $24 - 14 = (10)$

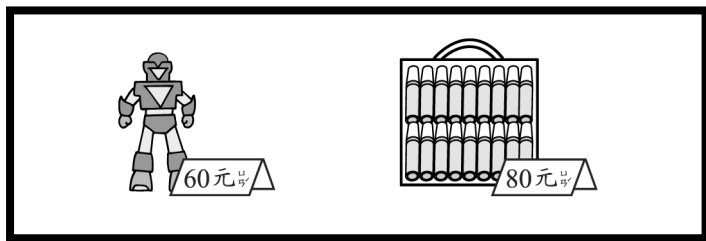
7. $37 + 7 = (44)$

8. $68 - 8 = (60)$

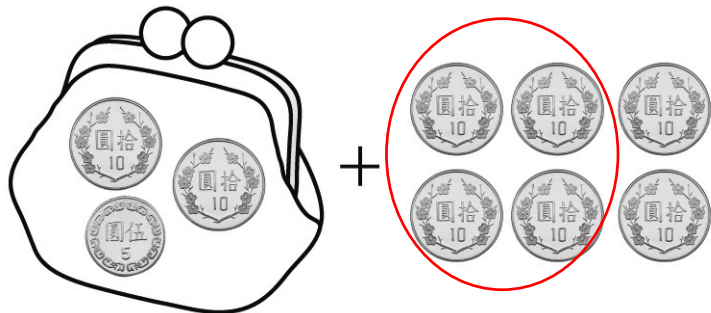
9. $19 - 6 - 9 = (4)$

10. $7 + 9 - 8 = (8)$

六 圈 圈 看 看。(每題 3 分，共 6 分)



1. 小華有 25 元，想買一個 60 元的機器人，最少還要幾個 10 元？



小華的錢包

2. 小明有 1 個 50 元、2 個 10 元和 1 個 5 元，他的錢夠買一盒 80 元的彩色筆嗎？(夠，不夠)。



小明的錢包

七 下面的表格記錄了小朋友喜歡的運動項目，完成表格並圈圈看。

(每個答案 2 分，共 8 分)

項目	畫記	數量
跳繩	正 正	10
踢毽子	正 丁	7
呼拉圈	正	5

1. 那一種運動最多？
(跳繩，踢毽子，呼拉圈)
2. 那一種運動最少？
(跳繩，踢毽子，呼拉圈)

八 做 做 看 看。(每題 4 分，共 16 分)

1. 一個箱子可以放 36 瓶礦泉水，已經放了 23 瓶，再放幾瓶可以放滿？

算式： $36 - 23 = 13$

再放 (13) 瓶。

2. 電梯從 15 樓往上走 7 樓，電梯停在那一樓？

算式： $15 + 7 = 22$

停在 (22) 樓。

3. 班上有 12 個男生和 12 個女生，每個人分一瓶果汁，需要幾瓶果汁？

算式： $12 + 12 = 24$

需要 (24) 瓶。

4. 小鴨有 36 隻，大鴨比小鴨少 15 隻，大鴨有幾隻？

算式： $36 - 15 = 21$

有 (21) 隻。