



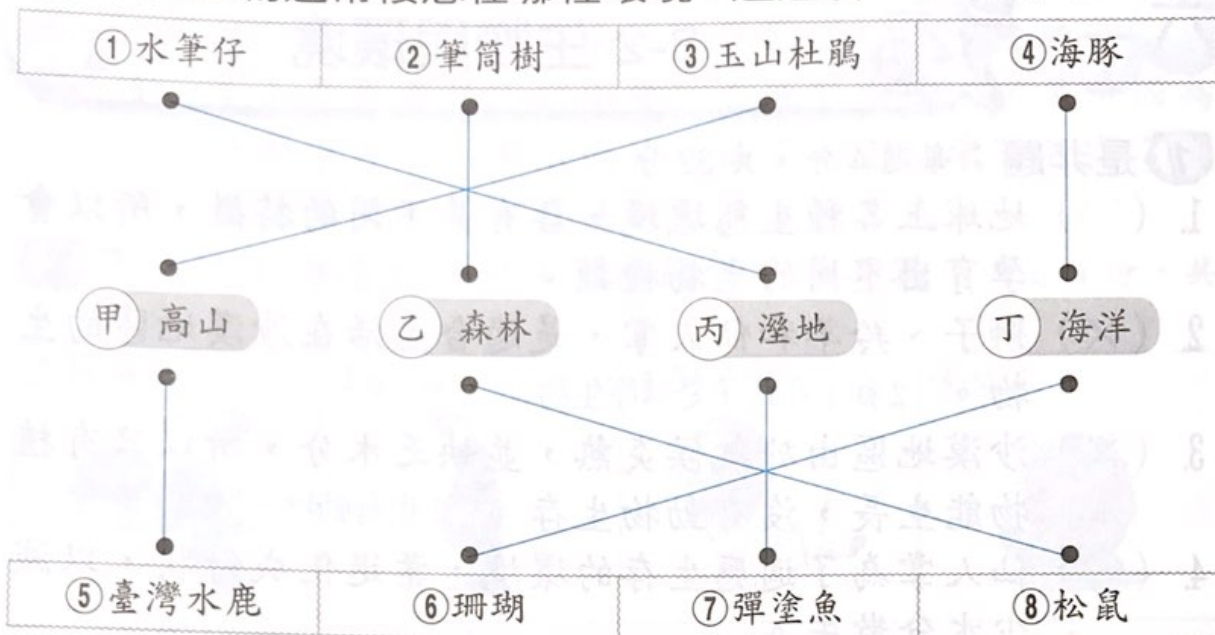
1 是非題：每題 4 分，共 40 分

- (○) 臺灣面積雖小，但擁有許多不同的自然環境，且孕育出多樣化的生物。
- (×) 蕨類植物是溼地環境中常見的生物。2. 森林
- (○) 海洋蘊藏著地球上最豐富的生物資源。
- (○) 珊瑚是生長在海洋中的動物。5. 外來種植物
- (×) 臺灣到處可見的大花咸豐草，屬於臺灣原生種植物。
- (×) 候鳥只有在冬天才會飛到臺灣來。6. 不一定是冬天
- (○) 臺灣野山羊是臺灣特有的生物，大都棲息在山林中。
- (×) 外來種生物可以使臺灣的生物種類更具多樣性，所以可以任意進口外來種生物。8. 任意引進可能會破壞原本生態
- (○) 遷徙途中經過臺灣，做短暫停留的鳥類稱為過境鳥。
- (○) 冬候鳥是指冬季由北方來到臺灣過冬的候鳥。








2 選擇題：每題 4 分，共 24 分

- (3) 下列哪一種生物和水筆仔所屬的生態環境不同？
①彈塗魚 ②白鶯鶯 ③臺灣山椒魚 ④招潮蟹。
- (4) 下列哪一種植物生長在寒冷風強的生態環境中？
①紅樹林 ②馬纓丹 ③臺灣水韭 ④玉山薄雪草。
- (3) 松鼠的棲息環境和下列哪一種動物相似？ ①水獺
②白鶯鶯 ③白耳畫眉 ④企鵝。
- (2) 每年冬天會以曾文溪溪口為棲息地，是瀕臨絕種鳥類的是 ①大雁 ②黑面琵鶯 ③八色鳥 ④紅尾伯勞。
- (3) 下列何者是臺灣特有種的保育類動物？ ①福壽螺
②黑面琵鶯 ③臺灣山椒魚 ④小水鴨。
- (3) 臺灣鄉村的稻田受到哪一種外來種生物的破壞而造成嚴重的農業災害？ ①馬纓丹 ②小花蔓澤蘭 ③福壽螺 ④八色鳥。

3 下列生物通常棲息在哪種環境？連連看：每題 1 分，共 8 分



4 下列哪些是屬於臺灣特有種生物？請打✓；哪些是屬於外來種生物？請畫○：每題 2 分，共 16 分

① 臺灣藍鵲 <input checked="" type="checkbox"/>	② 福壽螺 <input type="checkbox"/>	③ 布袋蓮 <input type="checkbox"/>	④ 臺灣山椒魚 <input checked="" type="checkbox"/>
			
⑤ 小花蔓澤蘭 <input type="checkbox"/>	⑥ 臺灣水韭 <input checked="" type="checkbox"/>	⑦ 臺灣野山羊 <input checked="" type="checkbox"/>	⑧ 入侵紅火蟻 <input type="checkbox"/>
			

5 下列哪些是會隨著季節遷徙的候鳥？請打✓：每題 2 分，共 12 分

1. () 企鵝 2. (✓) 灰面鵟鷹 3. () 白耳畫眉
 4. () 山雀 5. (✓) 紅尾伯勞 6. (✓) 八色鳥