



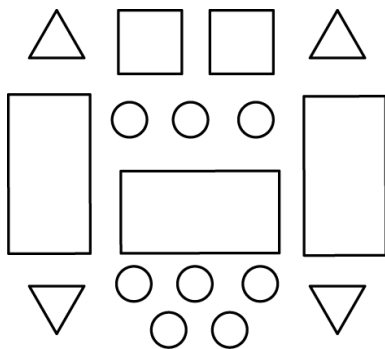



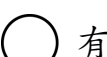


一、把圖形和正確的名稱連起來：每題 2 分，共 8 分

① 	•	•	ㄅ 正方形
② 	•	① ㄇ	ㄆ 三角形
③ 	•	② ㄨ	
④ 	•	③ ㄎ	ㄇ 長方形
		④ ㄏ	
			ㄉ 圓形

二、數一數，填填看看：每題 2 分，共 8 分



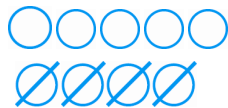
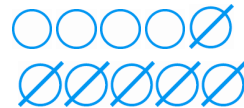


1.  有 (3) 個。
2.  有 (2) 個。
3.  有 (4) 個。
4.  有 (8) 個。



三、由小到大順序填填看看：每格 2 分，共 8 分



11 15 12 19			
11	12	15	19

四、先畫○再畫掉，完成減法算式：每題 2 分，共 8 分

1. $7-6=(1)$ 	2. $8-5=(3)$ 
3. $9-4=(5)$ 	4. $10-6=(4)$ 

五、比比看看，對的打✓，並寫出算式做看看：每題 1 分，共 10 分

1. 

 魚多 貓多
 $(8) - (5) = (3)$
 多 (3) 隻

2. 

 毛毛蟲多 瓢蟲多
 $(9) - (4) = (5)$
 多 (5) 隻

六、把答案相同的連起來：每題 2 分，共 6 分

① $9-5$	•	•	ㄅ $4-1$
② $7-4$	•	① ㄏ	•
③ $10-3$	•	② ㄎ	•
		③ ㄨ	•
		•	ㄇ $9-2$
			•
			ㄏ $7-3$

七、做做看看：每題 4 分，
共 12 分

1. 地上有 8 隻小鳥和 3 隻松鼠，小鳥比松鼠多幾隻？

算式： $8-3=5$

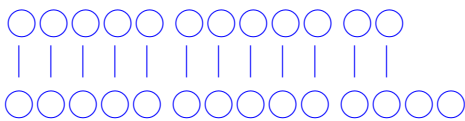
多 (5) 隻

2. 筆筒裡有 9 枝筆，有 6 枝是原子筆，剩下的都是鉛筆，鉛筆有幾枝？

算式： $9-6=3$

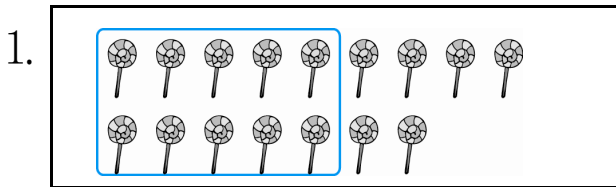
有 (3) 枝

3. 樹上有 12 隻猴子，一隻猴子分一根香蕉，香蕉多 2 根，香蕉有幾根？

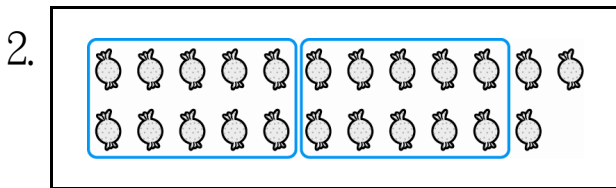


有 (14) 根

八、先 10 個一圍，再寫出
有多多少少？每答 3 分，
共 12 分 (圖法僅供參考)



有 (16) 枝



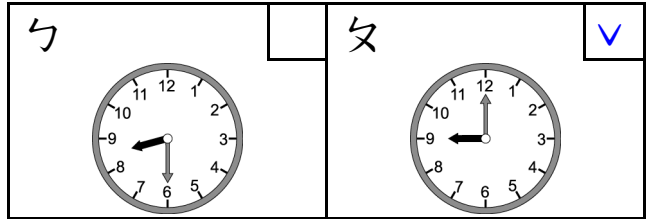
有 (23) 顆

九、填填看看：每題 2 分，
共 8 分

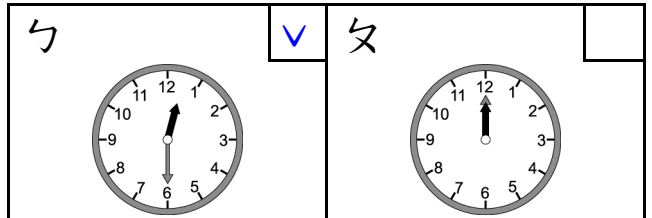
- (10) 和 4 合起來是 14。
- (20) 和 6 合起來是 26。
- 10 和 (7) 合起來是 17。
- 20 和 (9) 合起來是 29。

十、對的打√：每題 4 分，
共 20 分

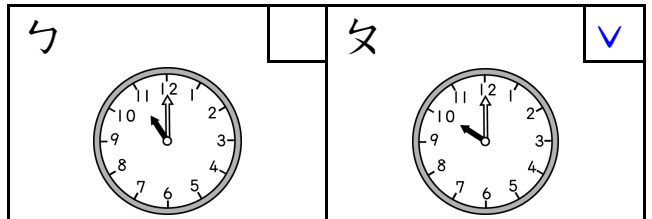
1. 哪一個是 9 點？




2. 哪一個是 12 點半？



3. 哪一個是 10 點？



4. 做哪一件事花的時間比較長？



5. 做哪一件事花的時間比較短？

