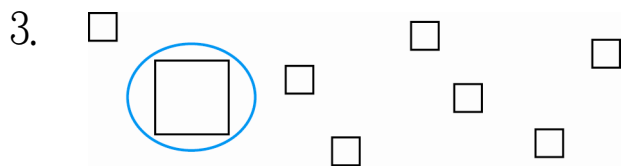
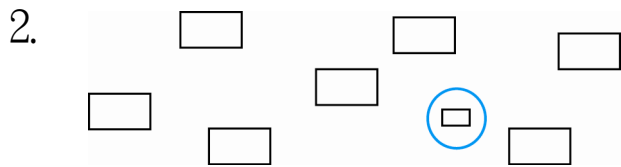
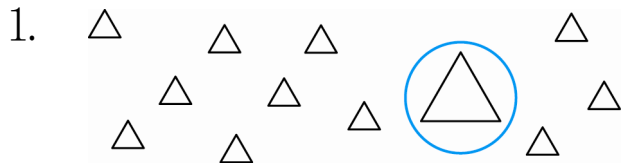
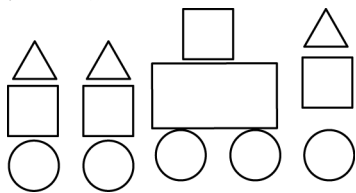


一、圈出與眾不一樣的大多小的形。
 狀態：每題 3 分，共 9 分




二、數數看看，有幾個？看看圖，回答問題：每題 2 分，共 8 分



(3)	(4)	(5)	(1)
個	個	個	個

三、這是什麼形狀？圈出圖。
 看：每題 2 分，共 4 分



長方形

正方形

三角形

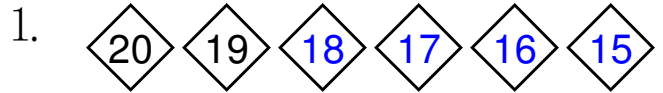


三角形

長方形

圓形

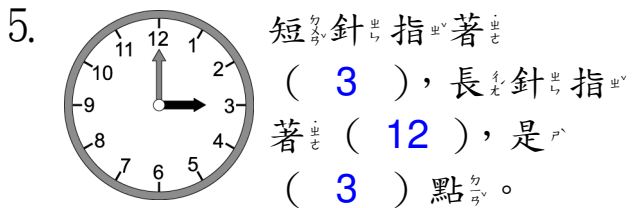
四、填填看看：每題 1 分，共 17 分



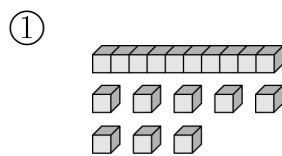
2. 10 和 4 合起來是 (14)。

3. 8 和 (20) 合起來是 28。

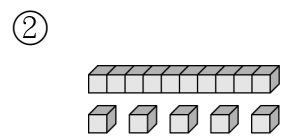
4. 10 和 10 合起來是 (20)。



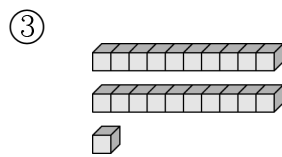
7. 寫出積木代表的數。



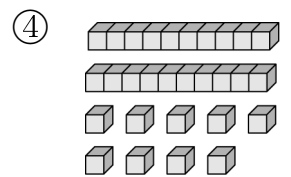
(18)



(15)



(21)



(29)

五、把數字由小到大排列：
 每題 2 分，共 16 分

1. 2、17、5、14

2 → **5** → **14** → **17**

2. 18、6、23、12

6 → **12** → **18** → **23**

