

一年仁班()號()

一、 選出最正確的答案： 共 6 分

1. (2) 小藍買一個 80 元的魔方，要付幾個 10 元？
① 7 個 ② 8 個 ③ 9

2. (3) 小黑有 50 元、10 元、10 元、10 元，
10 元，小黑共有幾元？
① 53 元 ② 65 元 ③ 80 元

二、 填填看看： 共 12 分

1. 10 個 1 元 可以換 (1) 個 10 元。

2. 一件玩具 50 元，全部用 5 元付，要付 (10) 個 5 元。

3. 章魚哥買一瓶牛奶花了 80 元

(1) 全都用 10 元，要付 (8) 個 10 元。

(2) 全都用 5 元付，要付 (16) 個 5 元。

(3) 全都用 1 元付，要付 (80) 個 1 元。

4. 1 個 50 元 可以換 (10) 個 5 元。

三、 圈圈看看： 共 48 分

1. 小敬想買一個 49 元的溜溜球，
他至少需要付 (9 個 10 元) 才夠。


2. 皮卡丘身上有 3 個 10 元，要到湯姆熊遊樂場兌換代幣，1 個 10 元可以換 1 個代幣，皮卡丘最多可以換幾個代幣？

(20 , 12 , 6) 個

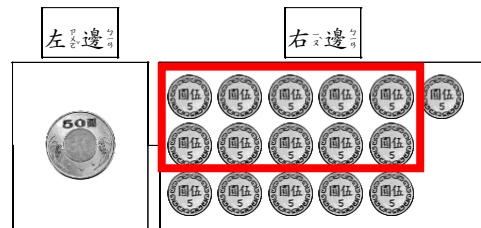
3. 彬彬想買一個 75 元的陀螺，他要怎麼付才會剛好？
圈看看。 答案有很多種圈法



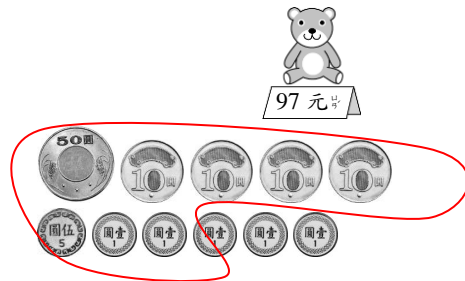
4. 哥哥的錢夠買一枝 51 元的原子筆嗎？
圈圈看看。



5. 請在右邊圈出和左邊一樣多的錢：



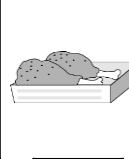




6. 怎麼付錢才會剛好？
圈圈看看




7. 可 有 1 個  和 1 個 



，如 果 一 次 只 買 一 種 東 西 ， 他 的 錢 夠 買 下 面 哪 些 東 西 ？ 圈 出 看 。

 39 元	 49 元	 75 元
 50 元	 45 元	

8. 圈 出 和 盤 子 上 一 樣 多 的 錢 。




四、畫 畫 看 看 共 8 分

1. 智 杰 想 買 一 個 38 元 的 筆 袋 ， 要 怎 麼 付 才 會 剛 好 ？ 用 ⑩ 表 示  ， 用 ① 表 示  ， 畫 畫 看 。

畫 ⑩: ⑩ ⑩ ⑩

畫 ①: ① ① ① ① ① ① ① ①

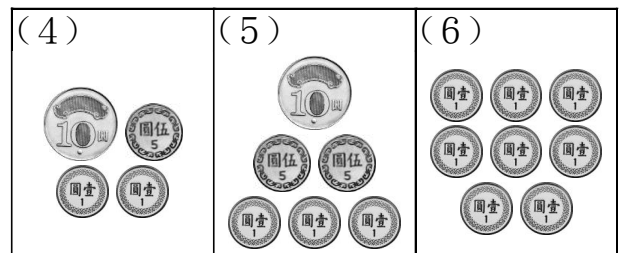
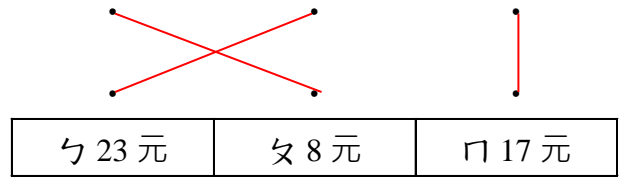
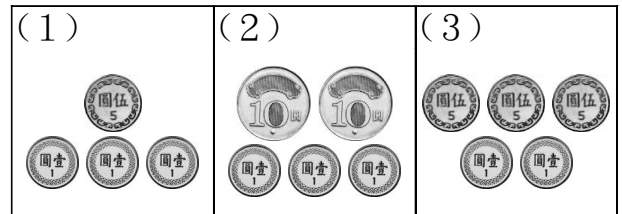
2. 志 強 要 買 一 枝 69 元 的 筆 ， 但 他 的 錢 不 夠 ， 還 要 補 多 少 元 ？ 用 ① 表 示  ， 畫 畫 看 。



志 強 的 錢

五、連 連 看 共 18 分

1. 數 數 看 看 ， 有 多 少 元 ？



六、數 一 數 ， 有 幾 元 ？ 誰 的 錢 最 少 ？ 圈 出 號 碼 。 共 8 分

