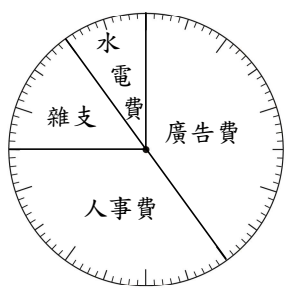


一、下面是大方公司一月分各項支出的圓形百分圖。(每格4分，共36分)



大方公司一月分各項支出圓形百分圖

大方公司一月分總支出是 240 萬元。算算看，在下表中填入各項支出的百分率和金額。

大方公司一月分各項支出統計表

項目	廣告費	人事費	雜支	水電費	合計
百分率					
金額(萬元)					240

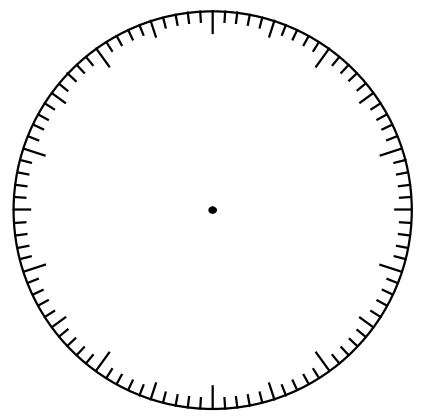
二、下面是茶屋飲料店今天賣出的飲料杯數統計表。

(每格5分，畫圖7分，共27分)

茶屋飲料店今天賣出飲料杯數統計表

飲料種類	紅茶	綠茶	珍珠奶茶	百香綠茶
杯數(杯)	30	69	135	66
百分率				

- 算出各類飲料百分率後，填在上表中。
- 依照上表各類飲料的百分率，畫出圓形百分圖。




三、下表是隆興國小小市長選舉中，各候選人的得票數。

(表格5分，畫圖16分，共21分)

隆興國小小市長選舉各候選人得票數統計表

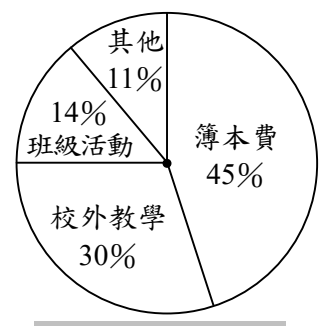
候選人	王大同	莊美美	丁良生	林子文	合計
票數(票)	320	240	144	256	

- 完成上面的統計表。
- 依照各候選人得票的比率，畫出圓形圖。

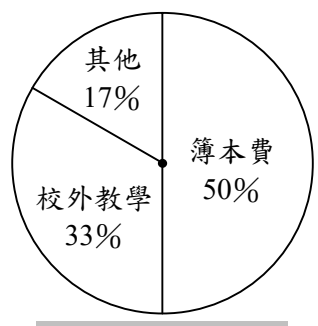


四、下圖是六年甲班和六年乙班上學期班費的使用情形，看圖回答問題。

(每題8分，共16分)



六年甲班班費使用情形圓形圖 (共30000元)



六年乙班班費使用情形圓形圖 (共27000元)

- 兩班的簿本費占全部班費的百分率不同，所以兩班的簿本費不同，對不對？()
- 上學期兩班在其他項目的支出上，哪一班比較多？()