


修德 101 數學第九單元補充練習學習單

做紀錄

(2) 姓名: _____


一、看圖數算算看看，並回答問題：

(1)




圖形	三角形	長方形	正方形	圓形
個數(個)				

(2)



圖形	三角形	長方形	正方形	圓形
個數(個)				


(3)



圖形	三角形	長方形	正方形	圓形
個數(個)				

二、分分看看，並回答下面問題：

修德海產店



(1) 把分好的結果記錄在下表：

種類	蝦子	魚	蛤蜊	螃蟹
「正」畫記				
數量(個)				

(2) 哪一種海產的個數最多？

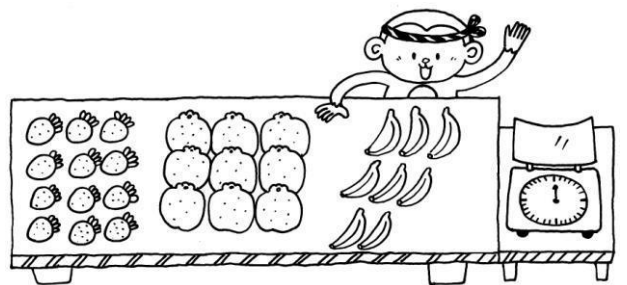
()

(3) 哪一種海產的個數最少？

()

(4) 最多和最少的海產相差()個。

三、看圖數數看看，把答案紀錄填到下面的表格中，並回答問題：



(1) 把水果的數量記在下表中：

水果	草莓	橘子	香蕉
個數(個)			

(2) 水果攤共有()個水果。

(3) 這三種水果中，最多的和最少的相差()個。