

一、先完成月曆，再回答問題：

109 年 6 月						
日	一	二	三	四	五	六
		2	3	4	5	6
7	8		10	11	12	13
	15	16	17	18		20
21	22	23		25	26	27
28	29	30				

- 6 月的第一天是 ( ) 月 ( ) 日，星期 ( )，最後一天是 ( ) 月 ( ) 日，星期 ( )。
- 6 月有 ( ) 個星期六，( ) 個星期二。
- 如果今天是端午節，今天 6 月 25 日，星期 ( )。

二、數數看，有幾元？


(1)



(2)

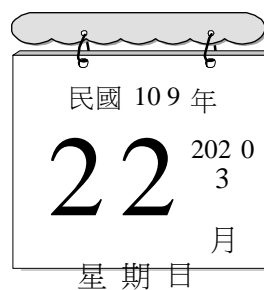


三、看圖做紀錄：



種類	畫記	數量 (輛)
汽車 	○ ○ ○ ○ ○ ○	
機車 		
腳踏車 		


四、填填看看：




今天 ( ) 月 ( ) 日，星期 ( )，昨天星期 ( )，明天星期 ( )。

五、把比較小的數圈起來：

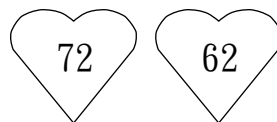
(1)




(2)





(3)



(4)



六、依照數字畫畫看，用(10)表示、(1)表示：

①  83 元	
②  76 元	

七、下面是修德農場所飼養的動物數量，請你看表算算看：

動物	母雞	公雞	乳牛	小羊
數量 (隻)	26	7	22	9

- (1) 母雞比公雞多幾隻？  
( ) 隻
- (2) 小羊比乳牛少幾隻？  
( ) 隻
- (3) 農場裡共有幾隻雞？  
( ) 隻

八、先畫(10)和(1)做做看，再用算式記下來：

(1) 一瓶牛奶賣 23 元，一個茶葉蛋賣 7 元，哥哥買一瓶牛奶和一個茶葉蛋當作早餐，共要付幾元？

( ) 元  
(2) 晶晶有 34 顆糖果，媽媽又給她 28 顆，晶晶共有幾顆糖果？

( ) 顆  
(3) 柔柔帶 50 元去文具店買一枝自動鉛筆，付完錢後找回 8 元，一枝自動鉛筆賣幾元？

( ) 元  
(4) 爸爸今年 32 歲，玲玲今年 17 歲，兩個人(1)相差幾歲？  
(2) 加起來幾歲？

- ① 相差 ( ) 歲
- ② 加起來共 ( ) 歲