













一、填填看看(每格4分)。媽媽買了68元的咖啡，

- 全部用  付錢，要拿出 () 個才夠。
- 全部用  付錢，要拿出 () 個才夠。
- 全部用  付錢，要拿出 () 個。
- 用 100 元紙鈔付錢，要拿出 () 張。

二、畫畫看，用  和  畫出兩種不同的付錢方法。(每答4分)






48 元	

三、把不夠的錢用  和  畫出來。(4分)




70 元
    



四、先畫畫看看，再填填看看。(畫圖10分，餘每格4分)

小美有1個50元，2個10元和3個5元



- 小美有 () 元
- 扭一次蛋要投入六個 ，
小美可以一把  換成 () 個 ，換了以後，
小美就有 () 個 。
- 扭一次蛋後，小美還剩下 () 個  和 () 個 。





一、填填看看(每格4分)。媽媽買了68元的咖啡，

- 全部用  付錢，要拿出 () 個才夠。
- 全部用  付錢，要拿出 () 個才夠。
- 全部用  付錢，要拿出 () 個。
- 用 100 元紙鈔付錢，要拿出 () 張。

二、畫畫看，用  和  畫出兩種不同的付錢方法。(每答4分)





48 元	

三、把不夠的錢用  和  畫出來。(4分)

70 元
    

四、先畫畫看看，再填填看看。(畫圖10分，餘每格4分)

小美有1個50元，2個10元和3個5元

- 小美有 () 元
- 扭一次蛋要投入六個 ，
小美可以一把  換成 () 個 ，換了以後，
小美就有 () 個 。
- 扭一次蛋後，小美還剩下 () 個  和 () 個 。