




一、怎麼付錢才會剛好？用  $\textcircled{50}$ 、 $\textcircled{10}$ 、

$\textcircled{5}$  或  $\textcircled{1}$  畫畫看看。

(每題 7 分，共 21 分)

1.  45 元

2.  98 元

3.  67 元

二、想一想，填填看看。

(每格 7 分，共 49 分)


1. 品華有  $\textcircled{1}\textcircled{1}\textcircled{1}\textcircled{1}\textcircled{1}\textcircled{1}\textcircled{1}\textcircled{1}$ ，買東西花了

了 9 元，還剩下 ( ) 元。

2. 婉如想買一個  20 元。

用  $\textcircled{10}$  來付，要付 ( ) 個；

用  $\textcircled{5}$  來付，要付 ( ) 個。

3. 從文想買一個  50 元。

用  $\textcircled{50}$  來付，要付 ( ) 個；

用  $\textcircled{10}$  來付，要付 ( ) 個；

用  $\textcircled{5}$  來付，要付 ( ) 個；

用  $\textcircled{1}$  來付，要付 ( ) 個。

三、怎麼付錢才會剛好？在對的裏( )

裡打  $\checkmark$ 。(每題 5 分，共 10 分)

1.  68 元

$\textcircled{10}\textcircled{10}\textcircled{10}\textcircled{10}$

$\textcircled{5}\textcircled{5}\textcircled{5}\textcircled{5}$

$\textcircled{1}\textcircled{1}\textcircled{1}$

( )

$\textcircled{50}\textcircled{10}$

$\textcircled{5}$

$\textcircled{1}\textcircled{1}\textcircled{1}$

( )

2.  82 元

$\textcircled{10}\textcircled{10}\textcircled{10}\textcircled{10}\textcircled{10}$

$\textcircled{10}\textcircled{10}\textcircled{10}$

$\textcircled{1}\textcircled{1}$

( )

$\textcircled{10}\textcircled{10}\textcircled{10}\textcircled{10}\textcircled{10}$

$\textcircled{10}\textcircled{10}$

$\textcircled{1}\textcircled{1}\textcircled{1}$

( )

四、畫畫看看，再回答問題。

(每題 10 分，共 20 分)


1. 永傑有 5 個  $\textcircled{10}$ ，他想買一瓶



34 元

，最少要付幾個  $\textcircled{10}$  才夠？

最少要付 ( ) 個  $\textcircled{10}$  才夠。

2. 買一顆  34 元，付了 4 個  $\textcircled{10}$ ，要

找回多少元？

找回 ( ) 元。