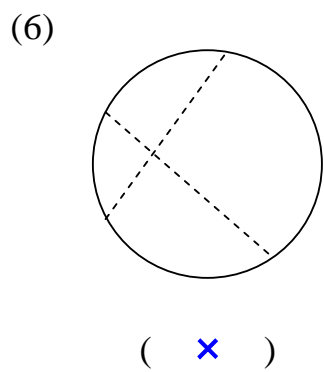
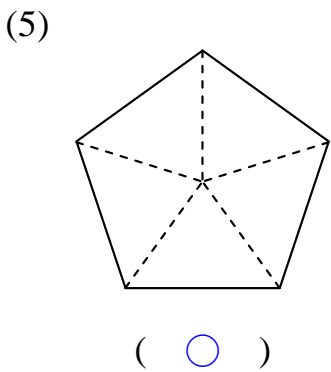
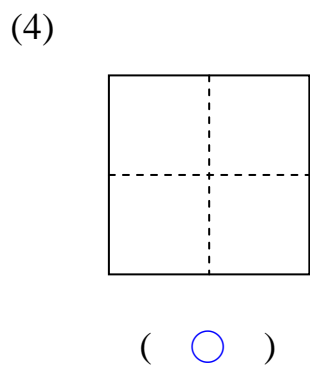
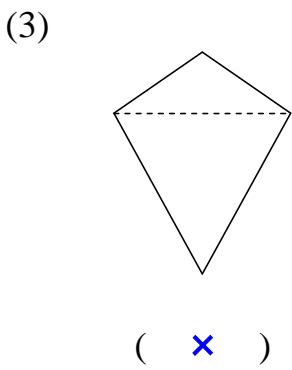
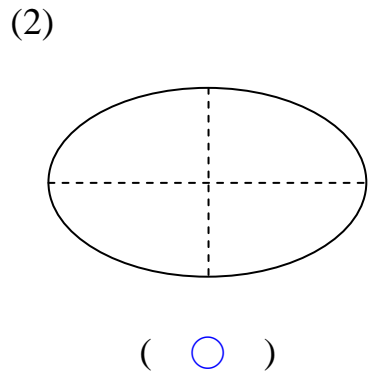
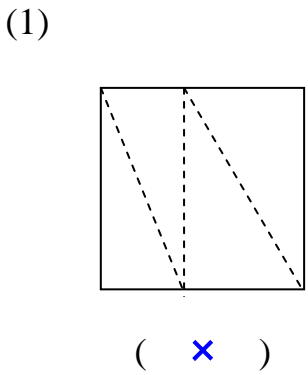


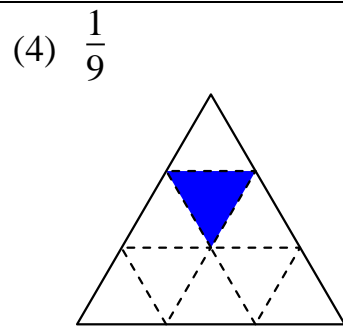
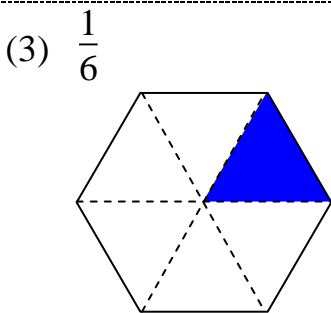
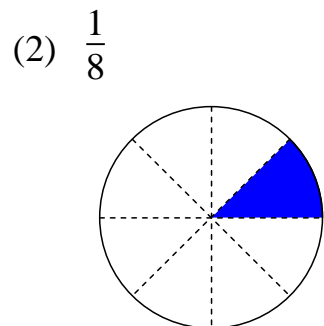
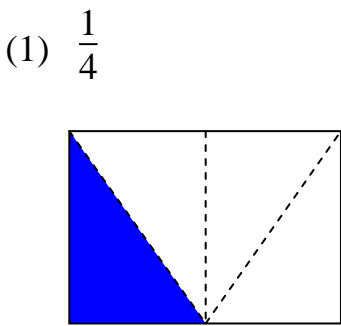
國小數學 2 下單元卷 九、分數

三年 班 號 姓名： \_\_\_\_\_

**1** 下面圖的圖形中，有平分份的在( ) 裡畫○，沒有平分份的打×。  
(每題 2 分，共 12 分)



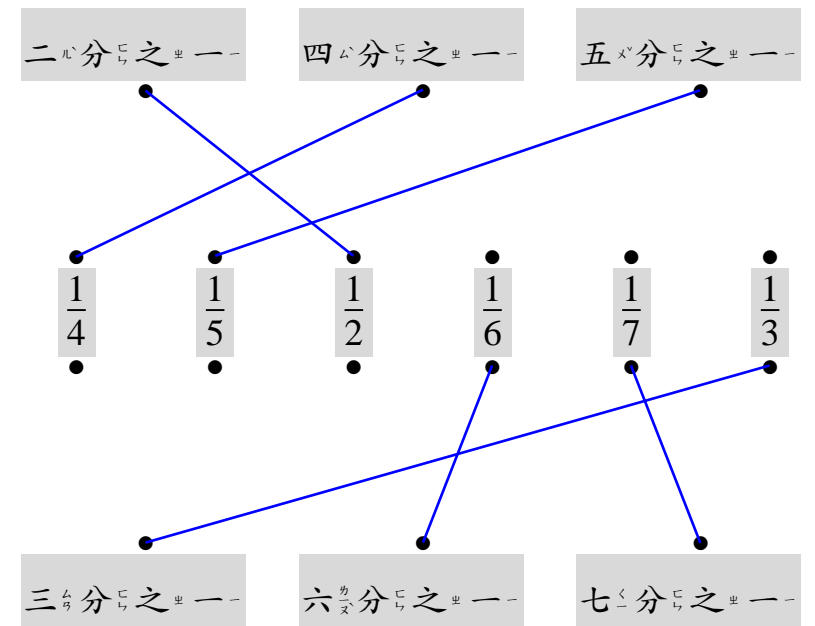
**2** 塗塗看看。(每題 3 分，共 12 分)(本題塗法僅供參考)



**3** 對的畫○，錯的打×。(每題 2 分，共 14 分)

- (1) 像  $\frac{1}{2}$ 、 $\frac{1}{3}$ 、 $\frac{1}{4}$  的數，叫做分數。
- (2) 「 $\frac{1}{6}$ 」也可以記作「 $\frac{6}{1}$ 」。
- (3) 把一個披薩隨便切成 9 塊，其中的 1 塊一定是  $\frac{1}{9}$  個披薩。
- (4)  $\frac{1}{8}$  塊海綿蛋糕比  $\frac{1}{9}$  塊海綿蛋糕還要小。
- (5) 姐姐吃了半個蔥油餅，也可以說她吃了  $\frac{1}{2}$  個蔥油餅。
- (6) 一條吐司機平分切成 12 片，其中的 1 片是  $\frac{1}{12}$  條吐司機。
- (7) 一片巧克力平分成 8 塊，小娟先吃了 1 塊，是吃了  $\frac{1}{8}$  片巧克力；接著小敏也吃了 1 塊，是吃了  $\frac{1}{7}$  片巧克力。

**4** 把分數的讀法法和記法法連起來。(每條連線 2 分，共 12 分)



**5** 填填看看。(每格 2 分, 共 22 分)

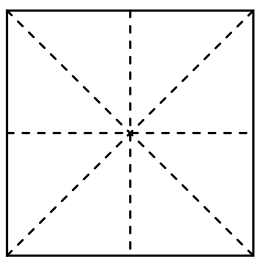
(1) 一盒仙草凍平分成 6 碗, 媽媽吃了其中的 1 碗, 也可以說是吃了  $(\frac{1}{6})$  盒仙草凍。

(2) 一盤烘蛋平分成 10 片, 妹妹吃了 1 片, 是吃了  $(\frac{1}{10})$  盤烘蛋。


(3) 爸爸吃了半個奶油酥餅, 是吃了  $(\frac{1}{2})$  個奶油酥餅。(用分數表示)

(4) 一瓶果汁平分成 3 杯, 弟弟喝了其中 1 杯, 是喝了  $(\frac{1}{3})$  瓶果汁, 妹妹也喝了 1 杯, 是喝了  $(\frac{1}{3})$  瓶果汁。


(5) 把一張紙對摺 3 次, 打開後, 紙被平分成  $(8)$  份, 每份是  $(\frac{1}{8})$  張紙。



(6) 爺爺和奶奶的杯子一樣大, 爺爺倒了  $\frac{1}{4}$  杯水, 奶奶倒了  $\frac{1}{3}$  杯水, 誰的杯子里的水比較多?( 奶奶 )



爺爺的  
杯子

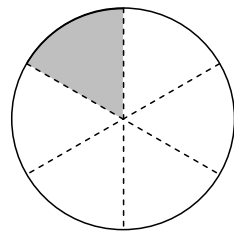
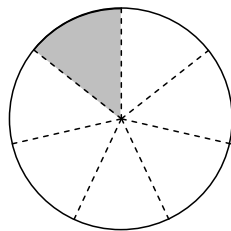


奶奶的  
杯子

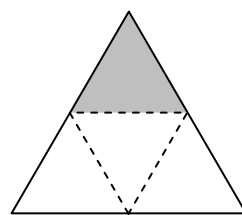
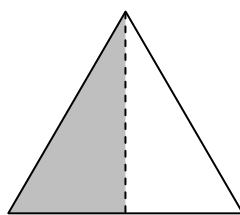
(7) 一條奶油捲和一條巧克力捲一樣大, 爸爸把奶油捲平分成 5 片, 把巧克力捲平分成 7 片。哥哥吃 1 片奶油捲, 是  $(\frac{1}{5})$  條, 姐姐吃 1 片巧克力捲, 是  $(\frac{1}{7})$  條, 哥哥和姐姐誰吃得比較多?( 哥哥 )

**6** 塗色部分是多或少? 填一填, 再用 > 或 < 的符號記記看。(每題 6 分, 共 18 分)

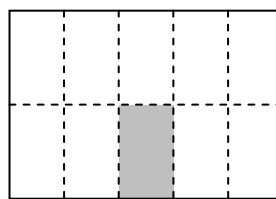
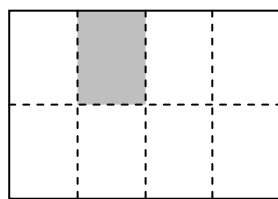
(1)  $(\frac{1}{7})$  <  $(\frac{1}{6})$



(2)  $(\frac{1}{2})$  >  $(\frac{1}{4})$



(3)  $(\frac{1}{8})$  >  $(\frac{1}{10})$



**7** 素養題。(每格 2 分, 共 10 分)

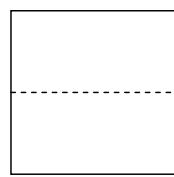
熙涵和沐恩做教室布置, 他們各有一張一樣大的色紙。

(1) 熙涵把色紙對摺 1 次,

打開後, 色紙被平分成

$(2)$  份, 每份是  $(\frac{1}{2})$

張色紙, 用來摺成花朵。

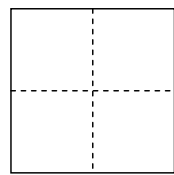


(2) 沐恩把色紙對摺 2 次,

打開後, 色紙被平分成

$(4)$  份, 每份是  $(\frac{1}{4})$

張色紙, 用來摺成樹葉。



(3) 熙涵用來摺成花朵的色紙, 和沐恩

用來摺成樹葉的色紙, 誰用的

色紙比較多?( 熙涵 )