

國小數學 2 下單元卷 八、分分看

二年 班 號 姓名： _____

1 下面哪些分法可以將 32 個果凍平分？可以的一畫○，不可以的一打×。(每題 2 分，共 10 分)

- (○) (1) 分成 2 包
- (×) (2) 分成 3 袋
- (×) (3) 分成 6 盒
- (○) (4) 分給 8 個人
- (○) (5) 分給爸爸、媽媽、我和弟弟

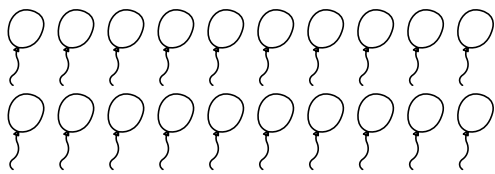
2 分分看。(每格 2 分，共 28 分)

(1) 把蘋果平分：




- ① 平分放入進 2 個盒子，每個盒子要放 (6) 個。
- ② 平分放在 4 個盤子，每個盤子要放 (3) 個。
- ③ 平分給 6 個小朋友，每個小朋友可以得 (2) 個。

(2) 把汽球平分：



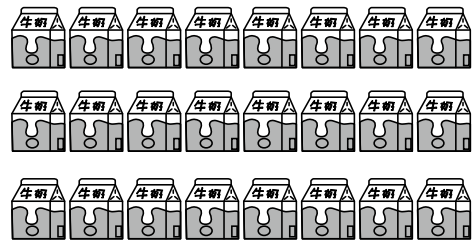
- ① 每 2 個綁成一束，可以綁成 (10) 束。
- ② 平分綁在 4 棵樹上，每棵樹上要綁 (5) 個。
- ③ 平分給 5 個小朋友，每個小朋友可以分到 (4) 個。
- ④ 如果要分給 8 個小朋友，可以平分嗎？(不可以)

(3) 把糖果平分：




- ① 每個小朋友分 5 顆，可以平分給 (7) 個小朋友。
- ② 平分給 5 個小朋友，每個小朋友可以分到 (7) 顆。

(4) 把牛奶平分：



- ① 平分給 2 個班級，每個班級分到 (12) 瓶。
- ② 平分給 4 個小隊，每個小隊分到 (6) 瓶。
- ③ 平分給 8 個小朋友，每個小朋友分到 (3) 瓶。

(5) 把小魚平分：



- ① 平分放入進 3 個魚缸，每個魚缸要放 (6) 隻。
- ② 平分放入進 6 個魚缸，每個魚缸要放 (3) 隻。

3 用乘法算式找出答案。

(每題 7 分，共 56 分)

- (1) 跆拳道比賽總共有 48 個人參賽，每個 6 個人分成 1 組，可以分成幾組？

$$6 \times 8 = 48$$

答：8 組

- (2) 有 27 隻蠶寶寶，每個盒子裝 9 隻，一共需要幾個盒子？

$$9 \times 3 = 27$$

答：3 個

- (3) 二年級一班有 24 個學生，校外教學時平分成 6 組，每組有幾個學生？

$$4 \times 6 = 24$$

答：4 個學生

- (4) 麵包店師傅做了 54 個小可頌，每個 6 個裝成一包，可以裝成幾包？

$$6 \times 9 = 54$$

答：9 包

- (5) 50 個綠豆椪，平分成 5 盒，每盒有幾個綠豆椪？

$$10 \times 5 = 50$$

答：10 個

- (6) 宣智有 40 張遊戲卡，想平分給 8 個好朋友，每個人可以得到幾張遊戲卡？

$$5 \times 8 = 40$$

答：5 張

- (7) 媽媽買了 28 顆雞蛋，想平分在 1 個星期煮完，媽媽每天要煮幾顆雞蛋？

一個星期有 7 天

$$4 \times 7 = 28$$

答：4 顆

- (8) 奶奶買了 24 朵香水百合，每個花瓶插 6 朵，需要多少個花瓶才能全部插完？

$$6 \times 4 = 24$$

答：4 個

4 素養題。(每題 3 分，共 6 分)(本題做法僅供參考)

媽媽帶瑋成參加披薩烘焙體驗營，這個梯次參加的親子人數總共有 24 個人。

- (1) 一張桌子可以讓 8 個人做披薩，要幾張桌子才夠？

$$8 \times 3 = 24$$

答：3 張

- (2) 老闆烤好了 6 個披薩招待大家，每個披薩要切成幾片，才會剛好一個人 1 片？

$$4 \times 6 = 24$$

答：4 片