
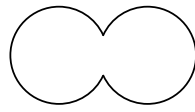

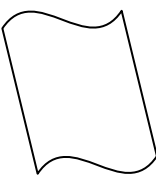
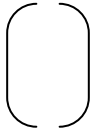
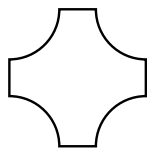


國小數學 2 下單元卷 十、周界與周長

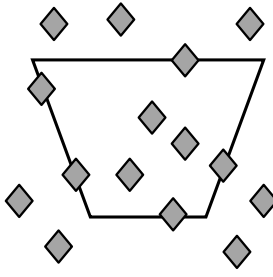
二年 班 號 姓名：_____

1 哪些圖形有周界？有的在()裡打 \checkmark ，沒有的打 \times 。(每題 2 分，共 12 分)

(1)  ()	(2)  ()	(3)  ()
(4)  ()	(5)  ()	(6)  ()

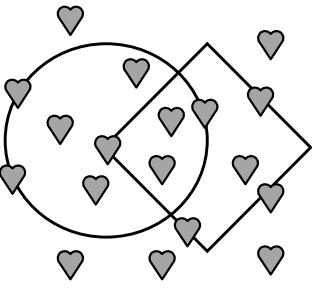
2 看圖回答問題。(每格 2 分，共 18 分)

(1)



圖形的周界上有()個 \blacklozenge ，
 內部有()個 \blacklozenge ，
 外部有()個 \blacklozenge 。

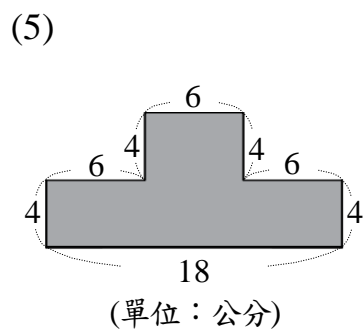
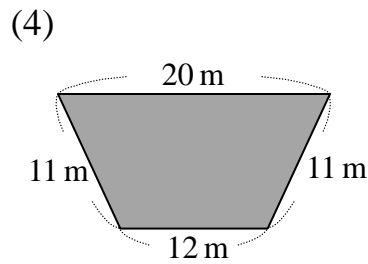
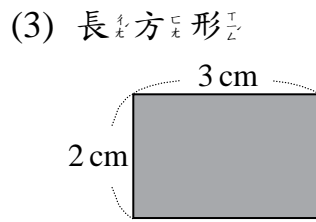
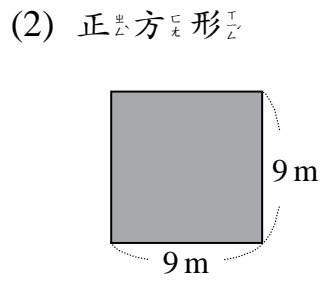
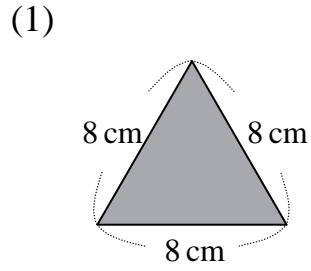
(2)



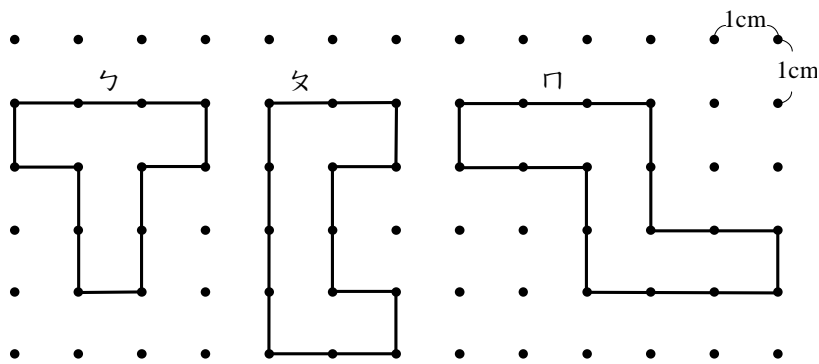
① 正方形的內部有()個 \heartsuit ，
 外部有()個 \heartsuit ，
 周界上有()個 \heartsuit 。

② 圓形的周界上有()個 \heartsuit ，
 外部有()個 \heartsuit ，
 內部有()個 \heartsuit 。

3 算出下面圖形的周長。(每題 4 分，共 20 分)



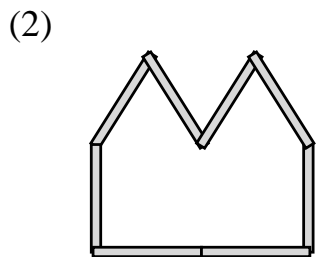
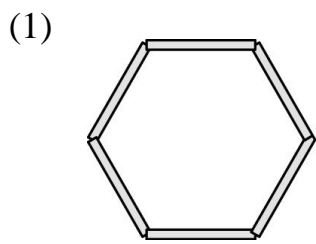
4 看圖填填看。(每格2分,共10分)



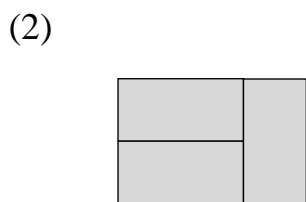
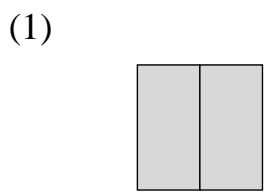
- (1) 周長最短的圖形是(), 它的周長是()公分。
- (2) 周長最長的圖形是(), 它的周長是()公分。
- (3) 夕的周長比口少()公分。

5 下面圖是用長10公分、寬5公分的竹籤圍出來的圖形,算出圖形的周長。

(每題4分,共8分)



6 下面圖是用長6公分、寬3公分的長方形圖卡拼成的,算出圖形的周長。(每題5分,共10分)



7 把做法和答案記下來。

(每題5分,共10分)

(1) 用每條長7公分的綿繩,圍成一個有8條邊的八邊形,它的周長是幾公分?

(2) 長方形花園的長是10公尺、寬是7公尺,這個長方形花園的周長是幾公尺?

8 素養題。(每題6分,共12分)

志寬的爺爺奶奶住在鄉下,他們平時會種一些蔬果,收成時還會寄到志寬家,讓他們品嚐。

(1) 爺爺奶奶的菜園是一個長8公尺、寬5公尺的長方形,如果想用繩子把菜園的周圍圍起來,需要幾公尺長的繩子?

(2) 如圖,爺爺決定在菜園開闢一條寬1公尺的道路,如果想用繩子分別把兩塊菜園圍起來,需要幾公尺長的繩子?

