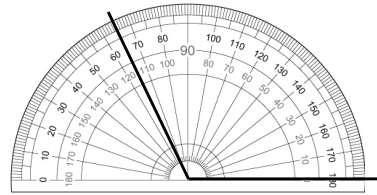


一、畫畫看

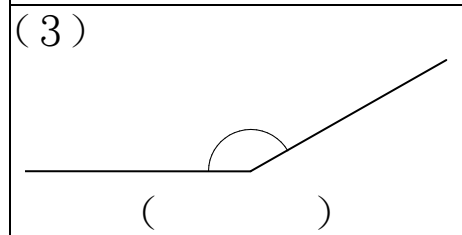
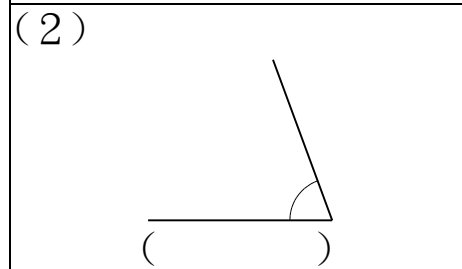
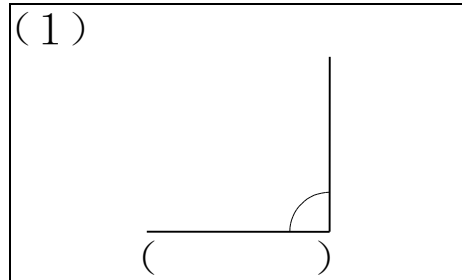
1. 畫出指定度數的角。  
50°

2. 畫出指定度數的角。  
95°



( )

2. 下列各角是銳角、直角或鈍角？填填看。



二、回答問題

1. 拿出量角器做做看。
  - (1) 外圈刻度 30 的線和刻度 40 的線所形成的角是幾度？答：( )
  - (2) 內圈刻度 60 的線和刻度 70 的線所形成的角是幾度？答：( )
  - (3) 外圈刻度 100 的線和刻度 110 的線所形成的角是幾度？答：( )
  - (4) 內圈刻度 40 的線和刻度 50 的線所形成的角是幾度？答：( )

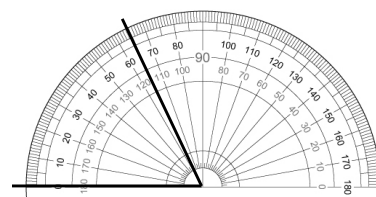
三、看圖做做看

1. 量量看，下面的角再寫出是銳角、直角或鈍角。

<p>(1)</p> <p>( ) 角</p>	<p>(2)</p> <p>( ) 角</p>
<p>(3)</p>	

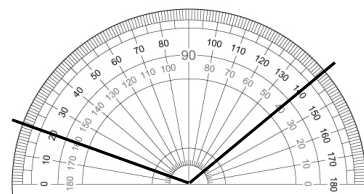
四、看圖填填看

1. 下面的角是幾度？記得加上單位「°」。



( )

4. 下面的角是幾度？記得加上單位「°」。



( )