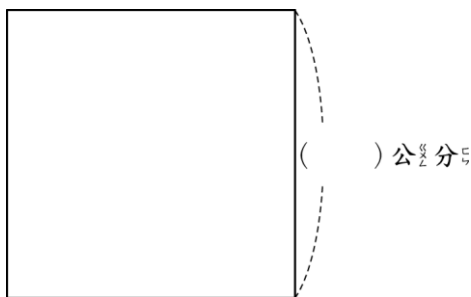


一、填填看

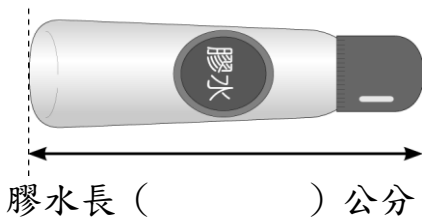
- 4.8 公分 = () 公分 () 毫米
- 0.7 公分 = () 毫米
- 用小數記記看。
33 毫米 = () 公分
- 0.8 公分 = () 毫米
- 用小數記記看。
75 毫米 = () 公分
- 12 公分 6 毫米 = () 毫米
- 5 公分 7 毫米是 () 公分。
- 用小數記記看。
8 毫米 = () 公分
- 5.6 公分 = () 公分 () 毫米
- 用小數記記看。
15 公分 6 毫米 = () 公分
- 10.2 公分 = () 公分 () 毫米
- 用小數記記看。
1 毫米 = () 公分
- 6.6 公分 = () 毫米
- 用小數記記看。
2 公分 9 毫米 = () 公分
- 7.3 公分是 () 公分 () 毫米

二、量量看

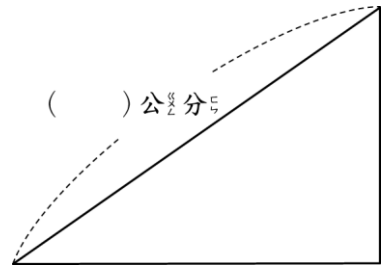
- 量量看，將答案用小數記在 () 中。



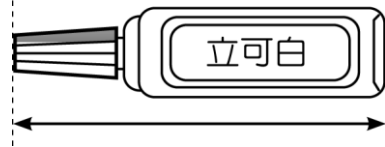
- 用尺量量看，用小數表示長度。



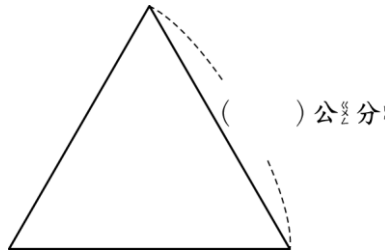
- 量量看，將答案用小數記在 () 中。



- 用尺量量看，用小數表示長度。




- 量量看，將答案用小數記在 () 中。



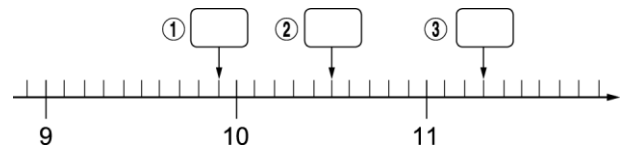
三、看圖填填看

- 在數線上向右數或向左數。

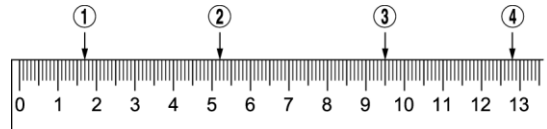


- (1) 由 2.7 向右數 5 個 0.1 是 ()
- (2) 由 4.2 向左數 6 個 0.1 是 ()
- (3) 由 3.6 向右數 7 個 0.1 是 ()
- (4) 由 3.1 向左數 4 個 0.1 是 ()

- 在數線上的 中填入小數。



-



- ① () 公分
- ② () 公分
- ③ () 公分
- ④ () 公分