

一、寫出算式做做看

1. 媽媽將 79 公升的葵花油，每 8 公升裝成 1 瓶，全部裝完需要幾個瓶子？

2. 正傑有 156 顆紅球和 110 顆黃球，他將紅球和黃球合起來，平分成 7 袋，每袋有幾顆球？

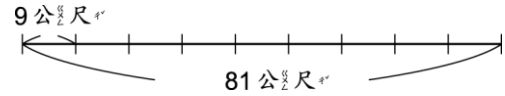
3. 工人設置路燈，每兩盞的間隔一樣長，從第 1 盞到第 9 盞的距離是 320 公尺，每個間隔長幾公尺？



4. 小華和 3 個朋友點了一個 550 元的披薩和 1 瓶 62 元的果汁，平均每個人要出幾元？

5. 有 268 人排隊搭乘摩天輪，每個車廂可以坐 8 人，至少需要幾個車廂才足夠？

6. 在 81 公尺的走道上，從一端到另一端，每隔 9 公尺設一盞路燈，全部共有幾盞路燈？



7. 超級市場進貨 900 顆雞蛋，運送時打破了 36 顆，將剩下的雞蛋每 8 顆裝成 1 盒，共可裝成幾盒？

8. 惠文有 377 元，買了一本 185 元的故事書後，她用剩下的錢買每枝 8 元的棒棒糖，可以買幾枝棒棒糖？

9. 將 6 顆大木瓜裝進木箱，總重量是 19 公斤，木箱重 1 公斤，一顆大木瓜重幾公斤？

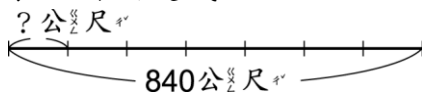
10. 大賣場現在有 240 條牙膏，推出「買 2 條牙膏送 1 條牙膏」的特價組合，可以組合成幾組？

11. 王老闆買了 147 罐果汁，自己留下 15 罐，剩下的每 6 罐裝成一箱出售，共可裝成幾箱？

12. 將 425 顆白巧克力和 367 顆黑巧克力混合後，每 9 顆裝成 1 包，共可裝成幾包？

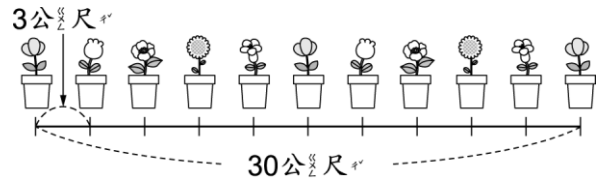
13. 陳老闆買進 190 顆蘋果，他先送給朋友 22 顆後，再將剩下的蘋果每 6 顆裝成 1 盒出售，共可裝成幾盒？

14. 在長 840 公尺的道路上，從起點到終點共有 8 個垃圾桶，間隔一樣長，每個間隔是幾公尺？



15. 每一種麻糬的價格都一樣，芳婷買了 5 個紅豆麻糬，彥廷買了 3 個花生麻糬，兩人共付了 224 元，1 個麻糬賣多少元？

16. 岳峰家的圍牆外放了一排盆栽，每盆的間隔是 3 公尺，從頭排到尾共 30 公尺，全部共有幾盆花？



17. 茶桶內原有 4 公升的紅茶，媽媽又倒入 6 瓶紅茶後，茶桶內現在有 22 公升的紅茶，1 瓶紅茶有多少公升？

18. 視聽中心每排椅子可以坐 8 人，三年級 194 位學生坐進視聽中心後，還有 6 個空位。視聽中心有幾排椅子？

19. 675 位小朋友參加露營活動，每 6 人睡一個帳篷，最少需要幾個帳篷？