

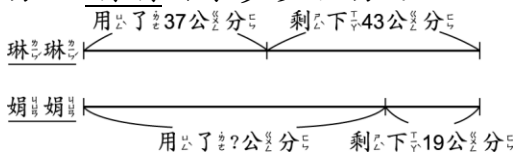
一、選出正確的答案（選擇題）

- ( ) 一本故事書厚2公分8毫米，4本相同的故事書疊在一起，共厚幾公分幾毫米？ ① 1公分12毫米 ② 11公分2毫米 ③ 110公分2毫米 ④ 112公分。
- ( ) 有一隻蝸牛想爬到樹上，第1天爬了57毫米，第2天比第1天多爬了2公分5毫米，第3天比第2天少爬了15毫米，這3天共爬了幾毫米？ ① 47毫米 ② 67毫米 ③ 82毫米 ④ 206毫米。

二、寫出算式做做看

- 機器狗旺來5秒可走3公分，10秒可以走多少毫米？

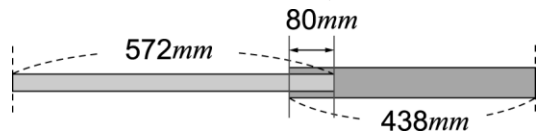
- 琳琳和娟娟各有一條一樣長的彩帶，琳琳用了37公分，還剩下43公分，娟娟用了一些後，還剩下19公分，娟娟用了多少公分？



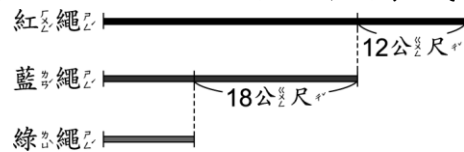
- 有兩枝木棍捆在一起，捆綁重疊的部分是20公分長，兩枝木棍分別長5公尺28公分和3公尺39公分，捆綁之後的長度是幾公尺幾公分？

- 姐姐將一條緞帶剪下兩段後，還剩下8毫米，如果每段都是25公分7毫米長，緞帶原來有多長？

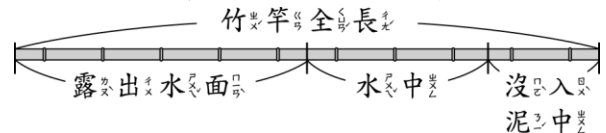
- 將兩張紙條如下圖黏在一起，黏在一起之後的長度有多少毫米？



- 紅繩比藍繩長12公尺，藍繩比綠繩長18公尺，紅繩比綠繩長幾公尺？

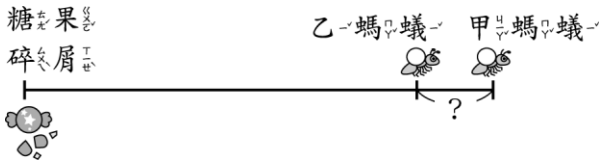


- 一根竹竿插在水中，在水底沒入泥土的部分長95公分，水中部分長1公尺55公分，露出水面的長度是全長的一半，這根竹竿長多少公分？



2-5 卷三年 班座號： 姓名：

8. 螞蟻們發現糖果碎屑，甲、乙兩隻螞蟻各搬一塊，同一直線、同時往巢裡移動，1分鐘後甲螞蟻走了2公尺15公分，乙螞蟻走了1公尺80公分，此時兩隻螞蟻相距多少公分？



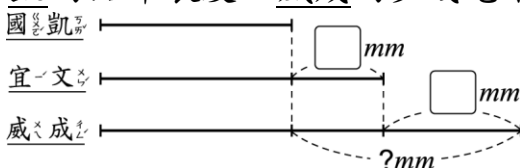
9. 崇崇與忠忠進行四驅車比賽，已知崇崇的車4秒可走2公分，忠忠的車1秒可走5毫米，誰的車跑得比較快？

10. 允赫的身高從出生到現在長高了134公分，他現在的身高是1公尺85公分。

(1) 允赫出生時的身高是幾公分？

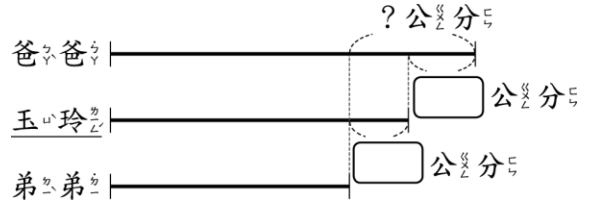
(2) 如果哥哥現在的身高是198公分，兩人身高相差幾公分？

11. 國凱和同學比鉛筆長度，國凱的鉛筆長度比宜文的少24毫米，宜文的鉛筆長度又比威成的少36毫米，國凱的鉛筆長度比威成的少幾毫米？

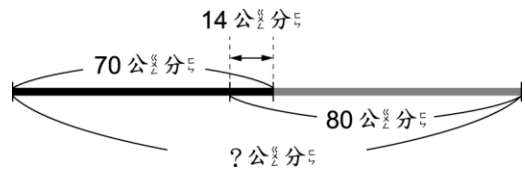


12. 鈺萱有長85毫米的紅緞帶和長90毫米的藍緞帶，她用掉紅緞帶37毫米後，兩條緞帶共長幾毫米？

13. 爸爸比玉玲高33公分，玉玲比弟弟高29公分，爸爸比弟弟高幾公分？



14. 兩條繩子如下圖連接在一起，連接之後的長度是多少公分？



15. 有三條繩子，紅繩比藍繩長36毫米，藍繩比綠繩長17毫米，紅繩比綠繩長幾毫米？

