

### 一、算算看

- 尺上6小格的長是( )毫米；  
再加1小格，長度是( )毫米

### 二、畫畫看

- 用尺畫出指定長度的直線。  
4公分1毫米

- 用尺畫出指定長度的直線。  
3公分8毫米

- 用尺畫出指定長度的直線。  
2公分7毫米

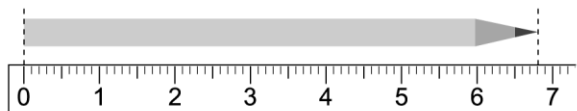
- 用尺畫出指定長度的直線。  
5公分9毫米

- 用尺畫出指定長度的直線。  
5公分2毫米

- 用尺畫出指定長度的直線。  
4公分3毫米

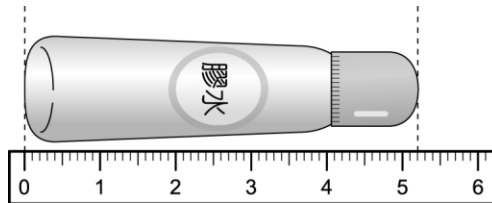
### 三、看圖填填看

- 有多長？填填看。




彩色筆長( )公分  
( )毫米

- 有多長？填填看。



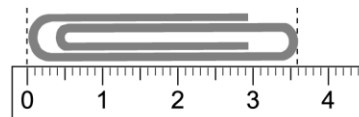
膠水長( )公分  
( )毫米

- 有多長？填填看。



橡皮擦長( )公分  
( )毫米

- 有多長？填填看。



迴紋針長( )公分  
( )毫米