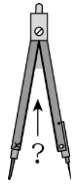
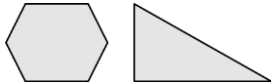


一、對的畫○，錯的打×（是非題）

1. ( )圓規的兩腳距離愈遠，張開形成的夾角就愈大。



2. ( )下面兩個圖形中，共有8個角

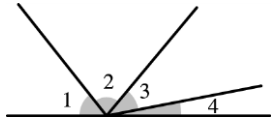


3. ( )一個角包含2個邊、1個頂點

4. ( )角的邊長愈長，所形成的角就愈大。

二、選出正確的答案（選擇題）

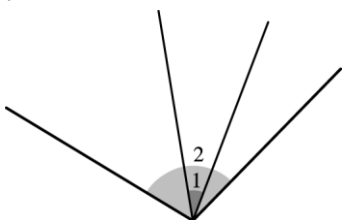
1. ( )下圖中，哪一個角最小？



①角1 ②角2 ③角3 ④角4。


2. ( )下面關於角的敘述，哪一個是錯的？  
 ①圓形上找不到角  
 ②邊長愈長角愈大  
 ③一個角有兩個邊  
 ④一個角有一個頂點。

3. ( )看下面的圖，哪一個敘述正確？



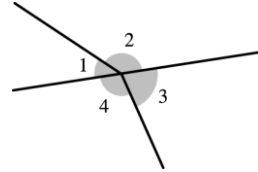
①角1比較大 ②角2比較大 ③角1和角2一樣大 ④角1是角2的3倍大。

4. ( )下面圖片中，哪一個可以找到角？



5. ① ② ③

6. ( )下圖中，哪一個角最大？

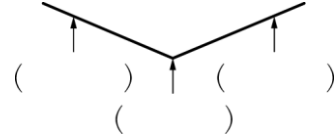


①角1 ②角2 ③角3 ④角4。

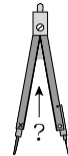
三、填填看

1. 一個角會包含( )個頂點、( )個邊。

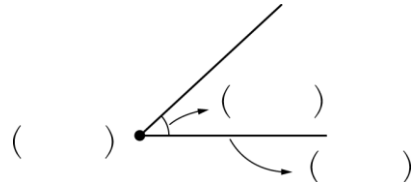
2. 角的頂點和邊在哪裡？填填看。



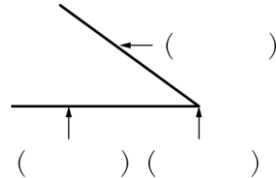
3. 圓規兩腳距離愈遠，張開的角就愈( )。(填大或小)



4. 填入頂點、邊、角。



5. 角的頂點和邊在哪裡？填填看。



四、勾選題

1. 下面哪些圖片中，可以找到角？在( )中打√。

(1)剪刀




( )

(2)鍋子



( )

(3)光碟片



( )

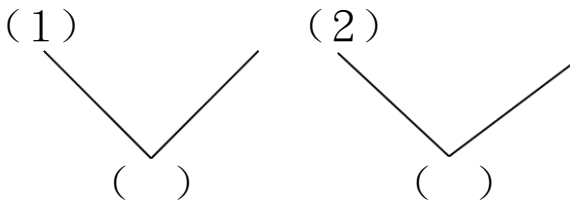
(4)電視機



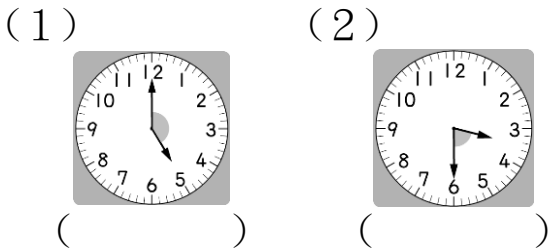
( )

10-3卷三年 班座號： 姓名：

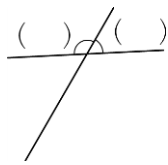
2. 比比看，哪一個角比較大？在（ ）中打√。



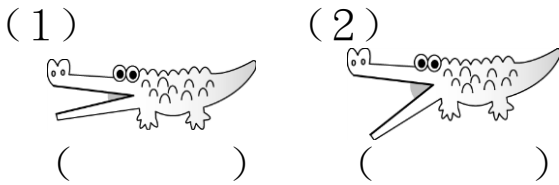
3. 比一比，哪一個鐘面的時針和分針所夾的角比較大？請打√。



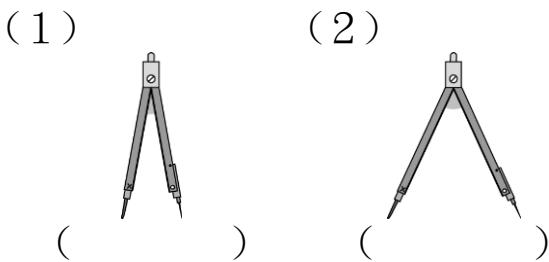
4. 下圖哪一個角比較大？在（ ）內打√。



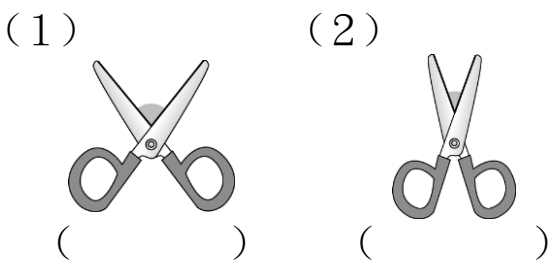
5. 比一比，哪一隻鱷魚嘴巴張開的角比較大？請打√。



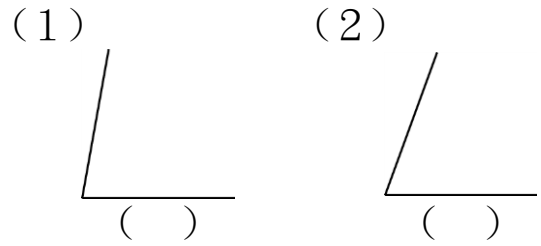
6. 比一比，哪一支圓規張開的角比較大？請打√。



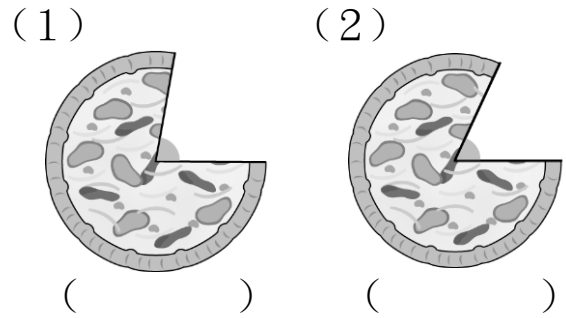
7. 比一比，哪一把剪刀張開的角比較大？請打√。



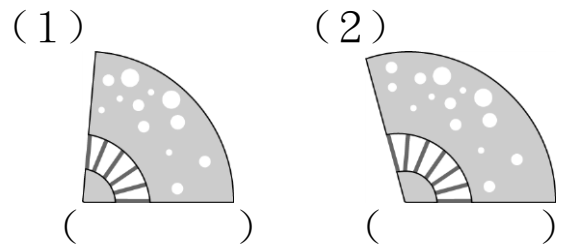
8. 比比看，哪一個角比較大？在（ ）中打√。



9. 比一比，哪一個披薩切掉部分的角比較大？請打√。

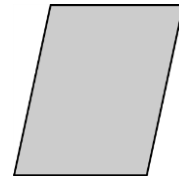


10. 比一比，哪一把扇子張開的角比較大？請打√。




### 五、看圖填填看

1. 數數看，下面圖形裡共有幾個角？



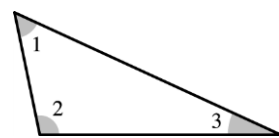
( ) 個角

2. 數數看，下面圖形裡共有幾個角？



( ) 個角

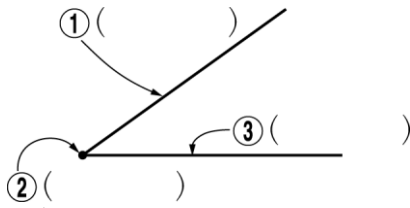
3.




三角形裡的三個角，角（ ）最小，角（ ）最大。

10-3卷三年 班座號： 姓名：

4. 寫出角的各部位名稱。

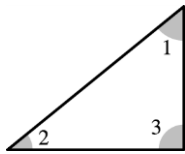


5. 數數看，下面圖形裡共有幾個角？




( ) 個角

6.



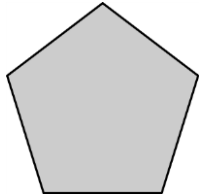
三角形裡的三個角，角 ( ) 最小，角 ( ) 最大。

7. 數數看，下面圖形裡共有幾個角？



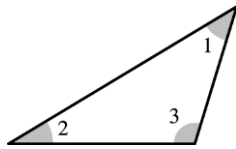
( ) 個角

8. 數數看，下面圖形裡共有幾個角？



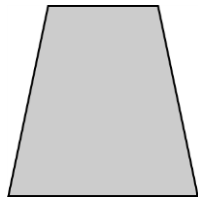
( ) 個角

9.



三角形裡的三個角，角 ( ) 最小，角 ( ) 最大。

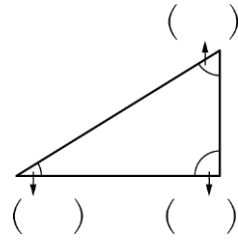
10. 數數看，下面圖形裡共有幾個角？



( ) 個角

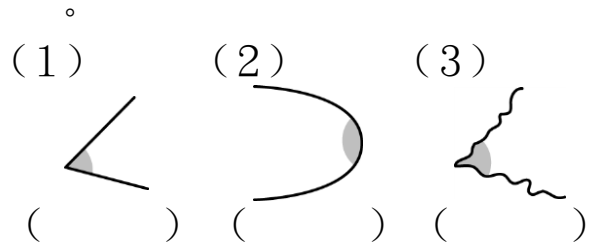
### 六、做做看

1. 下圖三角形中，最大的角打√，最小的角打×。

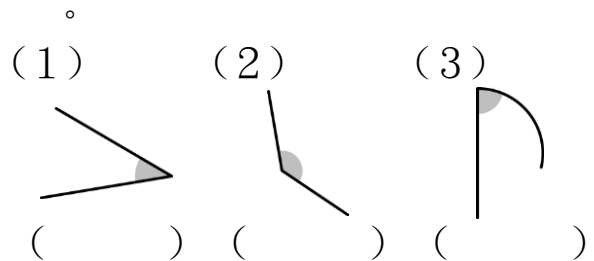


### 七、對的打√，錯的打×

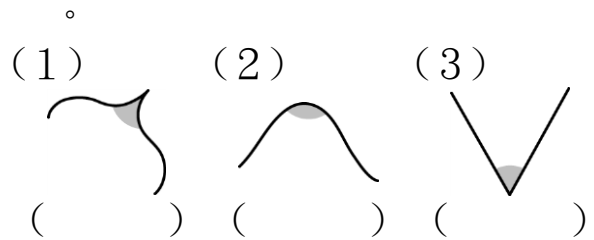
1. 下面圖形是角的打√，不是的打×。



2. 下面圖形是角的打√，不是的打×。



3. 下面圖形是角的打√，不是的打×。



4. 下面圖形是角的打√，不是的打×。

