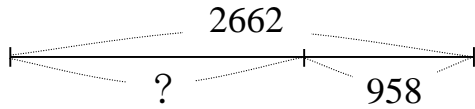
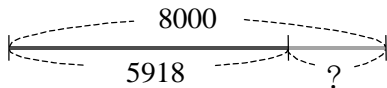


一、算算看

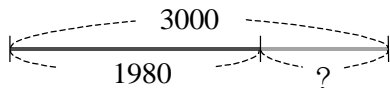
1. 算算看，() 中的數是多少？
 () + 958 = 2662



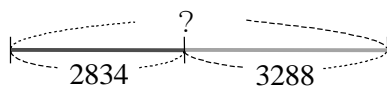
2. 算算看，() 中的數是多少？
 5918 + () = 8000



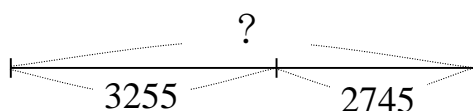
3. 算算看，() 中的數是多少？
 1980 + () = 3000



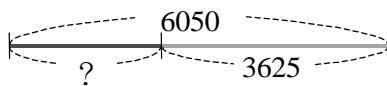
4. 算算看，() 中的數是多少？
 () - 2834 = 3288



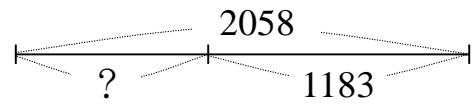
5. 算算看，() 中的數是多少？
 3255 + 2745 = ()



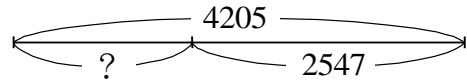
6. 算算看，() 中的數是多少？
 () + 3625 = 6050



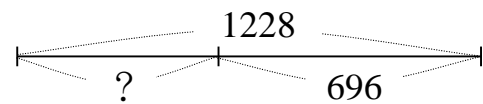
7. 算算看，() 中的數是多少？
 2058 - () = 1183



8. 算算看，() 中的數是多少？
 () + 2547 = 4205



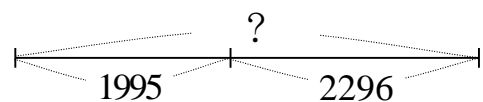
9. 算算看，() 中的數是多少？
 1228 - () = 696



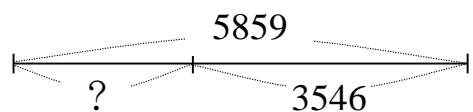
10. 算算看，() 中的數是多少？
 3451 - () = 1926



11. 算算看，() 中的數是多少？
 () - 1995 = 2296

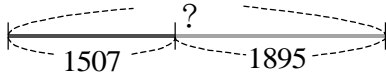


12. 算算看，() 中的數是多少？
 () + 3546 = 5859



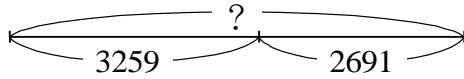
13. 算算看，() 中的數是多少？

$$() - 1507 = 1895$$



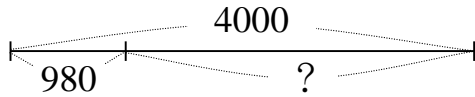
14. 算算看，() 中的數是多少？

$$() - 3259 = 2691$$



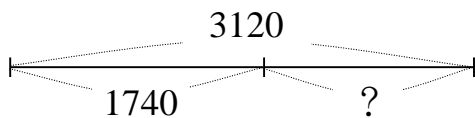
15. 算算看，() 中的數是多少？

$$4000 - 980 = ()$$



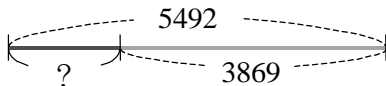
16. 算算看，() 中的數是多少？

$$1740 + () = 3120$$



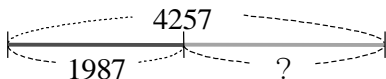
17. 算算看，() 中的數是多少？

$$5492 - () = 3869$$



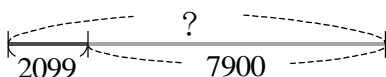
18. 算算看，() 中的數是多少？

$$1987 + () = 4257$$



19. 算算看，() 中的數是多少？

$$() - 2099 = 7900$$



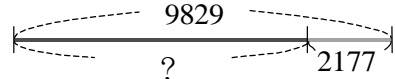
20. 算算看，() 中的數是多少？

$$1238 + () = 2074$$



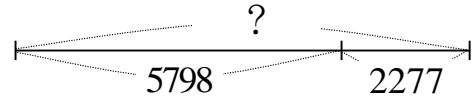
21. 算算看，() 中的數是多少？

$$() + 2177 = 9829$$



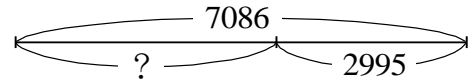
22. 算算看，() 中的數是多少？

$$() - 5798 = 2277$$



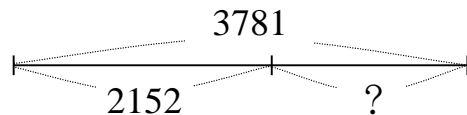
23. 算算看，() 中的數是多少？

$$7086 - () = 2995$$



24. 算算看，() 中的數是多少？

$$2152 + () = 3781$$



25. 算算看，() 中的數是多少？

$$8372 - () = 3958$$

