
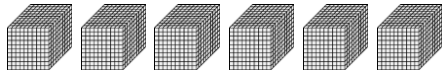


一、對的畫○，錯的打×（是非題）


1. () 2個千、4個百和5個十合起來是2450。

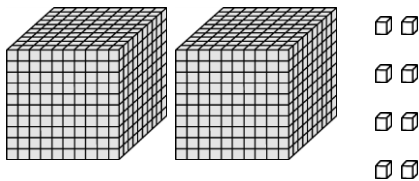
二、選出正確的答案（選擇題）

1. () 一個  是一千，數一數，有多少？



① 4000 ② 5000 ③ 6000 ④ 10000

2. () 下圖共有幾個  ？



① 208個 ② 2080個 ③ 2008個 ④ 2800個。

三、填填看

1. 「四千零三」記成數字是 ()。

2. 「九千九百零一」記成數字是 ()。

3. 有多少元？填填看。



() 元

4. 10個1000是 ()，讀作 ()。

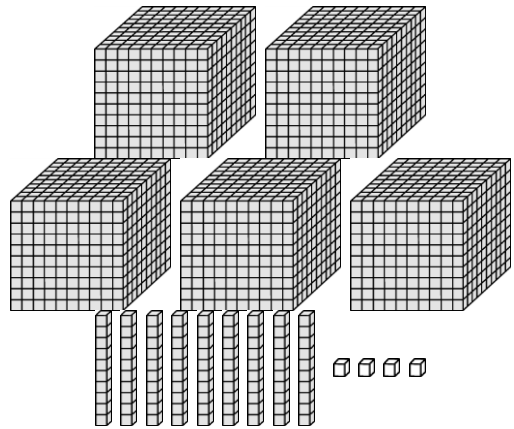
5. 3個千、4個百和8個一合起來是 ()，讀作 ()。

6. 6904讀作 ()。

7. 5個千、4個百和1個十合起來是 ()，讀作 ()。

四、看圖填填看

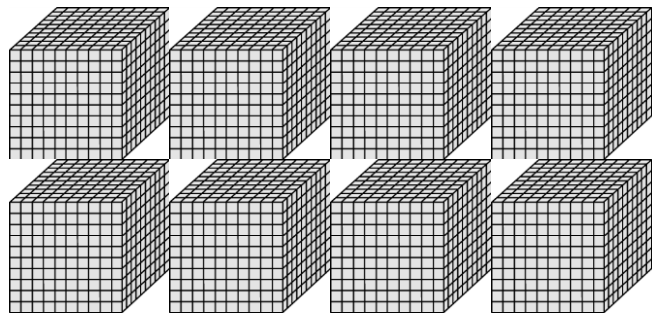
1. 有多少？數數看。



千位	百位	十位	個位

共有 () 個 

2.



() 個千是 ()，讀作 ()。

五、做做看

1. 小嘉有6張1000元、8張100元和3個10元，一架電視機6830元，一臺手機3860元、一臺相機3680元，剛好可以買哪一樣東西沒有剩下錢？先將小嘉的錢用 $\boxed{1000}$ 、 $\boxed{100}$ 與 $\textcircled{10}$ 表示，再把剛好可以買的東西圈起來。



6830元 $\frac{\text{元}}{100}$



3860元 $\frac{\text{元}}{100}$



3680元 $\frac{\text{元}}{100}$