

一、選出正確的答案（選擇題）

1. ()第6人到第12人之間，共有幾個間隔？



- ① 5個 ② 6個 ③ 7個 ④ 12個。

二、做做看

1. 王伯伯晒胡蘿蔔，如下圖。



1 2 3 4 5 6 7 8 9 10 11 12 13

- (1) 第1根胡蘿蔔和最後1根胡蘿蔔之間共有幾個間隔？

- (2) 第8根胡蘿蔔和第12根胡蘿蔔之間共有幾個間隔？

- (3) 王伯伯在每2根胡蘿蔔之間放1根白蘿蔔，已知第3根為胡蘿蔔，請先用色筆將上圖的胡蘿蔔塗上顏色。13根蘿蔔中，有

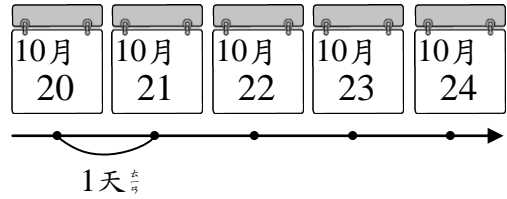
- () 根胡蘿蔔與
() 根白蘿蔔。

三、寫出算式做做看


1. 從第8人到第16人之間，共有幾個間隔？




2. 今天是10月20日，再過8天要舉行期中考試，期中考試是幾月幾日？



3. 兩個★之間有一個間隔，第16個★到第23個★之間有幾個間隔？



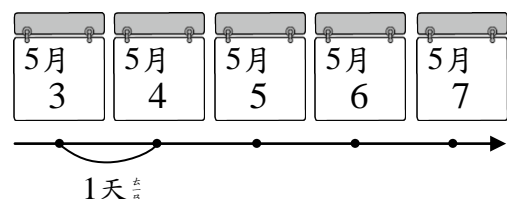
4. 第34棵樹到第42棵樹之間，共有幾個間隔？



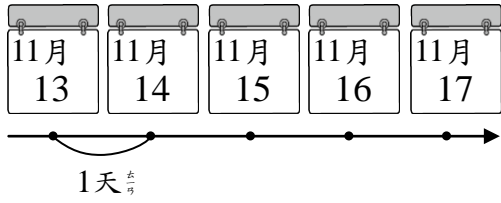
5. 小鳥依照順序飛，一次飛一個間隔到另一棵樹上，從第29棵樹飛到第40棵樹，小鳥共飛了幾次？



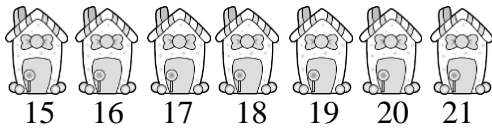
6. 爸爸5月27日要出國，今天是5月3日，再過幾天爸爸就要出國？



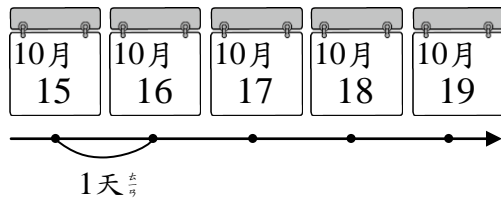
7. 工人從11月13日開始粉刷教室牆壁，再過6天才會完成，粉刷完再過8天才能開始上課。上課的日子是幾月幾日？



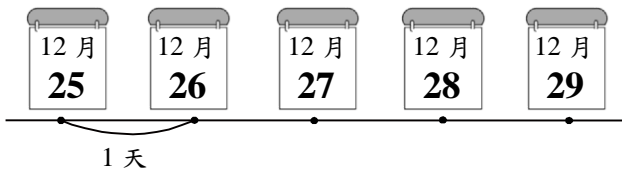
8. 2間糖果屋之間有1個間隔，第15間糖果屋到第21間糖果屋之間有幾個間隔？




9. 百貨公司10月15日週年慶，週年慶再過13天是食品展，食品展是幾月幾日？



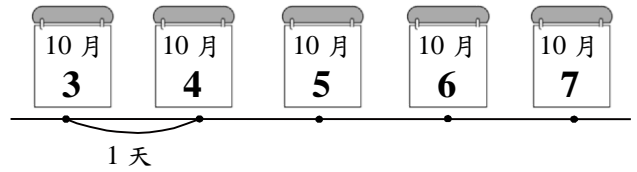
10. 如果今天是12月25日耶誕節，還要再過幾天才會是12月31日？



11. 今天是5月16日，再過8天就是惠文的生日，惠文的生日是幾月幾日？



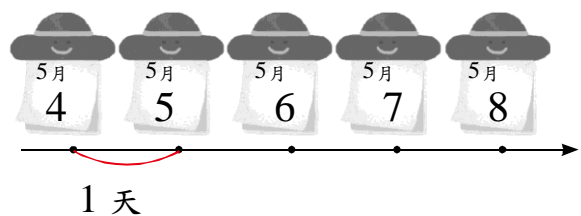
12. 今天是10月3日，再過1星期就是國慶日，國慶日是幾月幾日？（國慶日就是中華民國的生日）



13. 三年級小朋友表演大會操，表演隊伍每1排有25人，在第16個人到第21個人之間有幾個間隔？



14. 今天是5月4日，再過一星期就是美術展，美術展再過6天就是合唱表演，合唱表演是幾月幾日？



15. 第7棟房子到第11棟房子之間有幾個間隔？