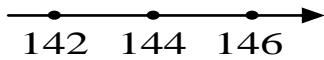


一、選出正確的答案(選擇題)

1. ()下圖的數線上有3個數，分別是甲、乙、丙，已經知道甲 > 丙 > 乙，下面敘述哪一個正確？



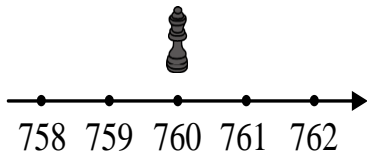
- ①甲是142，乙是144，丙是146 ②乙在丙的右邊 ③甲在乙的右邊 ④甲是146，乙是144，丙是142。

2. ()下面的敘述，哪一個人是對的？

小明：在數線上，越右邊的數越小
 小華：在數線上，越左邊的數越大
 小龍：在數線上，越左邊的數越小
 小翰：在數線上，無法判斷數的大小。


- ①小明 ②小華 ③小龍 ④小翰。

3. ()黑棋子從760移到778，再從778移到1000的位置，黑旗子是怎麼移動的？



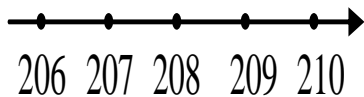
- ①先向左移，再向右移 ②先向右移，再向左移 ③先向左移，再向左移 ④先向右移，再向右移。

4. ()下圖的數線部分被緞帶遮住，下面哪一個數不是被緞帶遮住的範圍？



- ①190 ②120 ③155 ④201。

5. ()在數線上，245在208的哪一邊？



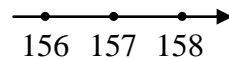
- ①左邊 ②右邊 ③中間 ④無法判斷

二、填填看

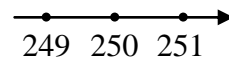
1. 兔子原來在29的位置，如果兔子想要跳到107的位置，兔子要往()跳。(填左或右)



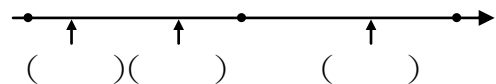
2. (1)在數線上，101在157的右邊或左邊？()
 (2)在數線上，169在157的右邊或左邊？()
 (3)101和169，哪一個數比較小？()



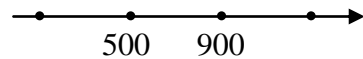
3. (1)在數線上，205在250的右邊或左邊？()
 (2)205和250，哪一個數比較大？()



4. 小美、小英、小名3人一起從直線的道路一端走，小美走了110公尺，小英走180公尺，小名走了135公尺，用數線表示，他們可能會在下面哪一個位置上？請在()裡寫出他們3人的位置。



5. 在數線上有3個數，分別是1000、600、400，回答下面問題。



- (1)在900右邊的數是()。
 (2)在500~900之間的數是()
 (3)在500左邊的數是()。

三、看圖填填看

1. 下圖的數線上有3個數，分別是甲、乙、丙，已經知道甲比乙小，丙比甲小，甲是()，乙是()，丙是()。

