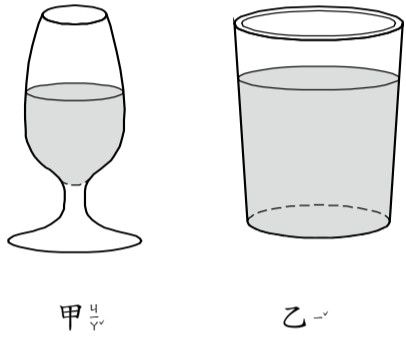


一、選擇題：每題 2 分、共 10 分

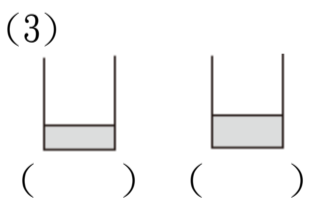
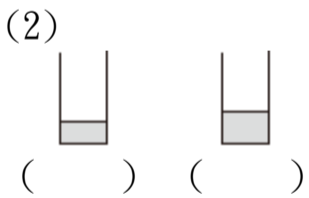
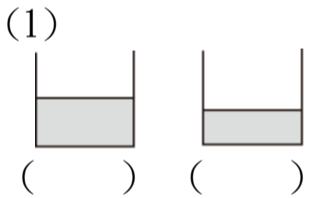
- () 1. 下面哪一個選項的答比 50 大？
 ① $91-55$ ② $75-29$ ③ $97-37$
- () 2. 一條緞帶長 52 公分，包裝禮物用掉 23 公分後，這條緞帶剩下幾公分？
 ① 29 公分 ② 30 公分 ③ 31 公分
- () 3. 下面哪一個選項的答最大？
 ① $76-48$ ② $35-11$ ③ $61-23$
- () 4. 8 個 4 合起來是多多少？
 ① 28 ② 32 ③ 36
- () 5. 下面哪一個杯子的水比較多？




- ① 甲杯 ② 乙杯 ③ 一樣多

二、比比看：第 4 題每小題 2 分，餘各 1 分、共 20 分

1. 比比看，水比較多的在 () 裡打 \checkmark ：



2. 哪一個容器的水比較少？在 () 裡打 \checkmark ：



3. 哪一個杯子的水比較多？在 () 裡打 \checkmark ：

- (1) () (2) ()



4. 比比，在 () 裡填入 $>$ 、 $<$ 或 $=$ ：

- (1) 4×4 () 14
 (2) 30 () 5×6
 (3) 12 () 2×7
 (4) 5×8 () 35
 (5) 8×2 () 2×8

三、連連看：每個選項 2 分、共 20 分

1. 把答案一樣的先連起來：

① 2 的 5 倍	•	• 5 有 5 個
② 5 有 5 個	•	• 2 有 3 個
③ 2×4	•	• $2+2+2+2+2$
④ 5×2	•	• $5+5$
⑤ $5+5+5$	•	• 5×5
		• 2 有 4 個

2. 把答案一樣的先連起來：

	•	• 5 有 6 個
	•	• 2 的 3 倍
	•	• 5×9
	•	• $2+2+2$
	•	• 5×6

※ 深呼吸，放鬆一下，背面還有試題喔！

四、計算題：每題 5 分、共 15 分

先用直式計算，再看，再驗算檢查。

1. $59 + 92$

2. $92 - 59$

3. $43 - 15$

五、填填看：算式 2 分，餘各 1 分、共 10 分

1. 2 個人 1 組參加兩腳人三腳遊戲，5 組共有幾個人？把做法用加法算式記下來。

加法算式：

① 5 組共有 () 個人。

② 算式中 2 有 () 個，是 2 的 () 倍。

2. 1 串貢丸有 8 個，7 串共有幾個貢丸？把做法用加法算式記下來。

加法算式：

① 7 串有 () 個貢丸。

② 算式中 8 有 () 個，是 8 的 () 倍。

六、應用題：每題 3 分、共 15 分

1. 羚羊跳 1 次的距離是 4 公尺。

(1) 跳 5 次是跳了多少公尺？

(2) 跳 7 次是跳了多少公尺？

(3) 跳 9 次是跳了多少公尺？

答：

2. 1 串衛生紙有 8 包，5 串共有幾包衛生紙？

答：有 () 包

3. 冰箱裡有 46 個雞蛋，媽媽做菜用掉 18 個。冰箱裡還剩下幾個雞蛋？

答：() 個

七、估估看：每題 2 分、共 10 分（完整作答才給分）

1. 圈出最接近「 $68 - 19$ 」答案的數。

(1) 50 (2) 60 (3) 70

2. 圈出最接近「 $60 - 19$ 」答案的數。

(1) 30 (2) 40 (3) 50

3. 圈出最接近「 $68 - 21$ 」答案的數。

(1) 30 (2) 40 (3) 50

4. 圈出最接近「 $71 - 19$ 」答案的數。

(1) 50 (2) 60 (3) 70

5. 圈出最接近「 $71 - 21$ 」答案的數。

(1) 40 (2) 50 (3) 60

