

一年 班 號 姓名：

① 看月曆回答問題。

(每格 2 分，共 24 分)

5 月						
日	一	二	三	四	五	六
		1	2	3	4	5
6	7	8	9	10	11	12
13	14	15	16	17	18	19
20	21	22	23	24	25	26
27	28	29	30	31		

1. 5 月共有 ( ) 個星期。

2. 如果今天是 5 月 9 日；明天是 ( ) 月 ( ) 日星期 ( )；昨天是 ( ) 月 ( ) 日星期 ( )。

3. 如果今天是 5 月 28 日；明天是 ( ) 月 ( ) 日星期 ( )；昨天是 ( ) 月 ( ) 日。

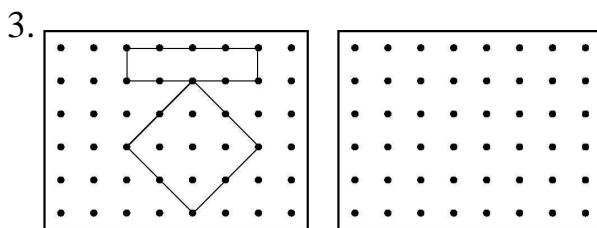
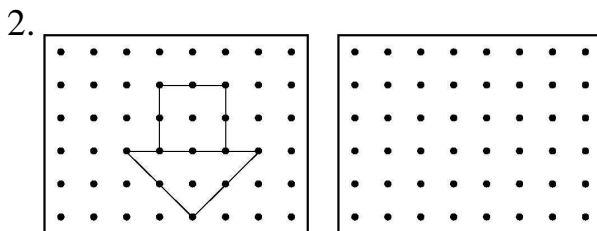
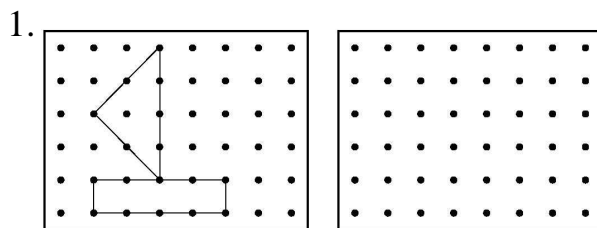
② 算算看看，用直式記下來。

(每題 3 分，共 12 分)

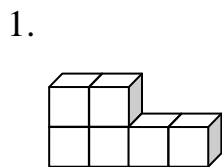
1.  $76 - 5 = ( )$       2.  $42 + 5 = ( )$

3.  $51 - 21 = ( )$       4.  $39 + 30 = ( )$


③ 在釘板上畫出和右邊一樣樣的圖形。(每題 4 分，共 12 分)



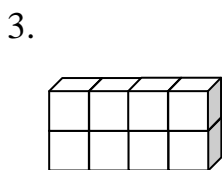
④ 數一數，下面形體是用幾個排成的？(每題 3 分，共 12 分)



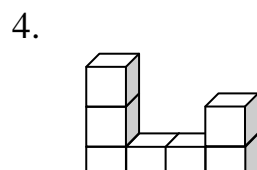
( ) 個



( ) 個



( ) 個



( ) 個

5 寫出直式和答案。

(每題 4 分，共 20 分)



1. 和 一共幾顆？

直式：

( ) 顆

2. 和 一共幾顆？

直式：

( ) 顆

3. 和 相差幾顆？

直式：

( ) 顆

4. 和 相差幾顆？

直式：

( ) 顆

5. 比 多 8 顆， 一共幾顆？

直式：

( ) 顆

6 算算看，再用直式記下來。

(每題 4 分，共 20 分)

1. 教室裡有 27 個男生，女生比男生多 9 人，女生有幾人？

( ) 人

2. 少均有 65 元，爸爸又給他 7 元，他現在有幾元？

( ) 元

3. 一盒巧克力 78 元，一盒糖果 7 元，一盒巧克力比一盒糖果貴幾元？

( ) 元

4. 花園裡有 27 隻蝴蝶，飛走 17 隻，還剩下幾隻蝴蝶？

( ) 隻

5. 玉萍有 61 張貼紙，淑美比玉萍少 20 張，淑美有幾張貼紙？

( ) 張