

一年 班 號 姓名：

① 看月曆回答問題。

(每格 2 分，共 24 分)

5 月						
日	一	二	三	四	五	六
		1	2	3	4	5
6	7	8	9	10	11	12
13	14	15	16	17	18	19
20	21	22	23	24	25	26
27	28	29	30	31		

- 5 月共有 (4) 個星期一。
- 如果今天是 5 月 9 日；明天是 (5) 月 (10) 日，星期 (四)；昨天是 (5) 月 (8) 日，星期 (三)。
- 如果今天是 5 月 28 日；明天是 (5) 月 (29) 日，星期 (二)；昨天是 (5) 月 (27) 日。

② 算算看，用直式記下來。

(每題 3 分，共 12 分) (本題做法略)

1. $76 - 5 = (71)$ 2. $42 + 5 = (47)$

$$\begin{array}{r} 76 \\ - 5 \\ \hline 71 \end{array}$$

$$\begin{array}{r} 42 \\ + 5 \\ \hline 47 \end{array}$$

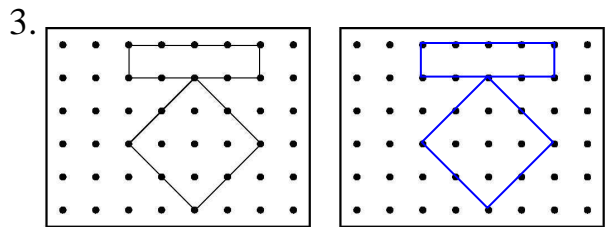
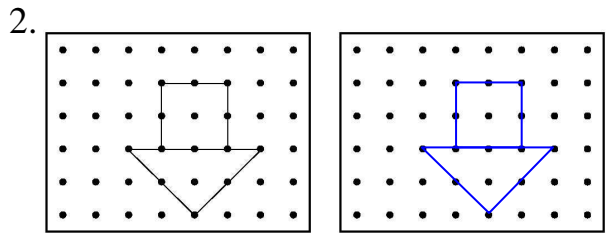
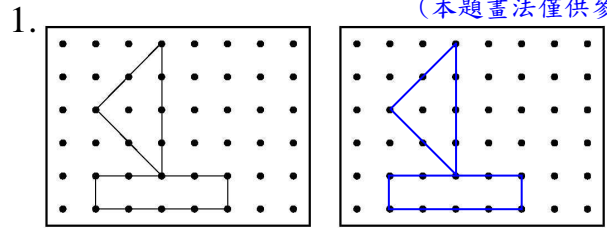
3. $51 - 21 = (30)$ 4. $39 + 30 = (69)$

$$\begin{array}{r} 51 \\ - 21 \\ \hline 30 \end{array}$$

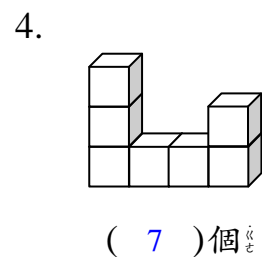
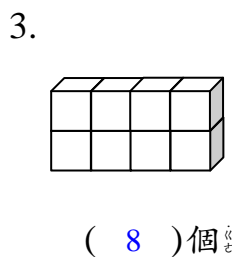
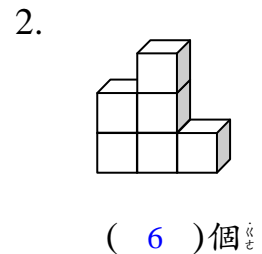
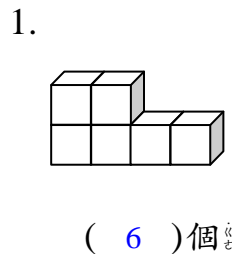
$$\begin{array}{r} 39 \\ + 30 \\ \hline 69 \end{array}$$

③ 在釘板上畫出和右邊一樣樣的圖形。(每題 4 分，共 12 分)

(本題畫法僅供參考)



④ 數一數，下面形體是用幾個小立方體排成的？(每題 3 分，共 12 分)



5 寫出直式和答案。

(每題4分，共20分) (本題做法略)



1. 橘子和蘋果一共有幾顆？

$$\begin{array}{r} \text{直式：} \\ 12 \\ + 5 \\ \hline 17 \end{array}$$

(17) 顆

2. 葡萄和西瓜一共有幾顆？

$$\begin{array}{r} \text{直式：} \\ 25 \\ + 4 \\ \hline 29 \end{array}$$

(29) 顆

3. 葡萄和蘋果相差幾顆？

$$\begin{array}{r} \text{直式：} \\ 25 \\ - 5 \\ \hline 20 \end{array}$$

(20) 顆

4. 橘子和西瓜相差幾顆？

$$\begin{array}{r} \text{直式：} \\ 12 \\ - 4 \\ \hline 8 \end{array}$$

(8) 顆

5. 蘋果比葡萄多8顆，橘子和葡萄一共有幾顆？

$$\begin{array}{r} \text{直式：} \\ 25 \\ + 8 \\ \hline 33 \end{array}$$

(33) 顆

6 算算看，再用直式記下來。

(每題4分，共20分) (本題做法僅供參考)

1. 教室裡有27個男生，女生比男生多9人，女生有幾人？

$$27 + 9 = 36$$

$$\begin{array}{r} 27 \\ + 9 \\ \hline 36 \end{array}$$

(36) 人

2. 少均均有65元，爸爸又給他7元，他現在有幾元？

$$65 + 7 = 72$$

$$\begin{array}{r} 65 \\ + 7 \\ \hline 72 \end{array}$$

(72) 元

3. 一盒巧克力78元，一盒糖果7元，一盒巧克力比一盒糖果貴幾元？

$$78 - 7 = 71$$

$$\begin{array}{r} 78 \\ - 7 \\ \hline 71 \end{array}$$

(71) 元

4. 花園裡有27隻蝴蝶，飛走17隻，還剩下幾隻蝴蝶？

$$27 - 17 = 10$$

$$\begin{array}{r} 27 \\ - 17 \\ \hline 10 \end{array}$$

(10) 隻

5. 玉萍有61張貼紙，淑美比玉萍少20張，淑美有幾張貼紙？

$$61 - 20 = 41$$

$$\begin{array}{r} 61 \\ - 20 \\ \hline 41 \end{array}$$

(41) 張