


國小數學 1 下 第三次月考卷(A)第七單元~第九單元

一年 班 號 姓名：

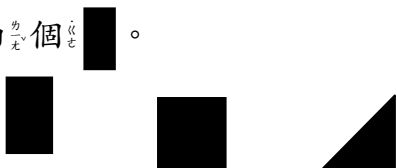
① 想想看，可以拼出什麼圖形？把答案圈起來。

(每題 4 分，共 12 分)


1. 用兩個



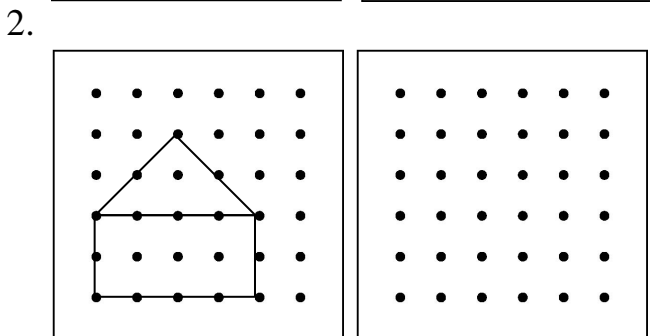
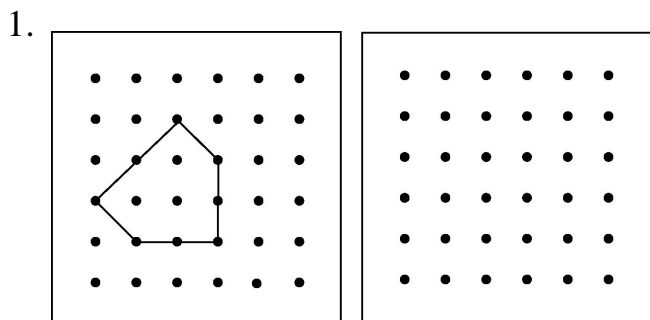
2. 用兩個



3. 用兩個



② 在釘板上畫出和左邊一樣樣的圖形。(每題 5 分，共 10 分)



③ 看月曆回答问题。

(每格 2 分，共 22 分)

12 月						
日	一	二	三	四	五	六
/	/	/	/	/	1	2
3	4	5	6	7	8	9
10	11	12	13	14	15	16
17	18	19	20	21	22	23
24	25	26	27	28	29	30
31	/	/	/	/	/	/





- 12 月有()個星期日。
- 聖誕節是 12 月 25 日星期()。
- 12 月 12 日是媽媽的生日，小英在媽媽生日的前一天做了一張生日卡片要送給媽媽，小英做卡片的日期是()月()日星期()。
- 11 月的最後一天是星期()。
- 今天()是 12 月 8 日星期()，明天是 12 月()日星期()，昨天是 12 月()日星期()。

④ 按照發生時間的先後順序，在□裡填入 1、2、3、4。

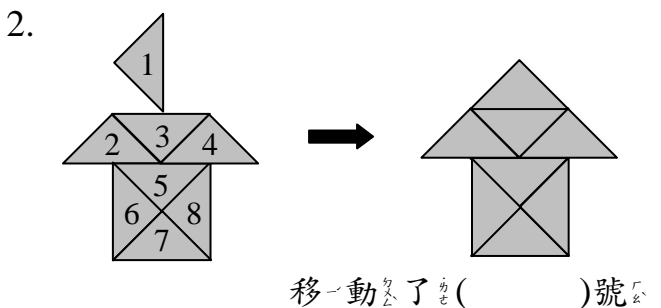
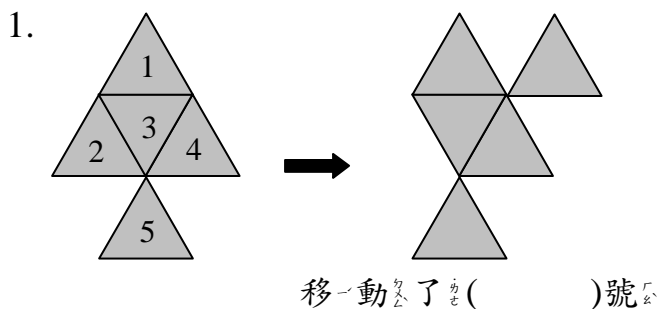
(每格 2 分，共 8 分)

- 8 月 9 日 3 月 16 日
 5 月 12 日 10 月 1 日


5 一、二、三、四、五、六、七、八、九、十、十一、十二月中誰先先生生日？在□裡填入1、2、3、4。(每格3分，共12分)

2月18日 	6月3日 
10月15日 	6月13日 

6 想一想，移一動了幾號圖形？(每題5分，共10分)



7 一共用了幾個？(每題2分，共6分)



8 算算看，再用直式記記看。(每題4分，共20分)

1. 池塘裡有21隻黑天鵝和6隻白天鵝，一共有幾隻天鵝？

()隻

2. 小花有28張貼紙，用掉7張後，還剩下幾張貼紙？

()張

3. 公車上原有45個人，15個人下車後，還剩下幾個人？

()個人

4. 有44顆紅蘋果，青蘋果比紅蘋果少20顆，青蘋果有幾顆？

()顆

5. 花園裡有37朵黃花，紅花比黃花多4朵，紅花有幾朵？

()朵