

國小數學 1 下 第三次月考卷(A)第七單元~第九單元

一年 班 號 姓名：

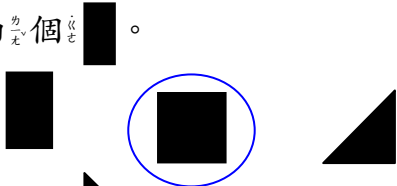
① 想想看，可以拼出什麼圖形？把答案圈起來。

(每題 4 分，共 12 分)

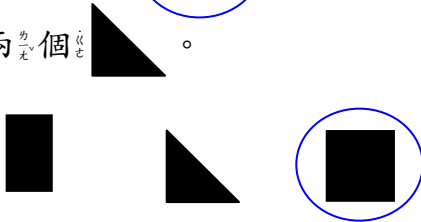
1. 用兩個。



2. 用兩個。



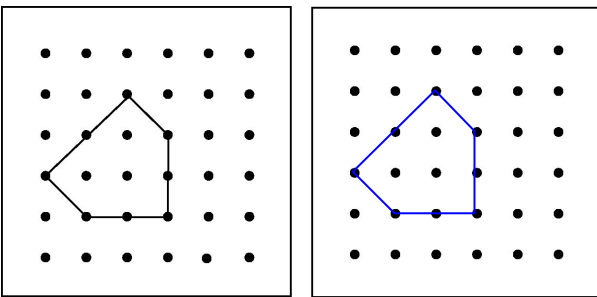
3. 用兩個。



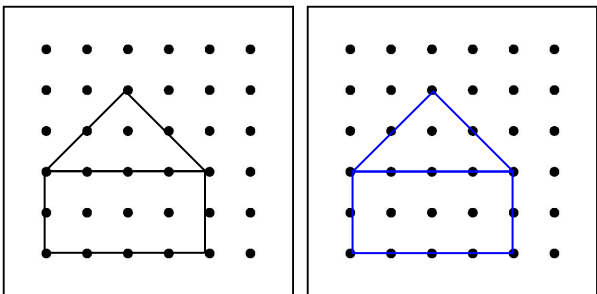
② 在釘板上畫出和左邊一樣樣的圖形。(每題 5 分，共 10 分)

(本題畫法僅供參考)

1.



2.



③ 看月曆回答问题。

(每格 2 分，共 22 分)

12 月						
日	一	二	三	四	五	六
/	/	/	/	/	1	2
3	4	5	6	7	8	9
10	11	12	13	14	15	16
17	18	19	20	21	22	23
24	25	26	27	28	29	30
31	/	/	/	/	/	/

1. 12 月有 (5) 個星期日。

2. 聖誕節是 12 月 25 日星期 (一)。

3. 12 月 12 日是媽媽的生日，小英在媽媽生日的前一天做了一張生日卡片要送給媽媽，小英做卡片的日期是 (12) 月 (11) 日星期 (一)。

4. 11 月的最後一天是星期 (四)。

5. 今天 12 月 8 日星期 (五)，明天是 12 月 (9) 日星期 (六)，昨天是 12 月 (7) 日星期 (四)。





④ 按照發生時間的先後順序，在 裡填入 1、2、3、4。

(每格 2 分，共 8 分)

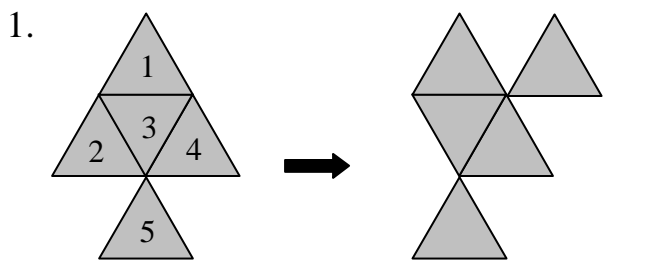
3 8 月 9 日 1 3 月 16 日

2 5 月 12 日 4 10 月 1 日

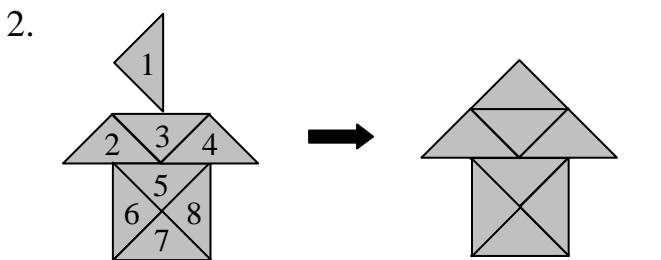
5 一、二、三、四、五、六、七、八、九、十、十一、十二、月、日、時、分、秒、誰、先、生、日、? 在 裡、填、入、1、2、3、4。(每格3分,共12分)

2月18日  <input type="text" value="1"/>	6月3日  <input type="text" value="2"/>
10月15日  <input type="text" value="4"/>	6月13日  <input type="text" value="3"/>


6 想一想、想一想,移一動了、幾、號、圖、形、板、呢、? (每題5分,共10分)



移一動了(2)號



移一動了(1)號

7 一、共、用、了、幾、個、? (每題2分,共6分)



8 算、算、看、再、用、直、式、記、記、看。(每題4分,共20分) (本題做法僅供參考)

1. 池塘裡有21隻黑天鵝和6隻白天鵝,一共幾隻天鵝?

$$\begin{array}{r} 21 + 6 = 27 \\ \underline{\quad 6} \\ 27 \end{array}$$

(27)隻

2. 小花有28張貼紙,用掉7張後,還剩下幾張貼紙?

$$\begin{array}{r} 28 - 7 = 21 \\ \underline{\quad 7} \\ 21 \end{array}$$

(21)張

3. 公車上原有45個人,15個人下車後,還剩下幾個人?

$$\begin{array}{r} 45 - 15 = 30 \\ \underline{\quad 15} \\ 30 \end{array}$$

(30)個人

4. 有44顆紅蘋果,青蘋果比紅蘋果少20顆,青蘋果有幾顆?

$$\begin{array}{r} 44 - 20 = 24 \\ \underline{\quad 20} \\ 24 \end{array}$$

(24)顆

5. 花園裡有37朵黃花,紅花比黃花多4朵,紅花有幾朵?

$$\begin{array}{r} 37 + 4 = 41 \\ \underline{\quad 4} \\ 41 \end{array}$$

(41)朵