


① 按照順序填填看看。

(每格 1 分，共 10 分)


- | | | | | | | |
|----|----|--|----|----|--|----|
| 65 | 66 | | 68 | 69 | | 71 |
|----|----|--|----|----|--|----|
- | | | | | | | |
|----|----|--|----|--|----|----|
| 42 | 44 | | 48 | | 52 | 54 |
|----|----|--|----|--|----|----|
- | | | | | | | |
|----|----|--|----|----|--|----|
| 55 | 60 | | 70 | 75 | | 85 |
|----|----|--|----|----|--|----|
- | | | | | | | |
|----|----|----|--|----|----|--|
| 15 | 25 | 35 | | 55 | 65 | |
|----|----|----|--|----|----|--|
- | | | | | | | |
|----|----|----|--|--|----|----|
| 23 | 22 | 21 | | | 18 | 17 |
|----|----|----|--|--|----|----|

② 用 10 和 1 畫畫看看，再回答問題。(每題 9 分，共 18 分)

1. 買一個  28 元，付 18 元，夠不夠？(夠，不夠)

10 1 1 1 1 1 1 1 1

如果不够，還差 () 個 10 才夠。

2. 買一包  46 元，付 33 元，夠不够？(夠，不够)

10 10 10 1 1 1

如果不够，還差 () 個 10 才夠。

③ 填填看看。(每格 2 分，共 26 分)


1.

79	71	76	73	72	75
----	----	----	----	----	----

71~79 的數中，還少了哪一些？
 少了 ()、() 和 ()。

2. 69 是 () 個一和 () 個十合起來的。

3. 從 7、4、3 三張數字卡中選出兩張數字卡，可以一排列成最大的二位数是 ()。

4. 把  裡頭的數由小到大排列出來。

65	47	91
----	----	----

小 () → () → () 大

5. 一盒有 10 枝鉛筆，7 盒又 9 枝，是 () 枝鉛筆，再加一盒，一共是 () 枝鉛筆。

6. 「86」的個位數字是 ()，十位數字是 ()。

④ 想一想，填一填，可能是哪一些數？(每題 3 分，共 6 分)

1.

十位	個位	十位數字是 6，而且比 63 大的數。
6	?	

 ()

2.

十位	個位	個位數字是 1，而且比 48 大的數。
?	1	

 ()

5 用一個算式記下看。
(每題4分,共20分)

1. 姐姐排隊買甜甜圈,排在她前面的有6個人,排在她後面的有3個人,一共有多少個人在排隊?

()個人

2. 媽媽買了7朵紅花、4朵黃花和5朵白花,一共買了幾朵花?

()朵

3. 爸爸買了12罐飲料,喝掉4罐,又買了5罐,現在一共有幾罐飲料?

()罐

4. 湘湘看了一本16頁的書,昨天看了3頁,今天看了5頁,還剩下幾頁沒看完?

()頁

5. 曉燕買了6個肉包和5個菜包,吃掉2個後,還剩下幾個包子?

()個

6 想一想,把做法和答案寫下來。(每題4分,共12分)

盒子裡有8顆草莓泡芙和4顆草莓泡芙。

1. 盒子裡一共有幾顆泡芙?

()顆

2. 盒子裡有12顆泡芙,其中8顆是香草泡芙,草莓泡芙有幾顆?

()顆

3. 盒子裡有12顆泡芙,其中4顆是草莓泡芙,香草泡芙有幾顆?

()顆

7 寫出做法和答案。
(每題4分,共8分)

1. 小萱的撲滿裡有7元,錢包裡的錢比撲滿多11元,錢包裡有多少元?

()元

2. 媽媽買了14個肉包和一些菜包,肉包比菜包多6個,一共買了幾個菜包?

()個