


① 按照順序填填看看。

(每格 1 分, 共 10 分)


- 65 66 67 68 69 70 71
- 42 44 46 48 50 52 54
- 55 60 65 70 75 80 85
- 15 25 35 45 55 65 75
- 23 22 21 20 19 18 17

② 用 10 和 1 畫畫看看, 再回答問題。(每題 9 分, 共 18 分)

1. 買一個  28 元, 付 18 元, 夠不夠? (夠, 不夠)

10 10
 1 1 1 1 1 1 1 1

如果不够, 還差 (1) 個 10 才夠。

2. 買一包  46 元, 付 33 元, 夠不够? (夠, 不够)

10 10 10 10 10
 1 1 1

如果不够, 還差 (2) 個 10 才夠。

③ 填填看看。(每格 2 分, 共 26 分)


1.

79	71	76	73	72	75
----	----	----	----	----	----

71~79 的數中, 還少了哪一些?
少了 (74)、(77) 和 (78)。

2. 69 是 (9) 個一和 (6) 個十合起來的。

3. 從 7、4、3 三張數字卡中選出兩張數字卡, 可以排成最大的二位数是 (74)。

4. 把  裡數由小到大排出來。





小 (47) → (65) → (91) 大

5. 一盒有 10 枝鉛筆, 7 盒又 9 枝, 是 (79) 枝鉛筆, 再加一盒, 一共是 (89) 枝鉛筆。

6. 「86」的個位數字是 (6), 十位數字是 (8)。

④ 想一想, 填一填, 可能是哪一些數?(每題 3 分, 共 6 分)

1.

十位	個位	十位數是 6, 而且比 63 大的數。
6	?	(64、65、66、67、68、69)

2.

十位	個位	個位數是 1, 而且比 48 大的數。
?	1	(51、61、71、81、91)

5 用一個算式記下看。(每題4分,共20分)

1. 姐姐排隊買甜甜圈,排在她前面的有6個人,排在她後面的有3個人,一共有多少個人在排隊?

$$6+1+3=10$$

(10) 個人

2. 媽媽買了7朵紅花、4朵黃花和5朵白花,一共買了幾朵花?

$$7+4+5=16$$

(16) 朵

3. 爸爸買了12罐飲料,喝掉4罐,又買了5罐,現在一共有幾罐飲料?

$$12-4+5=13$$

(13) 罐

4. 湘湘看了一本16頁的書,昨天看了3頁,今天看了5頁,還剩下幾頁沒看完?

$$16-3-5=8$$

(8) 頁

5. 曉燕買了6個肉包和5個菜包,吃掉2個後,還剩下幾個包子?

$$6+5-2=9$$

(9) 個

6 想一想,把做法和答案寫下來。(每題4分,共12分)

盒子裡有8顆香草莓泡芙和4顆草莓泡芙。

1. 盒子裡一共有幾顆泡芙?

$$8+4=12$$

(12) 顆

2. 盒子裡有12顆泡芙,其中8顆是香草莓泡芙,草莓泡芙有幾顆?

$$12-8=4$$

(4) 顆

3. 盒子裡有12顆泡芙,其中4顆是草莓泡芙,香草莓泡芙有幾顆?

$$12-4=8$$

(8) 顆

7 寫出做法和答案。(每題4分,共8分)

1. 小萱的撲滿裡有7元,錢包裡的錢比撲滿多11元,錢包裡有多少元?

$$7+11=18$$

(18) 元

2. 媽媽買了14個肉包和一些菜包,肉包比菜包多6個,一共買了幾個菜包?

$$14-6=8$$

(8) 個