
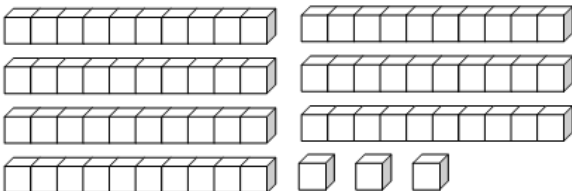


一年 班 號 姓名：

① 數一數，有多少？填在()裡。(每題4分，共8分)


1. 


一共共有(65)朵


2. 

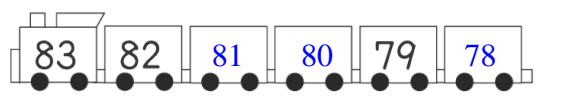
一共共有(73)個

② 按照順序填填看。(每格1分，共12分)

1. 

2. 

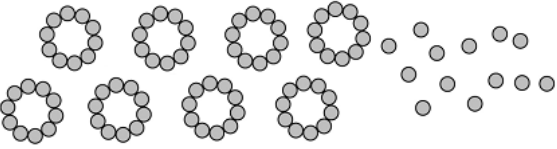
3. 

4. 

③ 填填看。(每格2分，共14分)


1. 一盒糖果有 10 顆，6 盒又 4 顆是(64)顆糖果；再加一盒，一共是(74)顆糖果。

2. 有 70 顆水餃，吃掉 1 顆，剩下(69)顆水餃；再吃掉 10 顆，剩下(59)顆水餃。

3. 

有(8)個十和(13)個一，合起來是(93)。


④ 畫畫看，再回答問題。(每題6分，共18分)

1. 買一個  39元，付 15 元，夠不夠？(夠，不夠)

10 10 10 10

1 1 1 1 1


如果不够，還差(3)個 10 才夠。

2. 買一杯  45元，付 23 元，夠不夠？(夠，不夠)

10 10 10 10 10

1 1 1

如果不够，還差(3)個 10 才夠。

3. 買一個  64元，付 50 元，夠不夠？(夠，不夠)

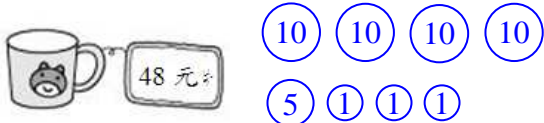
10 10 10 10 10 10 10

如果不够，還差(2)個 10 才夠。

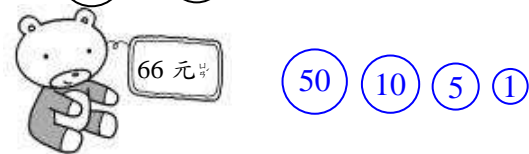
5 想一想，要怎麼付錢？

(每題 4 分，共 8 分) (本題畫法僅供參考)

1. 用 10、5 和 1 畫畫看。



2. 用 50、10、5 和 1 畫畫看。



6 寫出算式和答案。

(每題 5 分，共 15 分) (本題做法僅供參考)

1. 小美有 15 顆巧克力，阿豪有 6 顆，小美比阿豪多幾顆巧克力？

$$15 - 6 = 9$$

(9) 顆

2. 荷葉上有 10 隻青蛙，又跳來 6 隻後，荷葉上一共幾隻青蛙？

$$10 + 6 = 16$$

(16) 隻

3. 盒子裡有 12 枝鉛筆，桌上有 7 枝，桌上的鉛筆比盒子裡少幾枝？

$$12 - 7 = 5$$

(5) 枝

7 用一個算式記記看。

(每題 5 分，共 25 分)

1. 浩浩有 17 元，買尺用了 6 元，買膠水用了 4 元，還剩下幾元？

$$17 - 6 - 4 = 7$$

(7) 元

2. 媽媽烤了 12 個布丁，妹妹吃了 3 個後，媽媽又烤了 5 個，現在共有幾個布丁？

$$12 - 3 + 5 = 14$$

(14) 個

3. 小荷排隊買電影票，在她前面有 5 個人，在她後面有 7 個人，一共有幾個人排隊買票？

$$5 + 1 + 7 = 13$$

(13) 個人

4. 同德有 8 元，凱立有 5 元，兩人的錢合買一杯 6 元的飲料後，還剩下幾元？

$$8 + 5 - 6 = 7$$

(7) 元

5. 有紅筆、藍筆和黑筆共 12 枝，其中紅筆有 2 枝，藍筆有 8 枝，黑筆有幾枝？

$$12 - 2 - 8 = 2$$

(2) 枝