
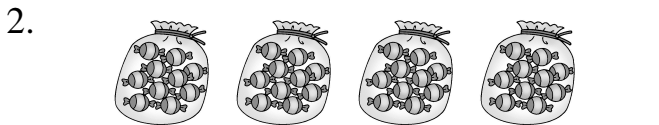


一年 班 號 姓名：

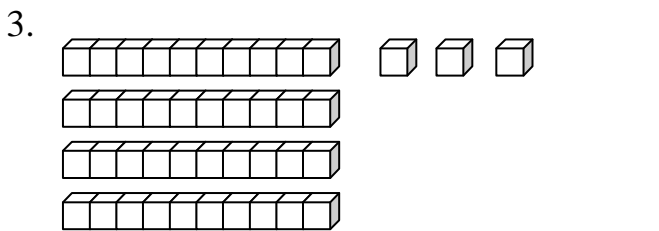
① 數一數，有多少？填在()裡。(每題4分，共12分)



有()個蘋果

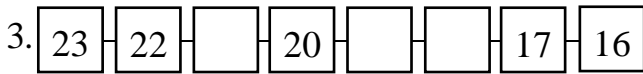
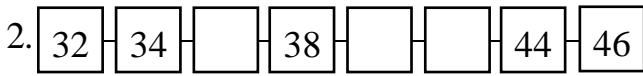
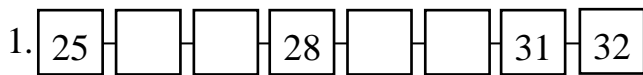


有()顆糖果



有()個

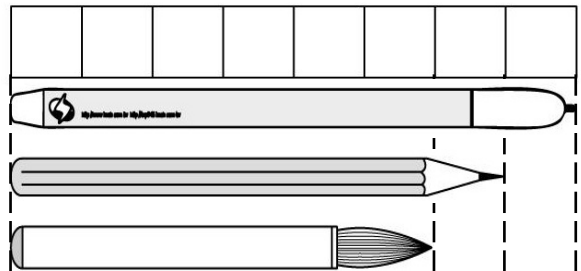
② 按照順序填填看。(每格2分，共20分)



③ 填填看。(每格3分，共12分)


1. $5 + 7 = 12$	2. $15 - 6 = 9$
$5 + 8 = ()$	$15 - 7 = ()$
$5 + 9 = ()$	$15 - 8 = ()$

④ 看圖回答問題。(每格2分，共10分)




- 原子的筆的長度是和()個 一樣長；鉛筆的長度和()個 一樣長；毛筆的長度和()個 一樣長。
- 一枝鉛筆和一枝毛筆接起來和()個 一樣長。
- 一枝原子的筆和一枝毛筆相差()個 。

⑤ 先把10個10個圈起來，再數數看，一共有幾個？(每題5分，共10分)



()個

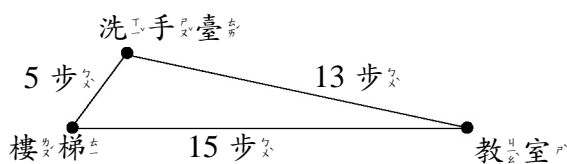


()個

⑥ 下面是 3 位同學收集的點數，數一數，再由多到少寫下 1、2、3。(每格 1 分，共 6 分)

阿宏	美美	小潔
() 點	() 點	() 點
()	()	()

⑦ 小惠用自己的步長測量到每個地方的距離。用算式記一記。(每題 5 分，共 10 分)



1. 從教室走到洗手臺，再到樓梯，一共要走幾步？

() 步

2. 小惠從樓梯走到教室，已經走了 8 步，還要再走幾步才能到教室？

() 步

⑧ 寫出算式和答案。(每題 4 分，共 20 分)

1. 姐姐到商店買了一枝 6 元的棒棒糖，和一顆 8 元的茶葉蛋，一共要付幾元？

() 元

2. 店裡有 17 個麵包，賣掉 8 個，還剩下幾個麵包？

() 個

3. 媽媽買了 5 朵紅花和 9 朵黃花，媽媽一共買了幾朵花？

() 朵

4. 凱凱有 16 顆彈珠，安安有 8 顆彈珠，凱凱比安安多幾顆彈珠？

() 顆

5. 桌上有 7 枝紅筆，藍筆有 5 枝，桌上一共有幾枝筆？

() 枝