
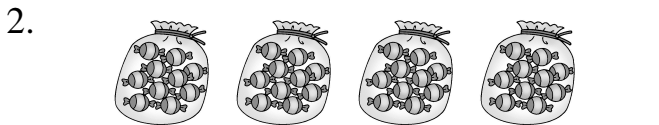


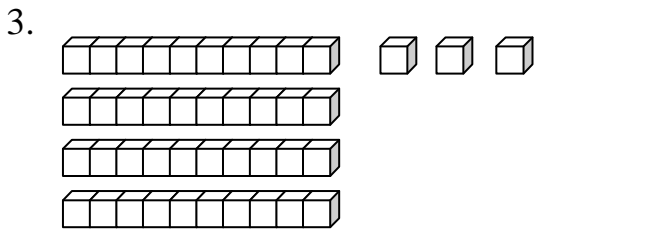
① 數一數，有多少？填在()裡。(每題4分，共12分)



有(25)個蘋果。

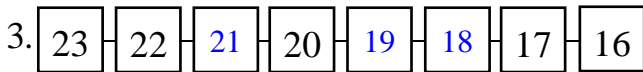
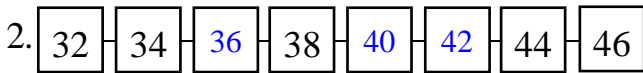
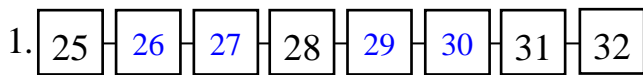


有(40)顆糖果。



有(43)個。

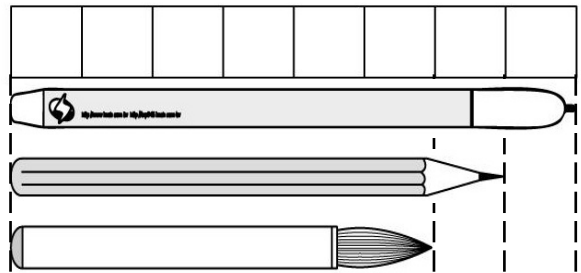
② 按照順序填填看。(每格2分，共20分)



③ 填填看。(每格3分，共12分)

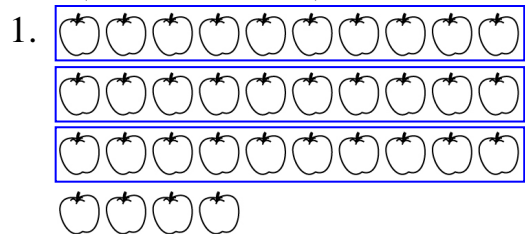
1. $5 + 7 = 12$	2. $15 - 6 = 9$
$5 + 8 = (13)$	$15 - 7 = (8)$
$5 + 9 = (14)$	$15 - 8 = (7)$

④ 看圖回答問題。(每格2分，共10分)

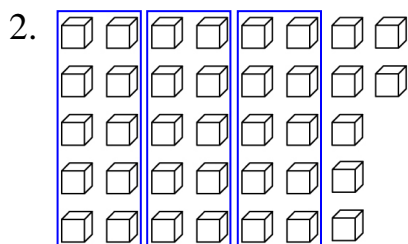


- 原子的筆的長度是(8)個 一樣長；鉛筆的長度是(7)個 一樣長；毛筆的長度是(6)個 一樣長。
- 一枝鉛筆和一枝毛筆接起來是(13)個 一樣長。
- 一枝原子的筆和一枝毛筆相差(2)個 。

⑤ 先把10個10個圈起來，再數數看，一共有幾個？(每題5分，共10分)



(34)個

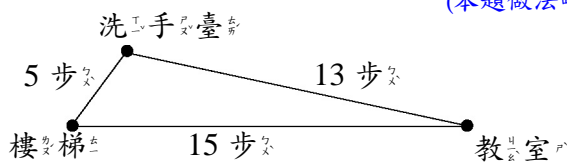


(37)個

6 下面是 3 位同學收集的點數，數一數，再由多到少寫下 1、2、3。(每格 1 分，共 6 分)

阿宏	美美	小潔
(38) 點	(35) 點	(41) 點
(2)	(3)	(1)

7 小惠用自己的步長測量到每個地方的距離。用算式記一看。(每題 5 分，共 10 分)
(本題做法略)



1. 從教室走到洗手臺，再到樓梯，一共要走幾步？
 $13+5=18$

(18) 步

2. 小惠從樓梯走到教室，已經走了 8 步，還要再走幾步才能到教室？
 $15-8=7$

(7) 步

8 寫出算式和答案。
(每題 4 分，共 20 分) (本題做法略)

1. 姐姐到商店買了一枝 6 元的棒棒糖，和一顆 8 元的茶葉蛋，一共要付幾元？
 $6+8=14$

(14) 元

2. 店裡有 17 個麵包，賣掉 8 個，還剩下幾個麵包？
 $17-8=9$

(9) 個

3. 媽媽買了 5 朵紅花和 9 朵黃花，媽媽一共買了幾朵花？
 $5+9=14$

(14) 朵

4. 凱凱有 16 顆彈珠，安安有 8 顆彈珠，凱凱比安安多幾顆彈珠？
 $16-8=8$

(8) 顆

5. 桌上有 7 枝紅筆，藍筆有 5 枝，桌上一共有幾枝筆？
 $7+5=12$

(12) 枝