

① 數一數，有多少？多的在□裡打√。(每題3分，共9分)

1.

() 朵	() 朵
<input type="checkbox"/>	<input type="checkbox"/>

2.

() 枝	() 枝
<input type="checkbox"/>	<input type="checkbox"/>

3.

() 個	() 個
<input type="checkbox"/>	<input type="checkbox"/>

② 按照順序填填看看。

(每格2分，共16分)

1. 37→38→()→()→41
2. 43→33→()→13→()
3. 26→28→()→()→34
4. 15→20→()→30→()

③ 看圖填填看看。(每題3分，共12分)



1. ㄅ排在第()個。
2. ㄇ排在第()個。
3. 排在ㄆ後面第2個人是第()個。
4. 排在ㄏ前面第3個人是第()個。

④ 把做法和答案寫下來。(每題8分，共16分)

1. 齊茹從書桌走到衣櫃走了6步，再走到床又走了8步，齊茹一共走了幾步？

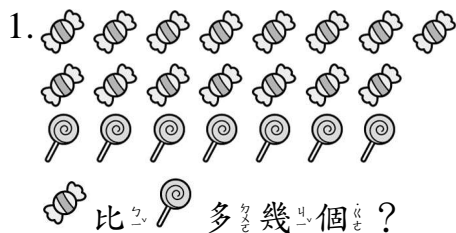
() 步

2. 紅色緞帶和 15 個花片一樣長，藍色緞帶和 7 個花片一樣長，兩條緞帶相差幾個花片長？

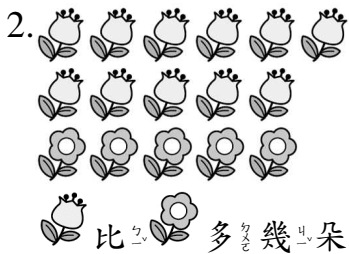
() 個

5 看圖寫出算式。

(每題3分,共6分)



() - () = ()







() - () = ()

6 想一想,填填看看。

(每格1分,共15分)

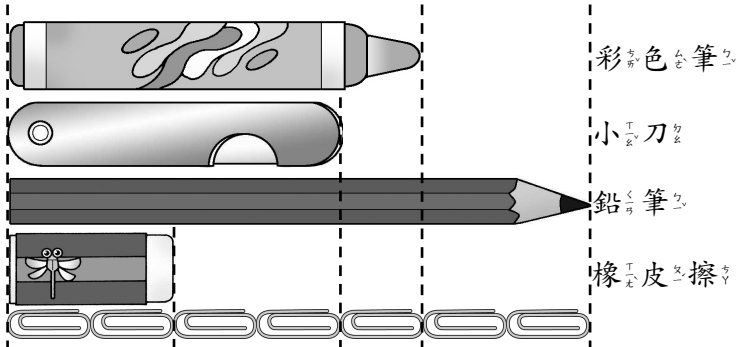
1. $12 - 2 = 10$ 2. $6 + 4 = 10$
 $12 - 3 = ()$ $6 + 5 = ()$
 $12 - 4 = ()$ $6 + 6 = ()$
 $12 - 5 = ()$ $6 + 7 = ()$
 $12 - 6 = ()$ $6 + 8 = ()$
 $12 - 7 = ()$ $6 + 9 = ()$
3. $7 + 4 = 11$, $4 + 7 = ()$
 $5 + 8 = 13$, $8 + 5 = ()$
 $9 + 6 = 15$, $6 + 9 = ()$
 $8 + 7 = 15$, $7 + 8 = ()$
 $4 + 9 = 13$, $9 + 4 = ()$

7 比一比,最大的在□裡打√,最小的打×。(每格1分,共4分)

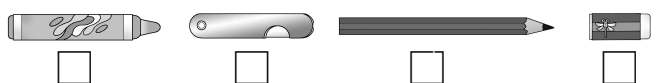
 23  47  32  50



8 看圖回答問題。

(每題2分,共10分)



1. 彩色筆和()個迴紋針一樣長。
2. 鉛筆和()個迴紋針一樣長。
3. 比一比,最長的在□裡打√,最短的打×。



4.  和  接起來,會和()個迴紋針接起來一樣長。
5. 鉛筆和小刀相差()個迴紋針長。

9 算算看看。(每題6分,共12分)

1. 冰箱裡有 12 瓶牛奶,果汁有 8 瓶,牛奶比果汁多幾瓶?

() 瓶

2. 操場上原來有 8 人,又來了 4 人,操場上一共有幾人?

() 人