

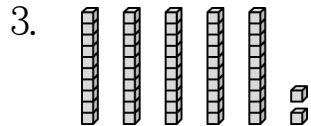
一、填填看看：共 46 分



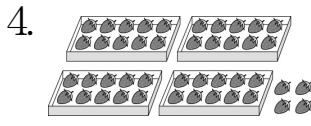
有 () 根



有 () 顆



() 個十
 () 個一
 是 ()。



() 個十
 () 個一
 是 ()。

5.

十位	個位
7	2

() 可以分成 () 個十 () 個一。


6.

十位	個位
3	6

() 可以分成 () 個十 () 個一。

7. 5 個一和 4 個十合起來是 ()，並記在位值表上。

十位	個位



9. 有一個二位数比 85 大，它的個位數字是 5，十位數字是 () 多或少？記在位值表上。

十位	個位
	5

10. 有一個二位数比 23 小，它的個位數字是 5，十位數字是 () 多或少？記在位值表上。

十位	個位
	5

二、圈圈看看：共 6 分

1. 圈出最小的數：
 (100 , 82 , 28)
2. 圈出最大的數：
 (49 , 61 , 93)

三、把符合下面敘述的數連起來：
 來：共 16 分

① 十位數字是 7	ㄅ 91
② 個位數字是 7	ㄆ 47
③ 十位數字是 9	ㄏ 29
④ 個位數字是 9	ㄏ 73

四、哪一堆珠子比較少？請打勾：
 共 2 分

①

()

②

()

五、先圈 10 個一，再寫出有多少多或少：
 共 14 分

1.

() 個十是 ()。

2.

() 個十和 () 個一是 ()。

六、連連看看：共 16 分

①

②

③

④

ㄅ 80 ㄆ 40 ㄏ 50 ㄏ 5