



一、做一做，看一看：共 24 分

1. 小楷有 30 元，他可以買幾枝 10 元的鉛筆？圈一圈，看一看。



() 枝

2. 小辰有 60 元，他可以買幾塊 5 元的橡皮擦？圈一圈，看一看。



() 塊

3. 小駱買了一個 19 元的鉛筆盒，已經付了 3 個 5 元，還要付幾個 5 元？用 ① 畫一畫，看一看。



() 個

二、用 ⑩ 和 ① 畫出下面各的錢數：共 8 分

1. 23

2. 34

三、把正確的錢數連起來：共 24 分



• • •

• • •

ㄗ 7 元

ㄨ 20 元

ㄩ 10 元

• • •

• • •



四、填一填，看一看：共 12 分

1. 5 個 10 元可以換 () 個 50 元，也可以換 () 個 10 元。

2. 4 個 5 元可以換 () 個 10 元，也可以換 () 個 1 元。

五、圈一圈，看一看：共 12 分

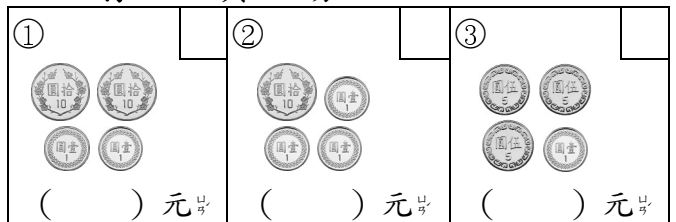
1. 翔翔有 2 個 10 元、3 個 5 元和 8 個 1 元。他的錢夠不夠買一盒 50 元的奶油泡芙？(夠 , 不夠)

2. 佳佳有 2 個 10 元和 8 個 5 元。她的錢夠不夠買一盒 50 元的便當？(夠 , 不夠)

3. 下面的是阿福的錢，(夠 , 不夠) 買一包 78 元的洋芋片。



六、下面各錢有多少錢？寫在 () 裡，再把最少的錢在 打勾：共 12 分



七、怎麼付錢才會剛剛好？圈出兩種不同的付錢方法：共 8 分

