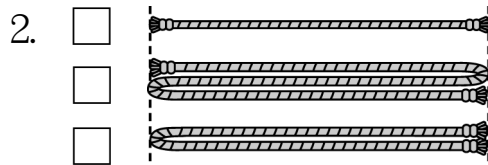
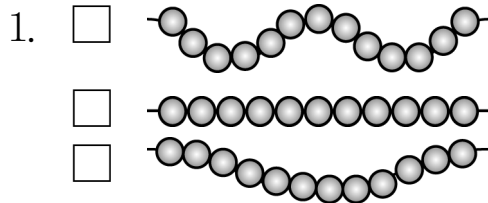
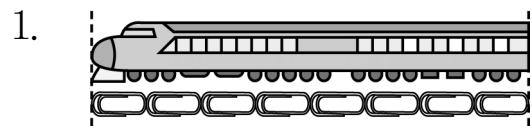



一、最長長的打√：共 4 分



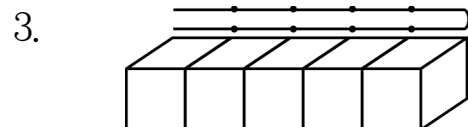
二、看圖填填看看：共 32 分



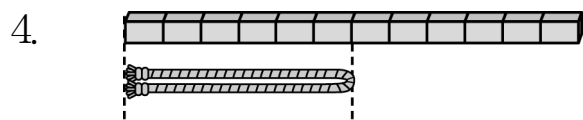
玩具火車和 () 個迴紋針一樣長。



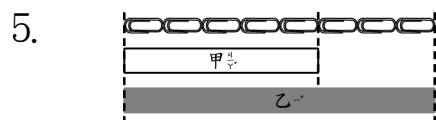
鯨魚和 () 隻海豚一樣長。







繩子打開後和 () 個箱子一樣長。




一條繩子對摺後和 6 條積木一樣長，繩子打開後和 () 條積木一樣長。



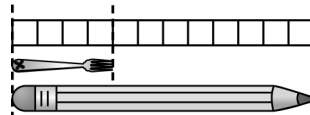
- 甲緞帶有 () 個  長。
- 乙緞帶有 () 個  長。
- 比較長的是 () 緞帶，長 () 個 .

三、一個  代表一步，最長長的打√，最短長的打×：共 8 分



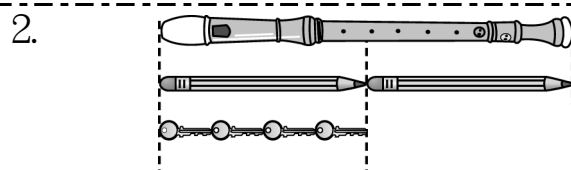
四、看圖做做看看：共 56 分

1. 又子比鉛筆少幾個 \square 長？



算式：

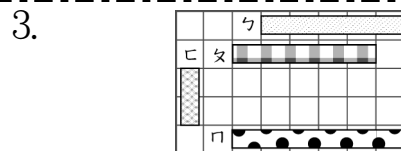
() 個



- 一支直笛和 () 枝鉛筆一樣長。
- 一枝鉛筆和 () 把鑰匙一樣長。
- 一支直笛和幾把鑰匙一樣長？

算式：

() + () = ()
 () 把



- 每條彩帶和幾格一樣長？
 \checkmark () 格 \times () 格
 \square () 格 \square () 格
- 最長的彩帶比最短的彩帶多幾格長？
 算式：
 () 格